

VII-й этап дистанционных учебных смен по учебному предмету «География»

Уважаемые участники смены!

Вам предлагаются для выполнения задания по учебному предмету «География».

Перед выполнением заданий **внимательно** ознакомьтесь с данной инструкцией по проведению VII-го этапа учебных смен по учебному предмету «География».

Инструкция по проведению VII-го этапа учебных смен по учебному предмету «География» в 2025/2026 учебном году

1. Скачать файлы:

- 1) ЗАДАНИЯ География VII-й этап 2025–2026;
- 2) БЛАНК ответов География VII-й этап 2025–2026;
- 3) Карточка участника География VII-й этап 2025–2026.

2. Заполнить в электронном виде карточку участника в MS Excel и сохранить ее с **названием по следующей схеме**: Номер смены_Фамилия_Инициалы_Наименование населённого пункта (например, «7_Белов_АИ_Барановичи»).

3. **Распечатать** файл «БЛАНК ответов География VII-й этап 2025–2026» и заполнить **от руки** сведения об участнике. Поставить собственноручную подпись, подтверждающую **согласие на обработку персональных данных и самостоятельность выполнения заданий**.

4. Внести **разборчиво от руки** свои ответы на вопросы ЗАДАНИЙ в БЛАНК ответов: напротив номера вопроса необходимо указать ответ в виде буквы (А, Б, В или Г), сочетания цифр и букв (А1Б2В3Г4), цифрового значения с единицами измерения или вписать ответ на вопросы открытого типа. Выполнив правильно все задания учебной смены максимально можно получить до 45 баллов.

5. Отсканировать/сфотографировать заполненный БЛАНК ответов и сохранить его в файле формата *.pdf, состоящий из **одной** страницы. **Название данного файла должно совпадать с названием карточки** (см. п. 2).

6. Выслать файлы **карточки** участника (см. п. 2) и **БЛАНКА ответов** (см. п. 5) на электронный адрес geo.smena@mail.ru в период с **10:00 20 апреля 2026 г.** до **18:00 26 апреля 2026 г.** по минскому времени.

Требования к высылаемым файлам и письму:

1. В **теме** письма **ОБЯЗАТЕЛЬНО** продублировать название карточки участника (например, «7_Белов_АИ_Барановичи» или «7_Иванов_ИА_Барановичи_учитель»).

2. Количество прикрепляемых к письму файлов – 2 (два): заполненные **карточка участника** и **БЛАНК ответов** (педагогические работники добавляют к названию файлов слово «учитель»). Внесение корректив в форму БЛАНКА ответов и карточки участника **не допускается**. В файл «Карточка участника» вносится полная, корректная текстовая информация об участнике. Записи в БЛАНКЕ ответов выполняются от руки **разборчиво** ручкой тёмного цвета. Исправления не допускаются. **Формат файла карточки участника** – только *.xlsx, **БЛАНКА ответов** – только *.pdf.

3. Если **учреждение образования** представлено несколькими участниками – их карточки и бланки ответов высылаются **одним письмом** (тема письма – название УО).

РАБОТЫ, НЕ СООТВЕТСТВУЮЩИЕ ТРЕБОВАНИЯМ, НЕ ПРИНИМАЮТСЯ!

В ходе работы соблюдайте требования инструкции!

Желаем успехов в выполнении заданий!

**Задания VII-го этапа дистанционных учебных смен
по учебному предмету «География» в 2025/2026 учебном году**

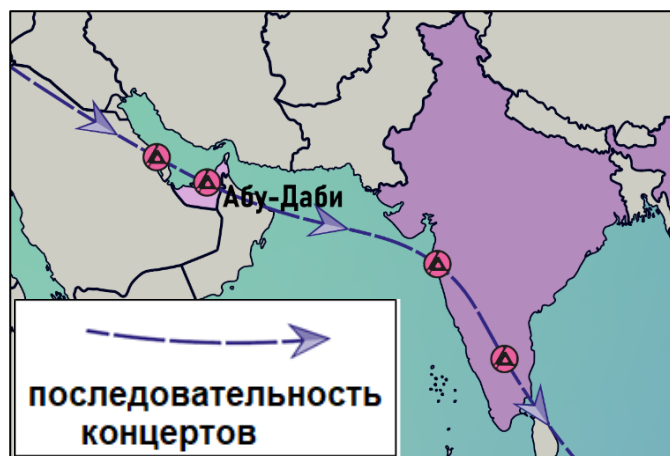
1. На картинке показана экспортная специализация государств Латинской Америки в производстве сельскохозяйственной продукции и рыбы. Укажите, какому государству соответствует перечень продуктов питания напротив вопросительного знака? (1 балл)

А) Аргентина; Б) Коста-Рика; В) Уругвай; Г) Чили.

	coffee	soybeans	corn	sugarcane	beef
	soybeans	corn	wheat	beef	
	tomatoes	avocados	berries	corn	beans sugarcane
	coffee	bananas	flowers	cacao	
	asparagus	grapes	avocados	coffee	cacao
?	grapes	apples	kiwis	wine	salmon
	bananas	flowers	cacao	coffee	shrimp
	soybeans	corn	wheat	beef	cotton
	beef	soybeans	rice	dairy products	
	coffee	bananas	pineapples	sugarcane	beef

2. Вашему вниманию представлен фрагмент карты «Linkin Park From Zero Tour 2025-2026» и ее легенда. Укажите способ картографического изображения, применяемый для отображения последовательности концертов в рамках тура. (1 балл)

- А) знаков движения;
- Б) значковый;
- В) линейный;
- Г) псевдоизолиний.



3. На инфографике показаны районы-лидеры по валовому сбору плодов и ягод в Беларуси. Какой административный район занимает первое место в Беларуси по данному показателю? (1 балл)

Районы — лидеры по валовому сбору плодов и ягод в сельхозорганизациях и крестьянско-фермерских хозяйствах в 2021 году



- А) Дзержинский;
Б) Малоритский;

- В) Столбцовский;
Г) Столинский.

4. Вашему вниманию представлено облако слов, связанное с кругосветным путешествием известного английского ученого XIX в. Назовите этого исследователя. (1 балл)

Ваш ответ: _____

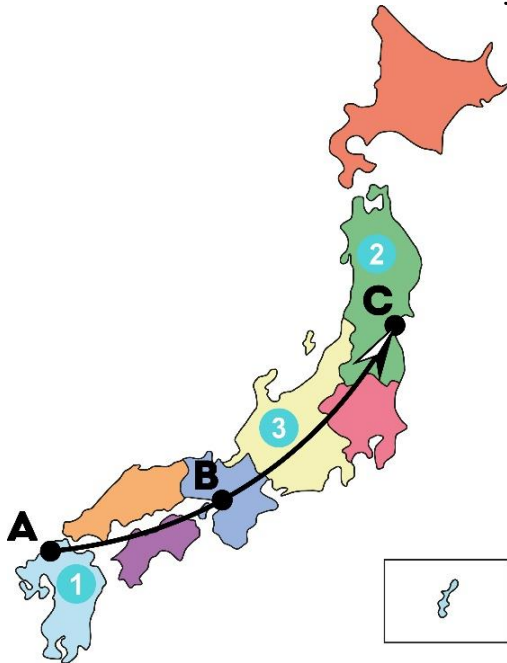


5. Назовите часть речного дна, обозначенную на рисунке красной линией. (1 балл)

Ваш ответ: _____



Ознакомьтесь внимательно с картосхемой Японии и ответьте на следующие три вопроса:



6. Выберите ряд городов, через которые проложен маршрут А – В – С (1 балл):

- А) Кагосима – Нагоя – Токио;
- Б) Нагасаки – Кобе – Аомори;
- В) Фукуока – Осака – Сендай;
- Г) Хиросима – Киото – Фукусима.

7. Назовите административный центр крупнейшего по площади региона Японии (1 балл).

Ваш ответ: _____

8. Сопоставьте регионы, обозначенные цифрами, с их названиями (1 балл):

Номер региона на карте	Название региона
1	А) Тюбу
2	Б) Тохоку
3	В) Кюсю и Окинава

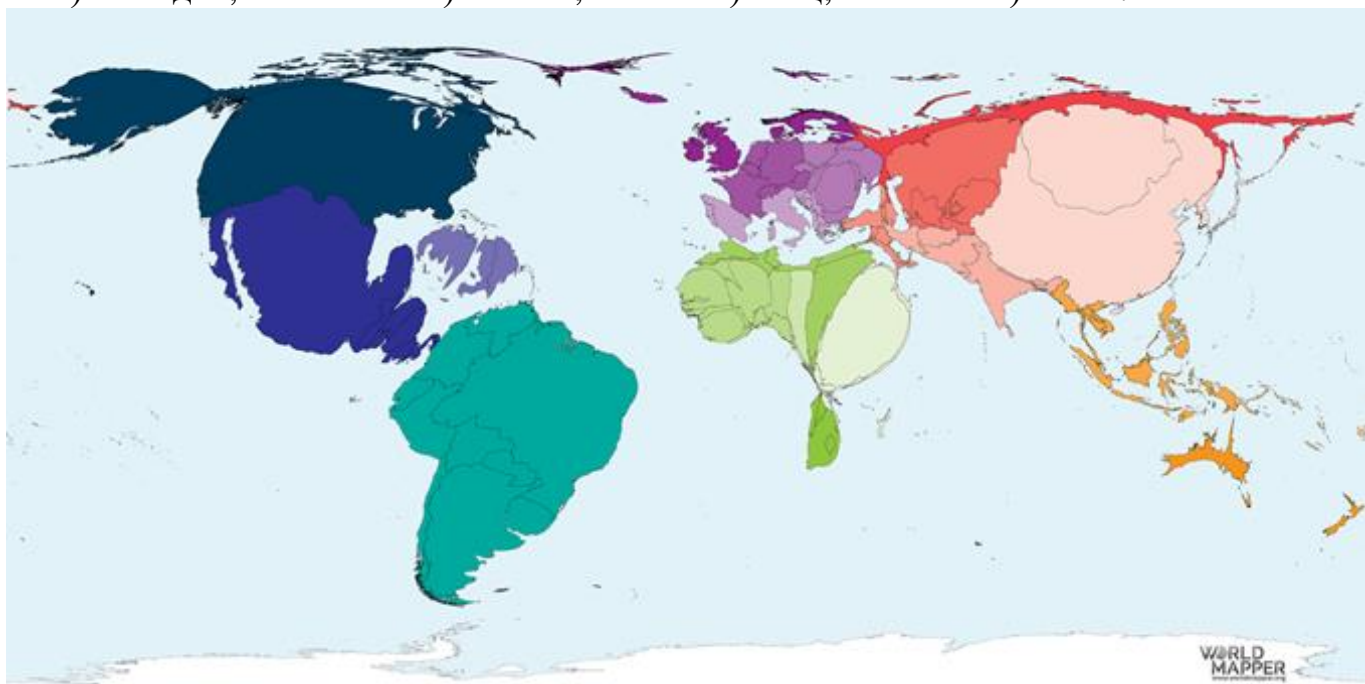
9. Установите соответствие между странами Африки, отмеченными на карте цифрами, и отраслевой структурой их ВВП. (2 балла)

	Структура ВВП (2020 г.)	
	А)	
	Б)	
	В)	
	Г)	
Зеленый цвет – сельское хозяйство	Оранжевый цвет – промышленность	Голубой цвет – сфера услуг

Ваш ответ: _____

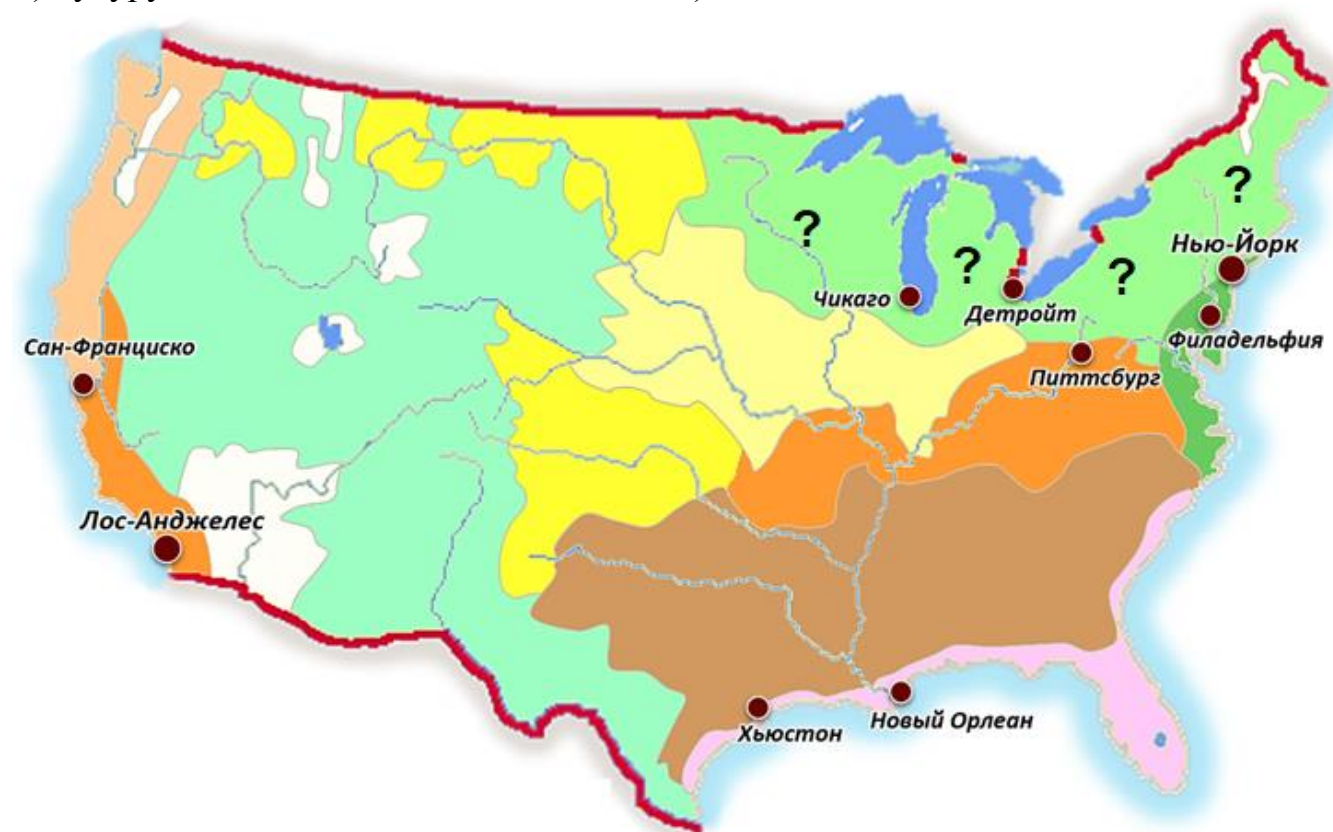
10. География распределения какого вида домашнего скота представлена на карте-анаморфозе? (1 балл)

- А) лошадей; Б) свиней; В) овец; Г) ослов.



11. Зоны специализации сельскохозяйственного производства в США имеют зональное размещение. Какой пояс на картосхеме обозначен знаками вопроса? (1 балл)

- А) бройлерный пояс; В) молочный пояс;
Б) кукурузный пояс; Г) овощной пояс.



12. В таблице представлены страны-лидеры по валовым сборам сельскохозяйственной культуры. Укажите ее. (1 балл)

- А) картофель;
- Б) кофе;
- В) кукуруза;
- Г) сахарный тростник.

2023 г.	
Бразилия	782,6
Индия	490,5
КНР	104,6
Таиланд	94,0
Пакистан	87,6
Мексика	56,0
Индонезия	34,7
Австралия	32,6
Колумбия	32,4
США	29,9
Гватемала	26,4
Филиппины	21,7
ЮАР	17,9
Аргентина	15,4
Египет	15,3
Мир	2 026

13. Установите соответствие между природными зонами Австралии, отмеченные на карте цифрами, и их характеристиками (1 балл).

Природные зоны Австралии	Характеристика
	А) Открытое пространство с травянистым покровом из бородача с отдельно стоящими деревьями или рощами эвкалиптов, акаций и казуарин. Обитают кенгуру, вомбат, страус эму.
	Б) На желтозёмах и краснозёмах растут сухие жестколистные леса и кустарники из эвкалиптов, банксии и ксанторреи. Обитают собака динго, змеи.
	В) Вдоль русел рек распространены скрэбы на серозёмах. Произрастают кустистый злак спинифекс, полынь, лебеда. Обитают плащеносная ящерица, тайпан.

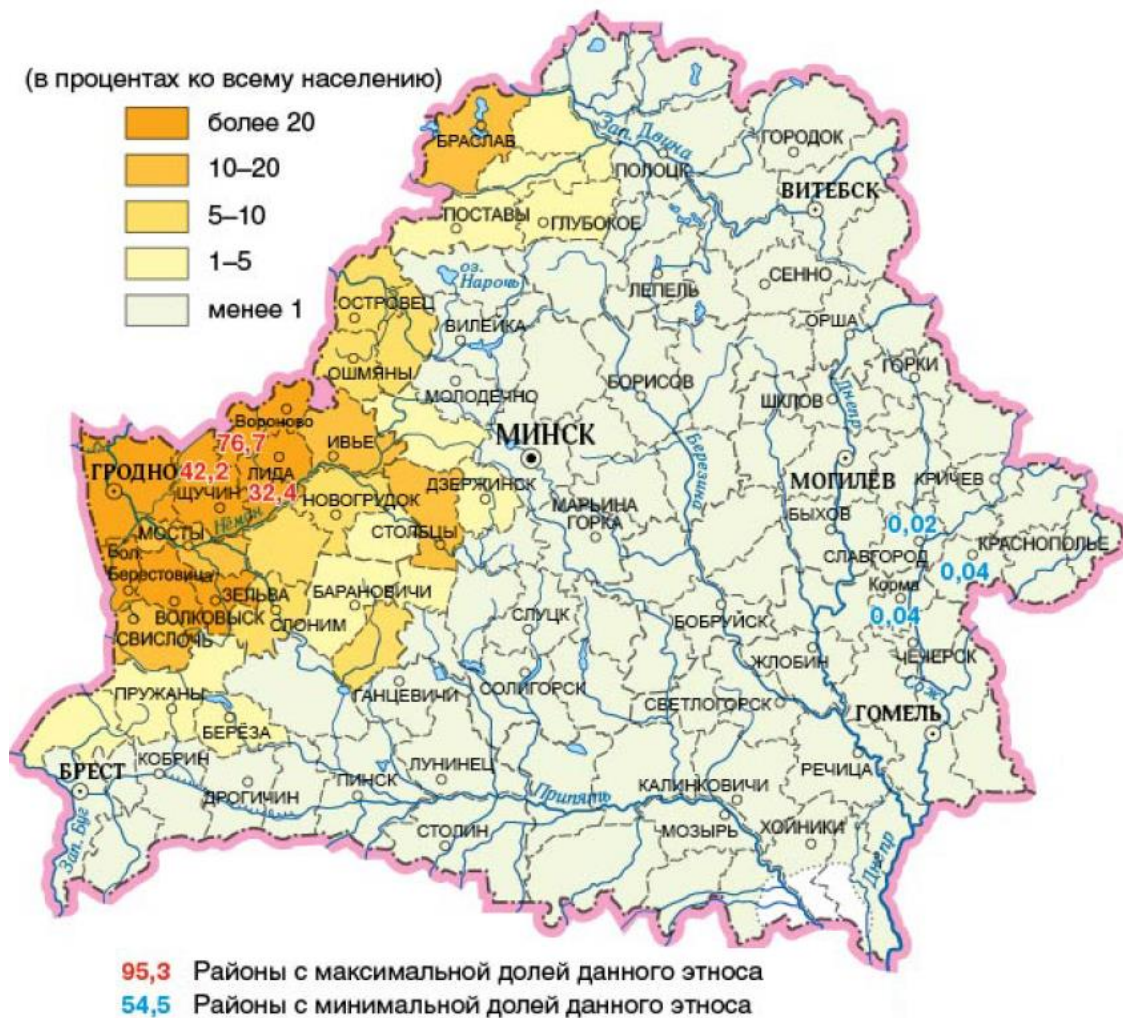
14. В каком городе южного полушария можно встретить данный общественный транспорт, передвигающийся не по дорогам общего пользования? (1 балл)

- А) Аделаида;
- Б) Джакарта;
- В) Кейптаун;
- Г) Сантьяго.



15. Размещение какого этноса показывает данная картограмма? (1 балл)

- А) евреи; Б) литовцы; В) поляки; г) татары.



16. Укажите город, который изображен на фотоснимке (1 балл)



Ваш ответ: _____.

17. В каком административном районе Беларуси находится данная достопримечательность? (1 балл)

- А) Быховский; В) Пружанский;
Б) Гродненский; Г) Сморгонский.



18. Какой геологический процесс привел к представленным на фотографиях последствиям? (1 балл)

- А) землетрясение; В) ледниковая экзарация;
Б) дефляция; Г) термокарст.



19. Установите соответствие между масштабами карт и принятыми на них номенклатурами. (2 балла)

Масштаб карты	Номенклатура карты
1) 1:10 000	А) N-36-72-Б-В-4
2) 1:50 000	Б) N-35-Г
3) 1:200 000	В) N-37-98-А
4) 1:500 000	Г) N-34-XIV

Ваш ответ: _____

20. В какой стране было сделано данное фото? (1 балл)



- А) Бразилия
- Б) Куба

- В) Новая Зеландия;
- Г) ЮАР.

21. Несмотря на языковые, религиозные или культурные различия, эти люди принадлежат к одной и той же расовой группе. Укажите ее. (1 балл)

- А) европеоидная раса;
- Б) монголоидная раса;

- В) негроидная раса;
- Г) смешанная раса.




22. Морское судно преодолело путь между пунктами с географическими координатами 3° с. ш. 20° з. д. и 8° ю. ш. 20° з. д., двигаясь строго на юг вдоль меридиана. Чему равен (в сантиметрах) отрезок данного пути на карте масштаба 1:15 000 000. (ответ округлите до десятых) (2 балла)

Ваш ответ: _____

23. Какая форма залегания горных пород (тип складки) представлен на фотографии? (1 балл)

- А) Антиклиналь;
- Б) Моноклиналь;


- В) Синклиналь;
- Г) Флексура.





24. На фото, сделанном с левого борта корабля, отображено азиатское побережье пролива Босфор. В каком направлении плывет судно?

- А) с востока на запад;
- Б) с запада на восток;

- В) с севера на юг;
- Г) с юга на север.



25. По фотографиям выберите путешественника, который возглавлял экспедицию, в рамках которой была открыта Антарктида. (1 балл)



26. Герб какой страны изображён на рисунке? (1 балл)

Ваш ответ: _____



27. В какой стране были сделаны данные фото? (1 балл)



А) Бутан;

Б) Китай;

В) Монголия;

Г) Непал.

28. Какому животному принадлежат эти ископаемые остатки? (1 балл)

- А) аммонит;
- Б) белемнит;
- В) граптолит;
- Г) трилобит.



29. Определите магнитный азимут (A_m), если известно, что дирекционный угол (α) = $65^\circ 15'$, магнитное склонение (δ) = $4^\circ 28'$, сближение меридианов (γ) = $-0^\circ 58'$. (2 балла)

Ваш ответ: _____


30. Определите по изображению морфологический тип берега? (1 балл)



- А) бухтовый;
- Б) далматинский;

- В) лопастной;
- Г) риасовый.

31. На каком уникальном острове можно встретить ландшафты, представленные на фотографиях? (1 балл)



- А) Кергелен;
- Б) Новая Каледония;

- В) Сокотра;
- Г) Шри-Ланка.

32. Какому типу пустыни соответствует данное изображение? (1 балл)

- А) адыр;

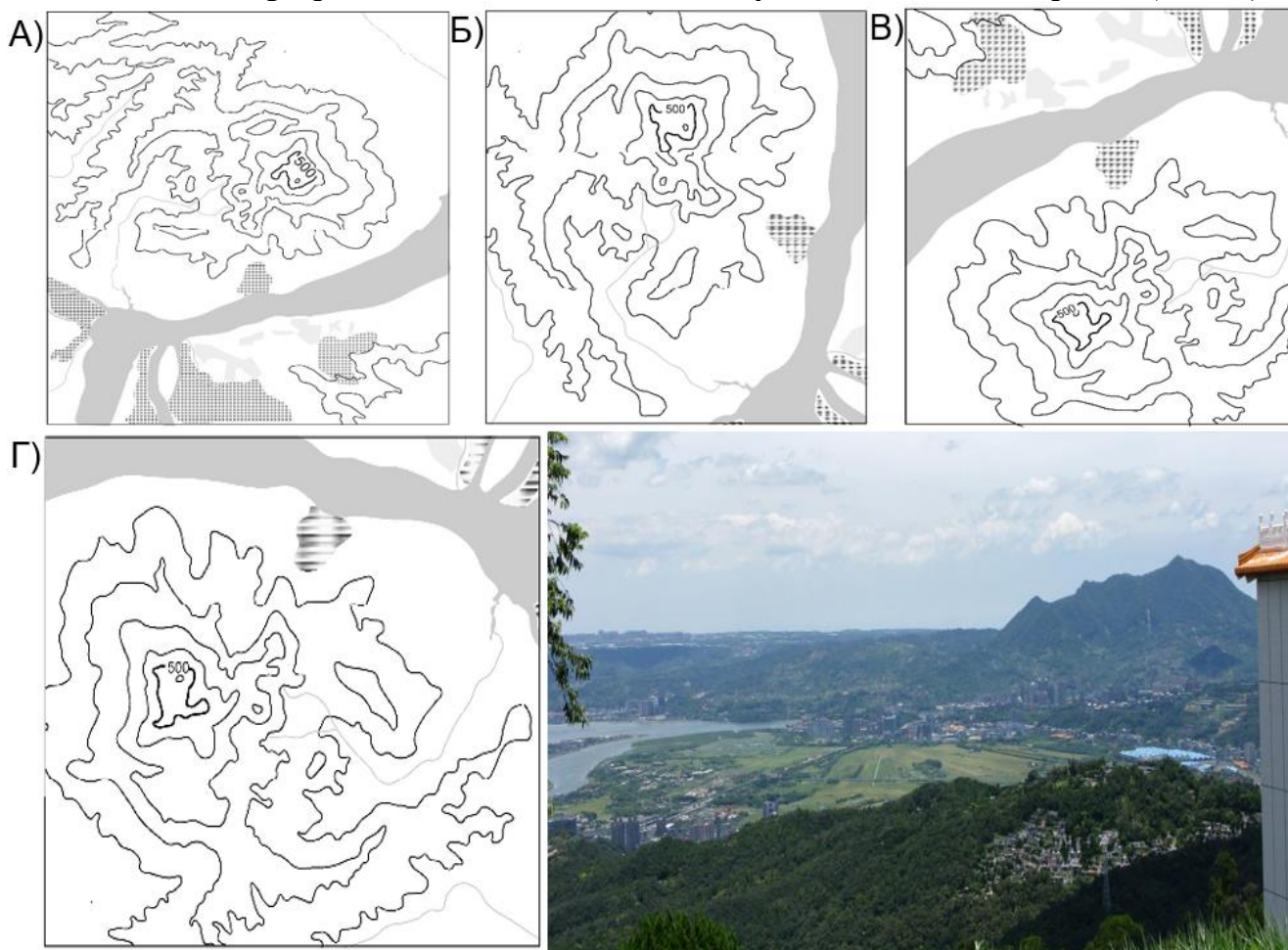
- Б) гамада;

- В) такыр;


- Г) эрг.



33. Какая топографическая схема соответствует местности на фото? (1 балл)




34. Как называется данный традиционный тип жилища? (1 балл)



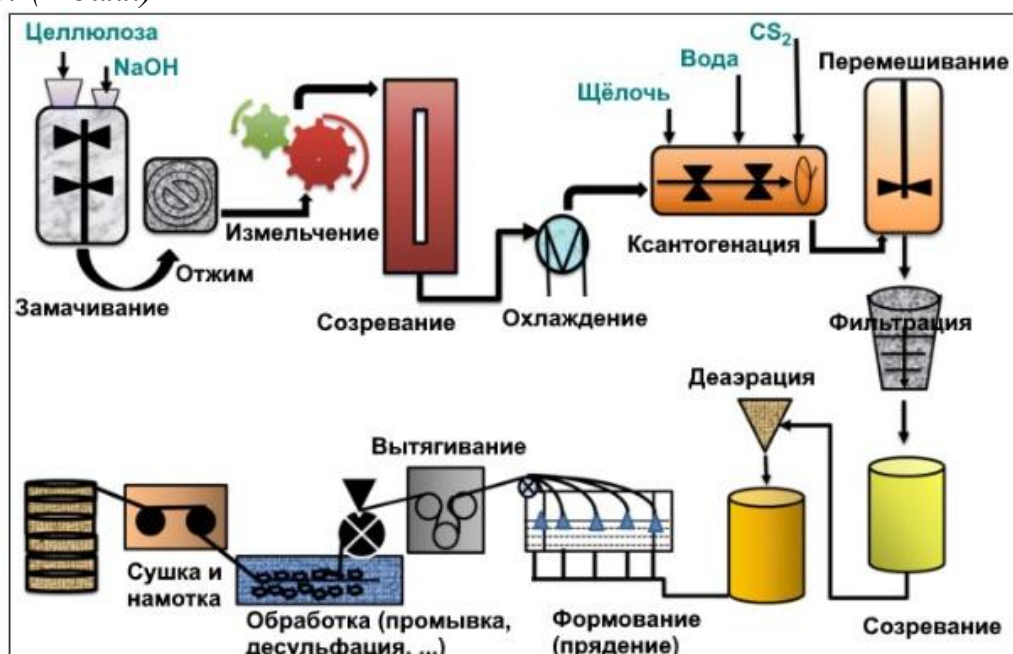
Ваш ответ: _____

35. Выберите, из какого минерала производят свинец? Назовите его. (1 балл)

Ваш ответ: _____



36. Какая продукция получается в результате данного технологического процесса? (1 балл)



А) бездымный порошок;
Б) бумага;

В) киноплёнка;
Г) химическое волокно.

37. Какая зерновая культура представлена на изображении? (1 балл)

Ваш ответ: _____



38. По изображениям назовите национальный парк в Северной Америке? (1 балл)

Ваш ответ: _____



39. Соотнесите представленную ниже продукцию с районами, на территории которых она производится. (2 балла)

Ваш ответ: _____.



- А) Бобруйский;
- Б) Борисовский;

- В) Добрушский;
- Г) Лидский.

40. Какой фактор размещения играет важнейшую роль при выборе места расположения представленного производства (1 балл):



А) потребительский;
Б) сырьевой;

В) трудовресурсный;
Г) экологический.