

**І этап учебных смен**  
**по учебному предмету**  
**География**

**2024**

## **Уважаемые участники!**

На первом этапе учебных смен вам предлагается выполнить мультимедийный тест. Вы имеете право просматривать слайды в произвольном порядке и в свободном ритме.

Тест состоит из 40 вопросов.

Правильный ответ на вопрос оценивается от 1 до 2 баллов.

По результатам мультимедийного теста Вы можете получить максимум 50 баллов.

*ЖЕЛАЕМ УДАЧИ!*

**Вопрос 1. Местоположение знаменитого геоглифа обезьяны:**

**Варианты ответа:**

А) о. Пасхи

В) пустыня Намиб

Д) пустыня Атакама

Б) плато Наска

Г) пустыня Тар

Е) Тибет

*(За верный ответ 1 балл)*



**Вопрос 2.** С какой целью человек в центре полотна древнеегипетской мозаики делает засечки на водомерном столбе в долине Нила?

**Варианты ответа:**

- А) для расчета налога на будущий урожай
- Б) для определения ущерба от паводка
- В) для ведения наблюдений за режимом реки
- Г) для прогнозирования наводнений

*(За верный ответ 1 балл)*






# Вопрос 3. Что отражает «Индекс Биг Мака»?

## Варианты ответа:

- А) уровень бедности населения в стране
- Б) паритет покупательской способности
- В) индекс развития человеческого потенциала
- Г) уровень ВВП

(За верный ответ 1 балл)



**Вопрос 4.** Определите страну, где расположены штаб-квартиры указанных ТНК. (Ответ запишите)  
(За верный ответ 1 балл)

**VOLVO**



**ERICSSON**




**Husqvarna**

**VATTENFALL**



 **Electrolux**

**Вопрос 5. В какой административной области Беларуси находятся историко-культурные достопримечательности?**  
*(За верный ответ 1 балл)*






**Вопрос 6.** Определите страну по описанию. (Ответ запишите)

*Страна получила своё название в честь древнего африканского королевства, существовавшего с VIII по XVI вв. Название страны на местном наречии значит «бегемот» или «гиппопотам», это символизировало мощь королевства. Страна бегемотов.*

*(За верный ответ 1 балл)*





## **Вопрос 7. Самая распаханная область Западной Европы?**

### **Варианты ответа:**

- А) Дунайские равнины
- Б) Паданская равнина
- В) Аквитанская низменность
- Г) Северо-Французская низменность

*(За верный ответ 1 балл)*



**Вопрос 8.** Отвоеванные у моря и отгороженные дамбами окультуренные участки морского дна побережья Северного моря?

**Варианты ответа:**

А) ватты; Б) польдеры; В) ланды; Г) сейши; Д) лацио

*(За верный ответ 1 балл)*





**Вопрос 9.** Определите страну, где расположены штаб-квартиры указанных ТНК. (Ответ запишите)

*(За верный ответ 1 балл)*



**Sinopec Corp.**



**BAOSTEEL**



**CNPC**



**北汽集团  
BAIC Group**

**Вопрос 10. Определите страну и ее столицу по рисункам на слайде.**

*(Ответ запишите)*

*(За верный ответ 2 балла)*





**Вопрос 11. Определите страну и ее столицу по рисункам на слайде.**  
(Ответ запишите)

(За верный ответ 2 балла)

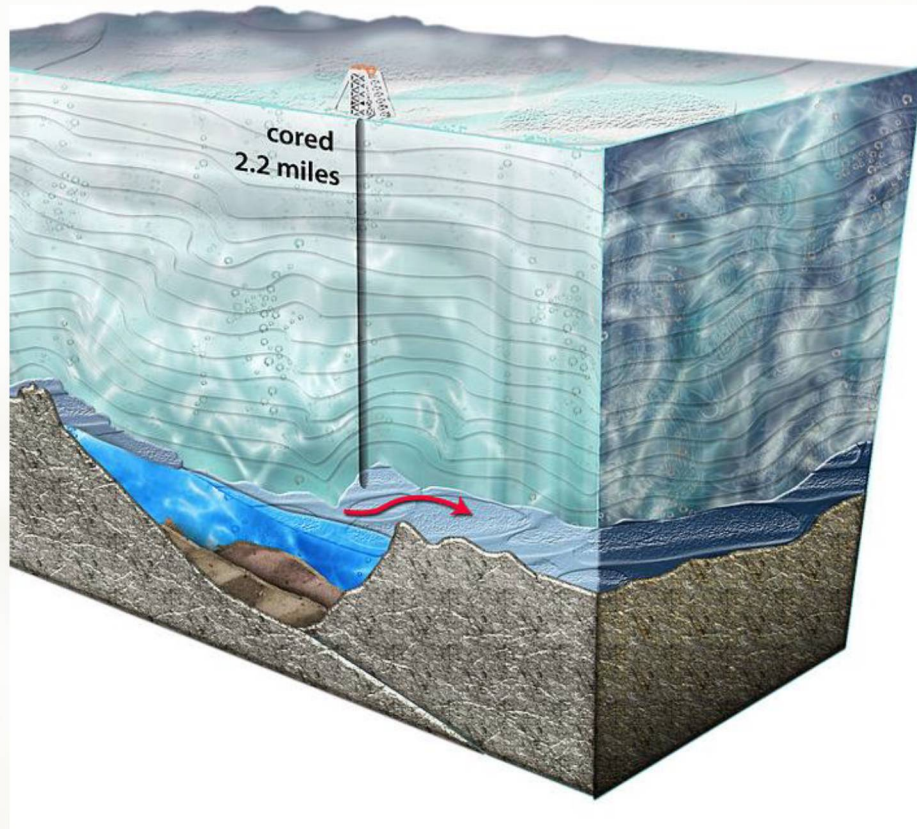


**Вопрос 12.** Крупнейшее обнаруженное подледное озеро Антарктиды?

**Варианты ответа:**

- А) Росса
- Б) Истлэнд
- В) Мэри Берд
- Г) Восток
- Д) не имеет названия

*(За верный ответ 1 балл)*





**Вопрос 13.** Узнайте представителя африканской орнитофауны по рисунку на слайде.

**Варианты ответа:**

А) птица-секретарь

В) марабу

Б) китоглав

Г) турако

*(За верный ответ 1 балл)*



**Вопрос 14.** Определите отрасль промышленности по логотипам компаний.

**Варианты ответа:**

- А) металлургия
- Б) машиностроение
- В) пищевая промышленность
- Г) легкая промышленность

*(За верный ответ 1 балл)*





**Вопрос 15.** На рисунке представлена огромная плотина мощной гидроэлектростанции. В каких трех странах существуют подобные плотины?

**Варианты ответа:**

- А) Индия, Япония, Россия
- Б) Дания, Испания, Парагвай
- В) Китай, Бразилия, Венесуэла
- Г) Эстония, Египет, США

*(За верный ответ 1 балл)*




## Вопрос 16. Определите тип интрузии по фотографиям

### Варианты ответа:

- А) Силл;
- Б) Дайка;
- В) Шток;
- Г) Лакколит

*(За верный ответ 1 балл)*



**Вопрос 17.** Доисторическая наскальная живопись охраняется в национальном парке Африки?

**Варианты ответа:**

- А) Тубкаль
- Б) Кафуэ
- В) Тассилин-Аджер
- Г) Аир-и-Тенере

*(За верный ответ 1 балл)*





## Вопрос 18. Самый длинный судоходный речной канал в мире?

### Варианты ответа:

- А) Каракумский
- Б) Суэцкий
- В) Панамский
- Г) Раджастанхан
- Д) Великий Китайский
- Е) Беломоро-Балтийский

*(За верный ответ 1 балл)*





**Вопрос 19.** Форма рельефа «каменный лес» образуется в результате:

**Варианты ответа:**

- А) водной эрозии
- Б) ветровой эрозии
- В) излияния лав
- Г) карстовых процессов

*(За верный ответ 1 балл)*

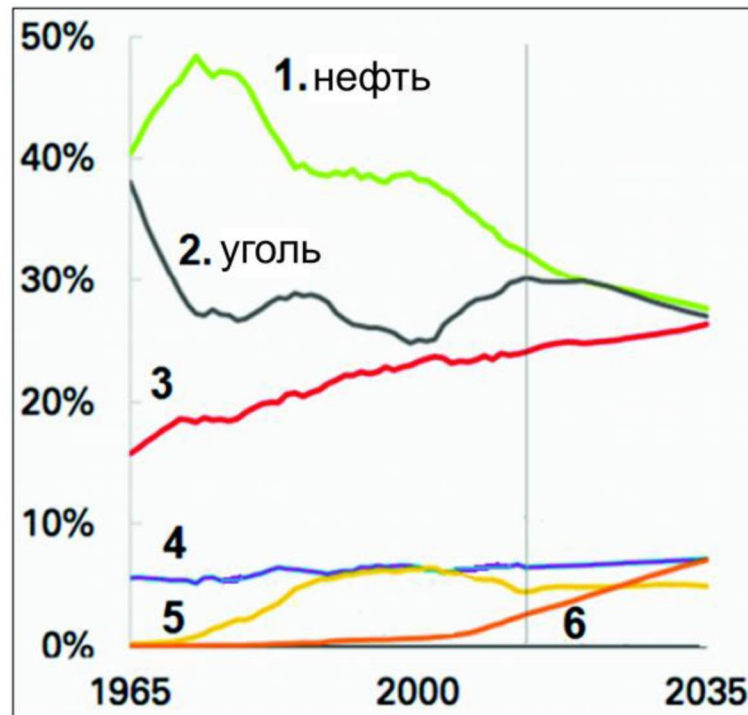


**Вопрос 20.** График отражает динамику структуры потребления первичных энергоресурсов в мире. Какой из видов ресурсов обозначен линией 4?

**Варианты ответа:**

- А) газ
- Б) атомная энергия
- В) гидроэнергия
- Г) геотермальная энергия

*(За верный ответ 1 балл)*



**Вопрос 21.** В каком месяце вероятнее всего мог быть сделан такой фотоснимок в Маниле?

**Варианты ответа:**

- А) февраль
- Б) апрель
- В) июль
- Г) ноябрь

*(За верный ответ 1 балл)*



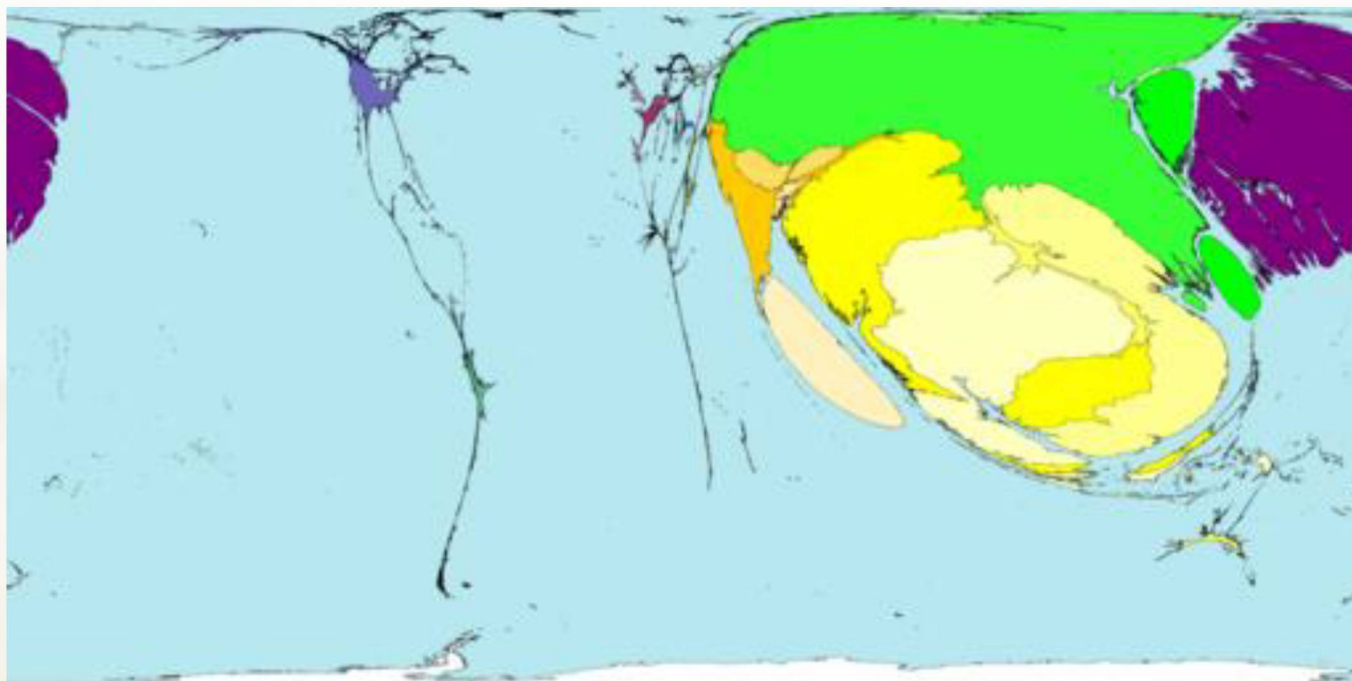


**Вопрос 22.** Географическое распределение какой из религий представлено на карте?

**Варианты ответа:**

- А) православие;
- Б) католицизм;
- В) протестантизм;
- Г) иудаизм;
- Д) ислам;
- Е) буддизм

*(За верный ответ 1 балл)*



**Вопрос 23.** Установите соответствие типов озерных котловин по рисункам.


**Варианты ответа:** А) вулканическое; Б) озеро-старица ; В) карстовое; Г) озеро-лагуна.

*(За верный ответ 2 балла)*


1)




3)



2)



4)



**Вопрос 24.** Крупнейшее по площади нагорье на планете - «крыша мира»? *(Ответ запишите)*

*(За верный ответ 1 балл)*





**Вопрос 25.** Какой город Беларуси последним (2012 год) получил статус города?

**Варианты ответа:** А) Туров; Б) Островец; В) Лунинец; Г) Новогрудок.  
(За верный ответ 1 балл)



**Вопрос 26.** Определите города Беларуси, обозначенные на схеме буквами А, Б, В, Г, по численности населения.

*(Ответ запишите)*

*(За верный ответ 2 балла)*



**Вопрос 27.** Какой объект был изображен на старой купюре в 50000 белорусских рублей?

**Варианты ответа:**

- А) Летний амфитеатр;
- Б) Мирский замок;
- В) Несвижский замок;
- Г) Могилевский областной художественный музей

*(За верный ответ 1 балл)*





**Вопрос 28.** Определите город по изображениям. *(Ответ запишите).*

*(За верный ответ 1 балл)*



**Вопрос 29.** Какая физико-географическая провинция Беларуси показана на слайде?

**Варианты ответа:**

А) Поозерская; Б) Предполесская; В) Восточно-Белорусская; Г) Западно-Белорусская.

*(За верный ответ 1 балл)*








**Вопрос 30.** Установите соответствие между группами гербов городов и областями, в которых они расположены.


**Варианты ответа:** А) Витебская; Б) Гродненская; В) Брестская; Г) Могилевская.

*(За верный ответ 1 балл)*

**1**



**2**





**Вопрос 31.** В каком городе расположены данные предприятия?

**Варианты ответа:** А) Минск; Б) Витебск; В) Могилев; Г) Гродно.

*(За верный ответ 1 балл)*



**Вопрос 32.** Заполните пропуски в таблице «Тектонические структуры».

(За верный ответ 2 балла)

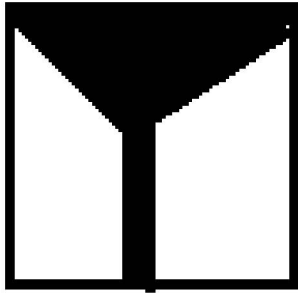
<b>ПОЛОЖИТЕЛЬНЫЕ</b>		<b>ПЕРЕХОДНЫЕ</b>	<b>ОТРИЦАТЕЛЬНЫЕ</b>	
антеклиза	<b>А)?</b>	седловина	<b>Г)?</b>	впадина
Белорусская, <b>Б)?</b>	Микашевичско- Житковичский	Латвийская, Жлобинская, <b>В)?</b> Брагинско- Лоевская	Припятский, Днепровско- Донецкий	Брестская, Оршанская

**Вопрос 33.** Установите соответствие между обозначением полезного ископаемого и разведанным месторождением.


**Варианты ответа:** А) Рубовское ; Б) Мстиславское, Лобковичское; В) Околовское, Новоселковское; Г) Мозырское, Старобинское, Давыдовское

*(За верный ответ 2 балла)*

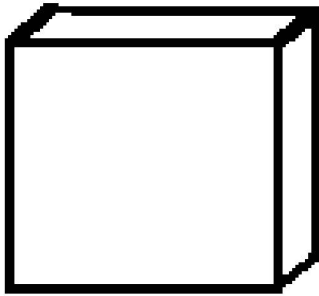
1)




3)



2)



4)






**Вопрос 34. Установите соответствие между старыми и новыми названиями городов Беларуси.**

**Варианты ответа:**

А) Верхнедвинск; Б) Славгород; В) Червень; Г) Дзержинск.

1) Дрисса; 2) Койданово; 3) Пропойск; 4) Игумен.

*(За верный ответ 2 балла)*



**Вопрос 35. Установите соответствие между государствами и их зависимыми территориями.**

**Варианты ответа:**

А) Гибралтар; Б) Гуам; В) Гваделупа; Г) Токелау.

1) Великобритания; 2) Франция; 3) Новая Зеландия; 4) США.

*(За верный ответ 2 балла).*





**Вопрос 36.** Выберите промышленные предприятия, расположенные за пределами Витебской области.

*(За верный ответ 1 балл)*

**А)**



**Б)**



**В)**



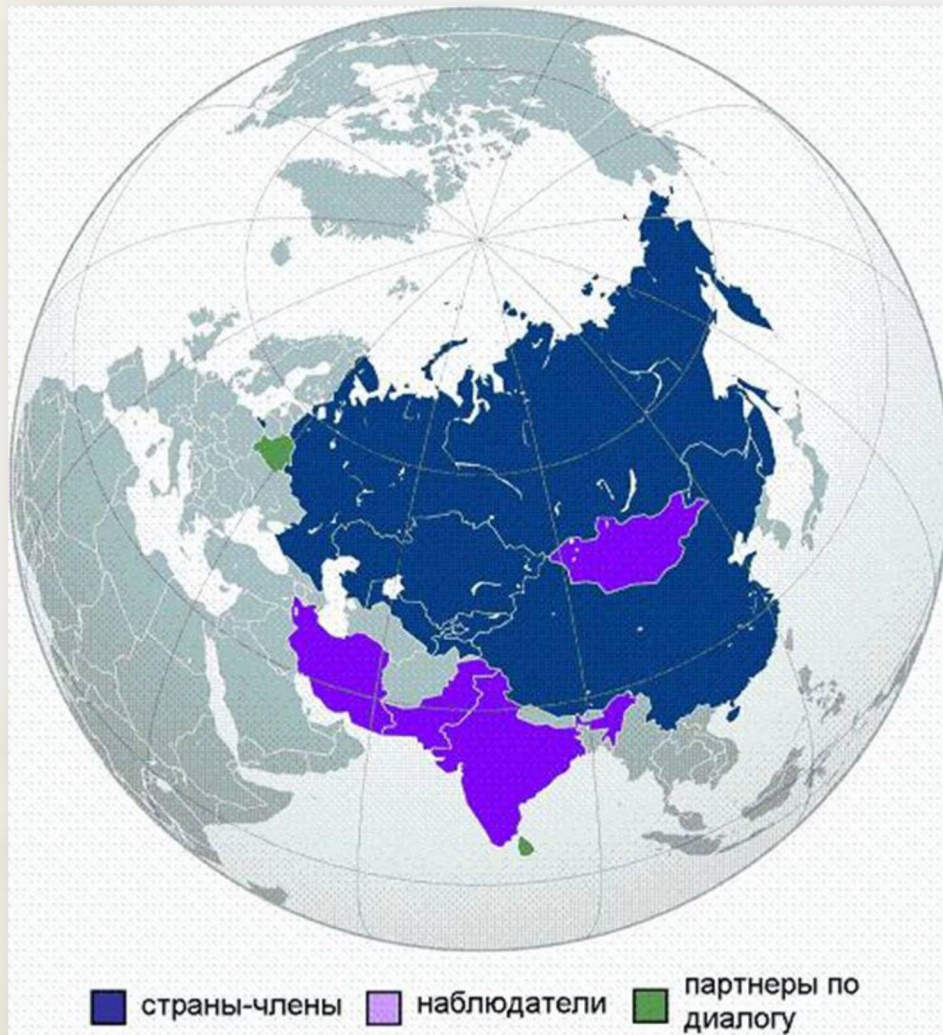
**Г)**





**Вопрос 37.** Определите международную организацию по рисункам на слайде (по состоянию на 2015 год). (Ответ запишите).



(За верный ответ 1 балл)



**Вопрос 38.** Запишите недостающие минералы шкалы Мооса в соответствии с их твёрдостью. (Ответ запишите).  
(За верный ответ 2 балла).



**ОРТОКЛАЗ**  
царапается напильником



**КОРУНД**  
легко царапает топаз



**АЛМАЗ**  
царапается только алмазом

**А)**

**Б)**



**Вопрос 39.** Определите штат, представленный на слайде. (Ответ запишите).

(За верный ответ 1 балл)





**Вопрос 45.** Определите животное на слайде, в какой период палеозойской эры оно существовало на Земле? *(Ответ запишите).*  
*(За верный ответ 2 балла).*

