

Заключительный этап республиканской олимпиады по учебному предмету «География»  
2021/2022 учебный год

**9 класс.  
Мультимедиа-тест.  
Вариант 2**

**УВАЖАЕМЫЙ ОЛИМПИОНИК!**

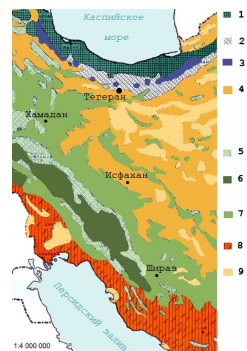
На выполнение заданий мультимедиа-теста отводится 1 час (60 минут).  
Ты имеешь право просматривать слайды в произвольном порядке и в свободном ритме.  
Ответы на задания мультимедиа-теста необходимо вписать в предлагаемый бланк ответов.  
По результатам мультимедиа-теста можно получить максимум 40 баллов.

**ЖЕЛАЕМ ТЕБЕ УДАЧИ!**

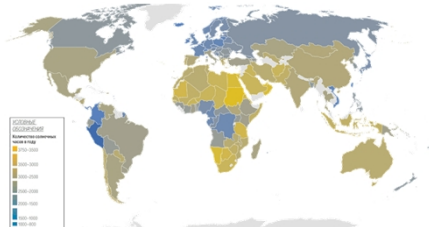
**Вопрос 1:** В переводе с местного языка название дерева обозначает «сломой топор» из-за прочности древесины. Укажите его название.  
**Варианты ответа:** А) бальса; Б) сейба; В) пахикормус; Г) кебрачо  
(За правильный ответ – 2 балла)



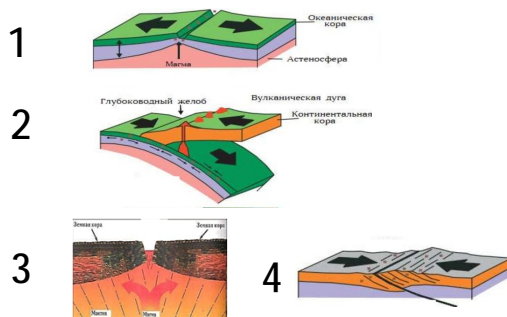
**Вопрос 2:** Что отмечено на геоботанической карте под номером 2?  
**Варианты ответа:** А) песчаные и соленые пустыни; Б) ксерофильные листопадные дубовые леса; В) горная фригана; Г) теплолюбивые и умеренные леса  
(За правильный ответ – 2 балла)




**Вопрос 3:** Укажите правильный ряд столиц и административных центров по количеству солнечных часов в году от наименьшего значения к большему?  
**Варианты ответа:** А) Торсхавн (Дания) – Рейкьявик (Исландия) – Дублин (Ирландия) – Брюссель (Бельгия); Б) Рейкьявик (Исландия) – Дублин (Ирландия) – Торсхавн (Дания) – Брюссель (Бельгия); В) Рейкьявик (Исландия) – Торсхавн (Дания) – Дублин (Ирландия) – Брюссель (Бельгия); Г) Торсхавн (Дания) – Брюссель (Бельгия) – Рейкьявик (Исландия) – Дублин (Ирландия)  
(За правильный ответ – 2 балла)

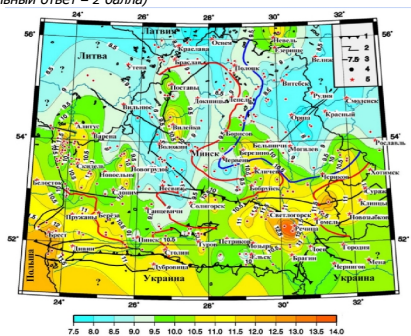


**Вопрос 4:** Спрединг показан на рисунке под номером...  
**Варианты ответа:** А) 1; Б) 2; В) 3; Г) 4  
(За правильный ответ – 1 балл)





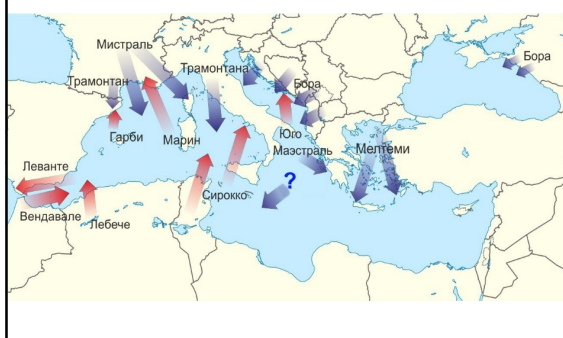
**Вопрос 11:** Какую информацию отражает данная карта?  
**Варианты ответа:** А) газоносность отложений; Б) мощность осадочных отложений; В) ресурсы термальных вод; Г) глубина подошвы слоя зоны пресных вод  
 (За правильный ответ – 2 балла)



**Вопрос 12:** На каком архипелаге расположен действующий вулкан Каргала?  
**Варианты:** А) Андаманские острова; Б) Маскаренские острова; В) Зондские острова; Г) Коморские острова  
 (За правильный ответ – 1 балл)



**Вопрос 3:** Как называется местный северо-восточный ветер Средиземноморья, обозначенный вопросительным знаком?  
**Варианты ответа:** А) Понент; Б) Остро; В) Зефир; Г) Грегал  
 (За правильный ответ – 1 балл)




**Вопрос 14:** Какой ученый впервые сформулировал барический закон ветра, отражающий связь между направлением приземного ветра с направлением горизонтального барического градиента, согласно которого, если смотреть по направлению ветра в северном полушарии, то высокое давление будет справа и несколько впереди, а низкое слева и несколько позади?  
 (За правильный ответ – 2 балла)


**Варианты ответа:**

А) Христофор Бейс Баллот    Б) Вагн Вальфрид Экман    V) Бьёрн Хелланд-Хансен    Г) Гаспар-Гюстав Кориолис

**Вопрос 15:** В каком году прошла первая Всемирная выставка?  
**Варианты ответа:** А) 1783; Б) 1917; В) 1851; Г) 1900  
 (За правильный ответ – 1 балл)



**Вопрос 16:** Какой из представленных символов Всемирных выставок расположен в Северной Америке?  
 (За правильный ответ – 1 балл)






**Вопрос 17:** Всемирная выставка EXPO-2020 была посвящена достижению Целей устойчивого развития ООН. Сколько всего этих целей?  
**Варианты ответа:** А) 17; Б) 13; В) 25; Г) 32  
 (За правильный ответ – 1 балл)



**Вопрос 18:** Какова высота самого высокого здания на планете Земля?  
**Варианты ответа:** А) 829,8 м; Б) 652 м; В) 1000,1 м; Г) 735 м  
 (За правильный ответ – 1 балл)



**Вопрос 19:** На рисунке представлен Индекс ведения бизнеса в Европе в 2020 г. Выберите страну с результатом выше, чем у Бельгии.  
**Варианты ответа:** А) Румыния; Б) Болгария; В) Португалия; Г) Норвегия  
 (За правильный ответ – 1 балл)



**Вопрос 20:** Какой административный центр Беларуси представлен на рисунках?  
**Варианты ответа:** А) Орша; Б) Лунинец; В) Ляховичи; Г) Молодечно  
 (За правильный ответ – 1 балл)



**Вопрос 21:** Основной проблемой государства, министр которого изображен на фотографии, является...  
**Варианты ответа:** А) недостаток туристов; Б) абразия береговой линии; В) глобальное потепление; Г) вырубка лесов  
 (За правильный ответ – 1 балл)



**Вопрос 22:** В каком городе Беларуси впервые появился данный вид транспорта?  
**Варианты ответа:** А) Бобруйск; Б) Гомель; В) Минск; Г) Гродно  
 (За правильный ответ – 1 балл)

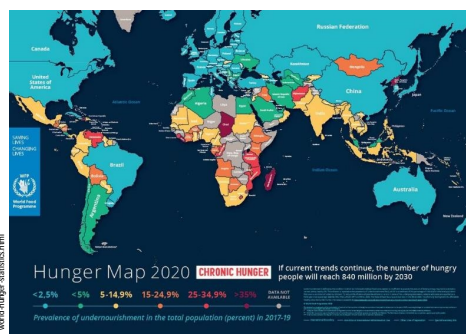


**Вопрос 23:** Какая страна является мировым лидером по производству электробусов?  
**Варианты ответа:** А) США; Б) Германия; В) Китай; Г) Япония  
 (За правильный ответ – 1 балл)



© Wikimedia Commons

**Вопрос 24:** Какова доля голодающего населения в мире (2019 г., %)?  
**Варианты ответа:** А) 4; Б) 19,1; В) 11,3; Г) 8,9  
 (За правильный ответ – 2 балла)

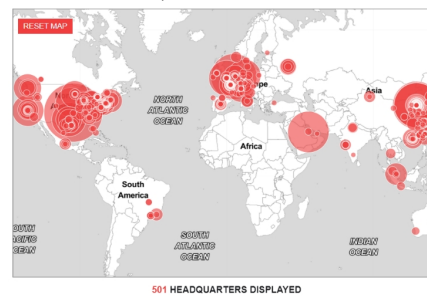


<https://www.focfoundation.org/world-hunger-statistics.html>

**Вопрос 25:** Какая компания заняла 1 место по прибыли в мире в 2021-м году (согласно рейтингу Fortune Global 500)? Ответ запишите.  
 (За правильный ответ – 2 балла)



**Вопрос 26:** В каком штате США находится штаб-квартира компании, занявшей 1 место по прибыли в мире в 2021-м году (согласно рейтингу Fortune Global 500)?  
**Варианты ответа:** А) Калифорния; Б) Нью-Йорк; В) Техас; Г) Арканзас  
 (За правильный ответ – 2 балла)



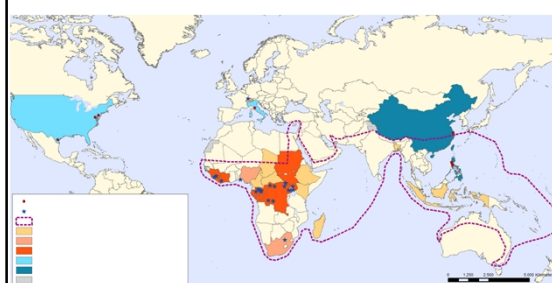
<https://fortune.com/global500/2019/visualizations/>

**Вопрос 27:** Укажите страну происхождения данного блюда.  
**Варианты ответа:** А) США; Б) Греция; В) Великобритания; Г) Россия  
 (За правильный ответ – 1 балл)



© Wikimedia Commons

**Вопрос 28:** На картосхеме изображено распространение заболевания...  
 Ответ запишите.  
 (За правильный ответ – 2 балла)



<https://reliefweb.int/>

**Вопрос 29:** На фотографии изображен Фридрих Ратцель, один из самых известных исследователей в области...  
**Варианты ответа:** А) почвоведения; Б) транспорта; В) геополитики; Г) урбанистики  
(За правильный ответ – 1 балл)



© Wikimedia Commons

**Вопрос 30:** Какова ориентировочная доля продукции, произведенная в Республике Беларусь, и уходящая на экспорт (2020 г., %)?  
**Варианты ответа:** А) 15; Б) 30; В) 90; Г) 61  
(За правильный ответ – 1 балл)



© Wikimedia Commons