

10 клас

2 тур

Максімальная колькасць балаў – 137.

I. Выберыце правільны варыянт адказу (кожны правільны адказ – 1 бал, усяго за заданне – 30 балаў)	
Гісторыя Беларусі	Сусветная гісторыя
<p>1. а. славянская</p> <p>2. а. 1097 г.</p> <p>3. б. капішчы</p> <p>4. в. пад Лідай</p> <p>5. б. прымаць збеглых сялян</p> <p>6. б. пад Вількамірам</p> <p>7. б. уніяцкая царква прызнавала вярхоўную ўладу Ватыкана</p> <p>8. г. прыняцце Канстытуцыі 3 мая ў Рэчы Паспалітай</p> <p>9. б. Навагрудскі</p> <p>10. а. Віцебскай</p> <p>11. а. “Беларускага таварыства дапамогі ахвярам вайны”</p> <p>12. а. стварэнні часовага органа краёвай улады</p> <p>13. б. 1920 г.</p> <p>14. б. працэс ліквідацыі цераспалосіцы праз звядзенне сялянскіх зямель у адзін участак з наступным выхадам на хутары</p> <p>15. г. музыка</p>	<p>16. а. багамільства</p> <p>17. а. Фларэнцыя</p> <p>18. в. Жыгімонтам Карыбутавічам</p> <p>19. г. Вялікабрытаніі</p> <p>20. в. 18.01.1871</p> <p>21. б. “Зямля і Воля”</p> <p>22. б. Іспана-амерыканская вайна</p> <p>23. а. 1821 г.</p> <p>24. а. ліквідацыя ўраўняльнага прынцыпу аплаты працы</p> <p>25. в. сацыялістычны рэалізм</p> <p>26. г. у Мальцыйскай канферэнцыі</p> <p>27. б. ФРГ</p> <p>28. б. 1 ліпеня 1991 г.</p> <p>29. в. Д.А. Мядзведзеў</p> <p>30. а. перадачу суверэнітэта над Ганконгам КНР у 1997 г.</p>

II. Правільна судзіце элементы дзвух мностваў

За кожны поўны правільны адказ – 2 балы. Усяго за заданне – 20 балаў.

31) паняцці з рэлігійнай гісторыі ВКЛ і іх азначэнні

1.	Кірунак Рэфармацыі, які атрымаў найбольшае пашырэнне ў ВКЛ	А.	брацтва
2.	Рэлігійна-палітычны рух у другой палове XVI ст., накіраваны супраць Рэфармацыі	Б.	кальвінізм
3.	Рэлігійна-палітычная арганізацыя, створаная для барацьбы з	В.	Контррэфармацыя

	рэфармацыйнымі плынямі		
4.	Рэлігійна-палітычная арганізацыя праваслаўнага насельніцтва ў ВКЛ	Г.	Ордэн езуітаў
1 – Б	2 – В	3 – Г	4 – А

32) выявы рэзідэнцый магнацкага роду Радзівілаў і месца іх знаходжання

			
А.	Б.	В.	Г.
1. Нясвіж – В	2. Любча – А.	В. Алыка – Г	Г. Біржы – Б





33) еўрапейскія дзяржавы XIX – пачатку XX стст. і дынастыі, што кіравалі ў іх

1.	Балгарыя	А.	Дынастыя Гагенцолернаў
2.	Германская імперыя	Б.	Саксен-Кобург-Готская дынастыя
3.	Нарвегія	В.	Дынастыя Бурбонаў
4.	Іспанія	Г.	Дынастыя Глюксбургаў
1. – Б	2. – А	3. – Г	4. – В

34) помнікі дойлідства і дзяржаўныя ўтварэнні

			
А.	Б.	В.	Г.
1. Нарвегія – В	2. Ісландыя – А	3. Фінляндыя – Г	4. Расія – Б

35) выявы гербаў і назвы гарадоў Рэспублікі Беларусь

			
А.	Б.	В.	Г.
1. Іўе – Б	2. Верхнядзвінск – А	3. Лепель – Г	4. Рэчыца – В

36) назву вайны XIX ст. і мірнае пагадненне, якім яна завяршылася

1. Руска-турэцкая вайна 1877–1878 гг.	А. Фрыдрыхсгамскі мір		
2. Першая опіумная вайна	Б. Тыльцзкі мір		
3. Фінская вайна 1808–1809 гг.	В. Сан-Стэфанскі мір		
4. Вайна чацвёртай кааліцыі 1806–1807 гг.	Г. Нанкінскі дагавор		
1. – В	2. – Г	3. – А	4. – Б

37) выяву еўрапейскага манарха часоў Напалеонаўскіх войнаў і назву краіны, дзе ён кіраваў

			
А. Георг III	Б. Аляксандр I	В. Густаў IV Адольф	Г. Фердынанд III
1. Швецыя – В	2. Вялікабрытанія – А	3. Расійская імперыя – Б	4. Сіцылія – Г

38) бітвы і войны, у межах якіх яны адбыліся

1.	Сталінградская бітва	А.	“Вялікая вайна”
2.	Грунвальдская бітва	Б.	Напалеонаўскія войны
3.	“Бітва народаў”	В.	Першая сусветная вайна
4.	Бітва на Соме	Г.	Вялікая Айчынная вайна
1. – Г		2. – А	
		3. – Б	
		4. – В	

39) падзеі гісторыі Еўропы першай паловы ХХ стагоддзя і гістарычных асоб, якія іх ініцыявалі

А. усталяванне фашысцкай дыктатуры ў Іспаніі		В. падпісанне Латэранскіх пагадненняў з Ватыканам	
Б. фарміраванне першага лейбарысцкага ўраду ў Англіі		Г. абвяшчэнне Баварскай савецкай рэспублікі	
1. Дж. Макдональд – Б	2. Ф. Франка – А	3. К. Эйснер – Г	4. Б. Мусаліні – В

40) знешні выгляд архітэктурных помнікаў і стыль

			
А.	Б.	В.	Г.
1. Псеўдаготыка – В	2. Класіцызм – А	3. Канструктывізм – Г	4. Неараманскі стыль – Б

III. Расстаўце ў правільнай храналагічнай паслядоўнасці

За кожны поўны правільны адказ – 2 балы. Усяго за заданне – 20 балаў.

41) падзеі гісторыі Полацкай зямлі

А. Паход Мсціслава Вялікага ў Полацкую зямлю		Б. першае ўпамінанне ў “Аповесці мінулых гадоў” пра Полацк.	
В. Канчатковае раздрабленне Полацкай зямлі		Г. Выгнанне полацкіх князёў у Візантыю	
1. – Б	2. – В	3. – А	4. – Г

42) канцлераў Вялікага Княства Літоўскага

А. Леў Сапега		Б. Марцыян Аляксандр Агінскі	
В. Дамінік Мікалай Радзівіл		Г. Кшыштаф Сігізмунд Пац	
1. – А	2. – Г	3. – Б	4. – В

43) гарады Беларусі згодна з годам атрымання імі Магдэбургскага права

А. Камянец		Б. Наваградак	
В. Полацк		Г. Слонім	
1. – В	2. – А	3. – Б	4. – Г

44) падзеі барацьбы Вялікага Княства Літоўскага з Маскоўскай дзяржавай у XV–XVI стагоддзі

А. бітва пад Оршай		Б. бітва на Ведрашы	
В. захоп Полацка войскамі Івана Жажлівага		Г. Ям-Запольскі мір	
1. – Б	2. – А	3. – В	4. – Г

45) помнікі архітэктуры Беларусі па часе ўзвядзення



А.	Б.	В.	Г.
1. – Б	2. – А	3. – В	4. – Г

46) падзеі гісторыі Францыі XIX ст.

А. Абвяшчэнне Напалеона Банапарта імператарам Францыі		В. Ліпеньская рэвалюцыя ў Францыі	
Б. Пераўтварэнне Тунісу ў французскую калонію		Г. Прыняцце канстытуцыі Трэцяй рэспублікі ў Францыі	
1. – А	2. – В	3. – Г	4. – Б

47) напрамкі рабочага і сацыялістычнага руху па часе іх узнікнення

А. марксізм		В. анарха-сіндыкалізм	
Б. рэвізіянізм		Г. аўстрамарксізм	
1. – А	2. – В	3. – Б	4. – Г

48) бітвы Першай сусветнай вайны

А. Галіцыйская бітва		В. другая бітва пры Іпры	
Б. Свянцянскі прарыў		Г. бітва на Марне	
1. – А	2. – Г	3. – В	4. – Б

49) міжнародныя канферэнцыі перыяда Другой сусветнай вайны

А. Ялцінская канферэнцыя		В. Патсдамская канферэнцыя	
Б. Касабланкская канферэнцыя		Г. Тэгеранская канферэнцыя	
1. – Б	2. – Г	3. – А	4. – В

50) падзеі гісторыі міжнародных адносін Рэспублікі Беларусь.

А. падпісанне Дагавора аб Саюзе Беларусі і Расіі		В. стварэнне Садружнасці Незалежных Дзяржаў	
Б. падпісанне Дагавора аб стварэнні Супольнасці Рэспублікі Беларусь і Расійскай Федэрацыі		Г. падпісанне Дагавора аб стварэнні Саюзнай дзяржавы Беларусі і Расіі	
1. – В	2. – Б	3. – А	4. – Г

IV.	Выберыце правільны варыянт адказу (пастаўце птушачку ў адпаведным стаўбцы) За кожны правільны адказ – 1 бал. Усяго за заданне – 10 балаў		
	Ці праўда, што	так	не
51.	у Тураўскай зямлі ў XIII стагоддзі быў заснаваны праваслаўны Ляшчанскі манастыр.	так	
52.	першая кніга ў Еўропе была надрукавана ўраджэнцам нямецкага горада Майнца Іаганам Гутэнбергам у 1445 г.	так	
53.	паводле закона аб бедных, прынятага парламентам Англіі ў 1834 годзе, з прадпрымальнікаў спаганяўся спецыяльны падатак на карысць маламаёмных грамадзян		не
54.	У выніку паўстання ў Рыме ў канцы 1848 – пачатку 1849 г. была скасаваная ўлада Папы Рымскага і абвешчана Рымская рэспубліка, праіснаваўшая да 4.07.1849 г.	так	
55.	па канфесійным складзе сярод насельніцтва беларускіх губерняў у 1897 г. пераважалі католікі, якіх налічвалася каля 2/3		не
56.	у 1915 г. у Вільні было створана дабрачыннае Беларускае таварыства дапамогі пацярпелым ад вайны на чале з братамі Луцкевічамі і	так	

	Вацлавам Ластоўскім		
57.	Міжнародным Годам Афрыкі быў абвешчаны 1965 г., калі 17 афрыканскіх каланіяльных тэрыторый набылі незалежнасць		не
58.	Ля вытокаў адраджэння Рымска-каталіцкай царквы ў Беларусі стаяў першы беларускі кардынал Тадэвуш Кандрусевіч		не
59.	У 2002 годзе кіраўнікі Беларусі, Расіі, Арменіі, Казахстана, Кыргызстана, Таджыкістана падпісалі Статут Арганізацыі Дагавора аб калектыўнай бяспецы (АДКБ)	так	
60.	У 2004 г. у склад сяброў Еўрасаюза ўвайшлі Польшча, Венгрыя, Кіпр, Латвія, Літва, Мальта, Славакія, Славенія, Чэхія, Эстонія	так	

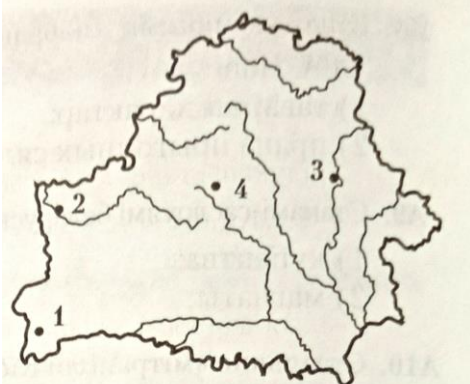
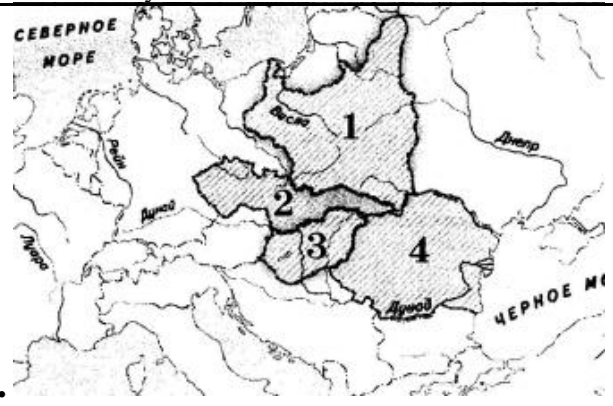
V.	Напішыце, аб якім гістарычным дзеячы ідзе гаворка		
За кожны правільны адказ (імя і прозвішча) – 1 бал, усяго за заданне – 10 балаў			
61.	Каталіцкі тэалаг, пісьменнік, дзеяч контрэфармацыі ў Рэчы Паспалітай, першы рэктар Віленскага ўніверсітэта	Пётр Скарга	
62.	Беларускі палітычны, грамадскі і ваенны дзеяч, публіцыст, перакладчык, педагог. Займаў пасаду народнага сакратара па ваенных справах (міністра абароны) БНР. У 1921–1944 гадах жыў у Латвіі, узначаліў Беларускае нацыянальнае аб’яднанне ў Рызе	Канстанцін Езавітаў	
63.	Савецкі дыпламат і дзяржаўны дзеяч, у 1957–1985 гадах – міністр замежных спраў СССР, у 1985–1988 гадах – старшыня Прэзідыума Вярхоўнага Савета СССР. Нарадзіўся на Гомельшчыне ў сучасным Веткаўскім раёне	Андрэй Грамыка	
64.	Савецкі дзяржаўны і партыйны дзеяч, рэвалюцыянер. У 1903 г. на II з’езде РСДРП узначаліў бальшавіцкую фракцыю. Выпрацаваў асновы эканамічнай і культурнай палітыкі савецкай улады, сфармуляваў прынцыпы аб’яднання савецкіх рэспублік у складзе СССР	Уладзімір Ленін	
65.	Фізік, інжынер, вынаходнік у галіне электратэхнікі і радыётэхнікі сербскага паходжання. У яго гонар названа адзінка вымярэння шчыльнасці магнітнага патоку (магнітнай індукцыі)	Нікола Тэсла	
66.	Каталонскі мастак, скульптар, гравёр, пісьменнік, адзін з галоўных прадстаўнікоў сюррэалізму XX стагоддзя	Сальвадор Далі	
67.	У свой час стаў самым маладым генералам іспанскай арміі, у 1936 г. узначаліў ваенна-фашысцкі мяцеж супраць Іспанскай рэспублікі, які перарос у	Франкіска Франка	


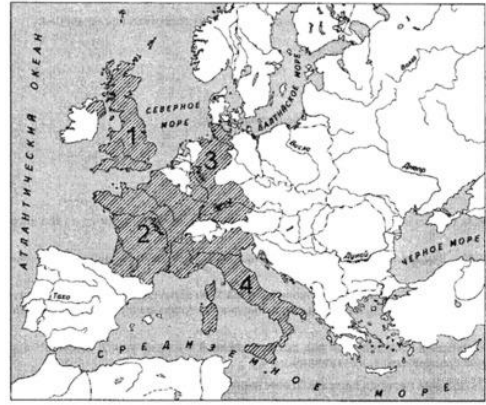

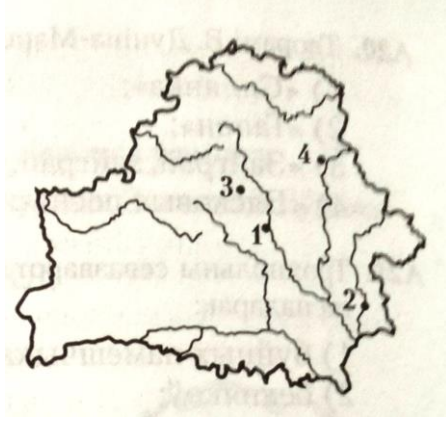
	грамадзянскую вайну. У 1939 г. абвешчаны пажыццёвым каудыльё іспанскай дзяржавы	
68.	Народны пісьменнік Беларусі, у большасці твораў якога дзеянне адбываецца падчас Вялікай айчыннай вайны і ў якіх паказаны маральны выбар чалавека ў найбольш драматычныя моманты жыцця	Васіль Быкаў
69.	Народны мастак БССР (1972), Герой Беларусі (2006). Працаваў у галіне станкавага і манументальнага жывапісу. У аснове твораў ваеннай тэматыкі асабістыя ўражанні ад гераічнай барацьбы народа супраць нямецкіх акупантаў, злачынстваў фашыстаў супраць чалавецтва. Галоўнае месца ў творчасці 1990–2001 гадоў займае хрысціянская тэматыка	Міхаіл Савіцкі
70.	Савецкая гімнастка, чатырохразовая алімпійская чэмпіёнка, заслужаны майстар спорту СССР. Нарадзілася ў Гродна, скончыла Гродзенскі дзяржаўны педагагічны інстытут	Вольга Корбут

VI.	Адзначце “птушачкай” у адпаведным месцы, якая падзея адбылася раней (за кожны правільны адказ – 2 балы, усяго за заданне – 20 балаў)				
Гісторыя Беларусі			Сусветная гісторыя		
71.		Бітва на Нямізе	ці	тут	Бітва пры Гасцінгсе
72.	тут	Каранацыя Міндоўга	ці		Пачатак праўлення ў Візантыі дынастыі Палеалогаў
73.		Выданне другога Статута ВКЛ	ці	тут	Стварэнне Судзебніка Івана IV у Маскоўскім царстве
74.	тут	Стварэнне Барскай канфедэрацыі	ці		Абвяшчэнне незалежнасці англійскіх калоній у Паўночнай Амерыцы
75.		Скасаванне дзеяння Статута ВКЛ у беларускіх губернях	ці	тут	Ліпенская буржуазная рэвалюцыя ў Францыі
76.		Пракладка першай чыгункі ў Беларусі	ці	тут	Стварэнне адзінага Італьянскага каралеўства
77.	тут	Утварэнне беларускімі студэнтамі-народнікамі групы “Гоман” у Санкт-Пецярбурзе	ці		Стварэнне II Інтэрнацыянала
78.	тут	Прыняцце “Дэкларацыі аб абвяшчэнні незалежнасці ССРБ”	ці		Прыняцце Віленскім сеймам рашэння аб далучэнні Віленшчыны да Польшчы
79.		Народны сход	ці	тут	Заклучэнне Дагавора аб

		Заходняй Беларусі			сяброўстве і мяжы паміж СССР і Германіяй
80.	тут	Прыняцце Дэкларацыі аб дзяржаўным суверэнітэце БССР	ці		Падпісанне дагавора аб стварэнні Еўрапейскага Саюза

VII.	Напішыце сучасную назву населенага пункта насупраць яго старажытнага айконіма	
	За кожны правільны адказ – 1 бал, усяго за заданне – 9 балаў	
81.	Ландзініум	Лондан
82.	Канстанцінопаль	Стамбул
83.	Екацярынадар	Краснадар
84.	Цалінаград	Нурсултан
85.	Ігумен	Чэрвень
86.	Батавія	Джакарта
87.	Хрысціянія	Осла
88.	Лютэцыя	Парыж
89.	Койданава	Дзяржынск

VIII.	Адкажыце на пытанні да карт-схем	
	За кожны правільны адказ – 1 бал, усяго за заданне – 6 балаў	
90.		91. 
	Горад, у якім у другой палове XVIII стагоддзя французскі натураліст, анатам і хірург Жан Жылібер стварыў батанічны сад, у якім было каля 1500 відаў экзатычных раслін, пазначаны лічбай: 2	Адмірал М. Хорці ў 1920 г. усталяваў сваю дыктатуру ў дзяржаве, тэрыторыя якой пазначана лічбай: 3

<p>92.</p> 	<p>93.</p> 
<p>У 1975 г. дамаглася незалежнасці калонія Партугаліі, тэрыторыя якой пазначана лічбай: 3</p>	<p>З выступлення студэнтаў у маі 1968 года пачаўся агульнанацыянальны крызіс у дзяржаве, пазначанай : 2</p>
<p>94.</p> 	<p>95.</p> 
<p>Дзяржава, тэрыторыя якой заштрыхавана на карце, у 1926 г. уступіла ў міжнародную арганізацыю пад назвай: Ліга нацый</p>	<p>Напішыце нумар, якім пазначаны горад, у якім у 1934 годзе быў пабудаваны першы ў БССР шмапавярховы дом: 2</p>

X. Напішыце, якія гістарычныя падзеі адлюстраваны на карцінах і ў якім годзе яны адбыліся

Кожны поўны адказ – 2 балы (1 бал – падзея, 1 бал – год), усяго за заданне 12 балаў

	
<p>96. Рэвалюцыя 1905–1907 гг. у Расіі (прымаць:</p>	<p>97. Барская канфедэрацыя, 1768 г.</p>

узброенае паўстанне ў Маскве ў снежні 1905 г.)



98. Пабег Генрыха Валуа з Рэчы Паспалітай, 1574 г.

99. Лютаўская рэвалюцыя ў Расіі, 1917 г.



100. Барадзінская бітва, 26.08.1812 г.

101. Пераяслаўская Рада, 8.01.1654 г.