

**10 класс**

**2 тур**

Уважаемые члены жюри! В данном туре предусмотрено 77 заданий, при правильном выполнении которых участники олимпиады могут получить 142 балла. Правильные ответы обозначены жирным шрифтом.

I. Выберите правильный вариант ответа. За это задание Вы можете получить 20 баллов.

1. Биологическая эволюция человека, изменение его внешнего вида и развитие мозга:

- а) антропоморфизм
- б) антропоцентризм
- в) антропогенез**
- г) антропоним

2. «Живые убитые» – так называли в Древнем Египте:

- а) чати
- б) фараонов
- в) жрецов
- г) рабов**

3. Священная книга религии древних иранцев называется:

- а) «Трипитака»
- б) «Авеста»**
- в) «Веды»
- г) «Коран»

4. Кальмарская уния была заключена в:

- а) 1355 г.
- б) 1397 г.**
- в) 1439 г.
- г) 1479 г.

5. К произведениям У. Шекспира НЕ относится:

- а) «Отелло»
- б) «Король Лир»
- в) «Кентервильское приведение»**
- г) «Гамлет»

6. Здание парламента в Лондоне – наглядный пример:

- а) классицизма
- б) неоклассицизма
- в) неоготики**
- г) модерна

7. Автором популярного в Китае в конце XVIII в. произведения «Сон в красном тереме» является:

- а) Цао Сюэцинь**
- б) У Цзинцзы
- в) Ван Фучжи
- г) Цао Цзинхуа

8. Противогаз изобрел русский химик:

- а) Н.Д. Зелинский**
- б) Н.Н. Семёнов
- в) В.И Вернадский
- г) С.В. Лебедев

9. Классическая живопись тушью и минеральными красками на шёлке или бумаге:

- а) эбру
- б) донгхо
- в) байхуа
- г) гохуа**

10. Немецкая операция по захвату Москвы носила название:

- а) «Цитадель»
- б) «Тайфун»**
- в) «Вайс»

г) «Северный ветер»

11. Статуэтки мужчин неолита – начала бронзового века были найдены недалеко от:

а) д. Сухари Могилевской области

**б) д. Осовец Бешенковичского района на Витебщине**

в) Бердыжской стоянки (около д. Подлужье Чечерского района)

г) поселка Светиловичи Ветковского района

12. На территории центральной Беларуси господствовала археологическая культура:

**а) штрихованной керамики**

б) днепро-двинская

в) поморская

г) милоградская

13. Закладка г. Риги епископом Альбертом произошла в:

а) 1199 г.

**б) 1201 г.**

в) 1203 г.

г) 1209 г.

14. «Литовский денарий» начали чеканить при:

а) Витене

б) Гедимине

в) Ольгерде

**г) Витовте**

15. Восстание в Кричевском старостве произошло в:

**а) 1740-1744 гг.**

б) 1754-1756 гг.

в) 1610 г.

г) 1789-1790 гг.

16. Центральной темой В. Короткевич в своем романе «Колосья под серпом твоим» ставит:

- а) чернобыльская катастрофа
- б) восстание 1863-1864 гг.**
- в) война в Афганистане
- г) гражданская война

17. В период революции 1905–1907 гг. на территории Беларуси в состав коалиционных Советов входили как правило представители:

- а) БСГ
- б) Бунда**
- в) РСДРП
- г) СДКПиЛ

18. «Черные тюльпаны» – это:

- а) убитые солдаты и офицеры в цинковых гробах
- б) похоронные письма
- в) фашистская партия Италии
- г) самолеты, которые привозили на родину «груз 200»**

19. Первым секретарем ЦК КПБ в 1965-1980 гг являлся:

- а) П.М. Машеров**
- б) А. Е. Андреев
- в) П.К. Пономаренко
- г) Т. Я. Кисёлов

20. Союз Беларуси и России был основан:

- а) 14 мая 1995 г.
- б) 2 апреля 1997 г.**
- в) 8 декабря 1999 г.
- г) 2 апреля 1996 г

II. Правильно соотнесите элементы двух множеств (например, А1Б2). За это задание Вы можете получить 36 баллов. *За каждое правильное соотнесение – 1 балл*

**21. Картину и её автора**

	
<p><b>A1</b></p>	<p><b>Б3</b></p>
<p>1. Боттичелли</p>	<p>2. Ванькович</p>
	
<p><b>B2</b></p>	<p><b>Г4</b></p>
<p>3. Репин</p>	<p>Брейгель Старший</p>

**22. Правителей и их государства:**

<p>А) Елизавета II</p>	<p>1) Россия</p>
<p>Б) Изабелла</p>	<p>2) Испания</p>
<p>В) Павел I</p>	<p>3) Франкское королевство</p>
<p>Г) Пиппин Короткий</p>	<p>4) Великобритания</p>
<p><b>A4B2B1Г3</b></p>	

**23. Элементы двух множеств:**

А) Картель	1) Полное объединение собственности для совместного производства и сбыта продукции		
Б) Синдикат	2) Объединение трестов или крупных предприятий		
В) Трест	3) Объединение с целью совместного сбыта продукции		
Г) Концерн	4) Объединение предприятий, которые, сохраняя производственную и финансовую самостоятельность, договаривались о ценах, разделе рынков сбыта, регулировании объемов производства		
А – 4	Б – 3	В – 1	Г – 2

**24. Храм и место, где он расположен:**

А) Михайловская церковь	1) Минск		
Б) Церковь Рождества Богородицы	2) Вильно		
В) Петропавловская братская церковь	3) Сынковичи		
Г) Пречистенская церковь	4) Мурованка		
А – 3	Б – 4	В – 1	Г – 2

**25. Город и дату принятия магдебургского права:**

А) Минск	1) 1499 г.		
Б) Могилев	2) 1577 г.		
В) Витебск	3) 1597 г.		
Г) Новогрудок	4) 1511 г.		
А – 1	Б – 2	В – 3	Г – 4

**26. Деятели и сферу культуры, в которой он известен:**

А) О. Роден	1) Литература		
Б) А. Адамович	2) Музыка		

В) К. Шульженко		3) Скульптура	
Г) П. Пикассо		4) Живопись	
А – 3	Б – 1	В – 2	Г – 4

**27. Даты и события:**

А) 992 г.		1) Создание Туровской епархии	
Б) 1005 г.		2) Крещение Киевской Руси	
В) 1054 г.		3) Раскол христианства на католичество и православие	
Г) 988 г.		4) Создание Полоцкой епархии	
А – 4	Б – 1	В – 3	Г – 2

**28. Даты и события:**

А) 1926 г.		1) создан Государственный театр оперы и балета БССР	
Б) 1932 г.		2) открыта Белорусская государственная филармония	
В) 1933 г.		3) открыта Белорусская государственная консерватория	
Г) 1937 г.		4) Переход к всеобщей начальному образованию	
А – 4	Б – 3	В – 1	Г – 2

**29. События истории США и их даты:**

А) Создание Республиканской партии		1) 1857	
Б) Победа на президентских выборах А. Линкольна		2) 1854	
В) Постановление Верховного суда о том, что раб остаётся рабом в любом штате		3) 1860	
Г) Начало Гражданской войны		4) 1861	
А – 2	Б – 3	В – 1	Г – 4

III. Расставьте в хронологической последовательности события. За это задание Вы можете получить 20 баллов. *За каждый правильный ответ – 1 балл*

**30. События истории Китая:**

А) Вторжение Японии в Маньчжурию	В) Создание коммунистической партии Китая
Б) Смерть Сунь Ятсена	Г) Подписание советско-китайского договора о ненападении
<b>ВБАГ</b>	

**31. События истории Великой Отечественной войны:**

А) Освобождение Гродно	В) Освобождение Бреста
Б) Начало блокады Ленинграда	Г) Сражение на Буйничском поле
<b>ГБАВ</b>	

**32. События истории Древнего Рима:**

А) Завоевание Малой Азии	В) Война с Пирром
Б) Нашествие галлов	Г) Вторая Пуническая война
<b>БВГА</b>	

**33. События Ливонской войны:**

А) Битва на реке Улла	В) Захват русскими войсками Дерпта
Б) Взятие войсками Стефана Батория Полоцка	Г) Втягивание ВКЛ в войну
<b>ВГАБ</b>	

**34. Обретение независимости африканскими государствами:**

А) Ливия	В) Ангола
Б) Гана	Г) Судан
<b>АГБВ</b>	



IV. Выберите правильный ответ. За это задание Вы можете получить 10 баллов. Верно ли, что: *За каждый правильный ответ – 2 балла*

**35.**

1. Столицей Священной Римской империи был Рим.
  2. 268 конкистадоров во главе с Кортесом захватили Империю ацтеков.
- А) верно 1  
Б) верно 2  
В) верно 1 и 2  
Г) неверно 1 и 2

**36.**

1. Дени Дидро принадлежит фраза «Знание – сила»
  2. Папа Иннокентий VI – автор фразы «Цель оправдывает средства»
- А) верно 1  
Б) верно 2  
В) верно 1 и 2  
Г) неверно 1 и 2

**37.**

1. США вступили в Первую мировую войну в апреле 1917 года
  2. ССРБ была создана 1 декабря 1919 года
- А) верно 1  
Б) верно 2  
В) верно 1 и 2  
Г) неверно 1 и 2

**38.**

1. Генеральный округ «Беларусь» входил в рейхскомиссариат «Остланд»
  2. Гомельский завод сельскохозяйственного машиностроения был построен в годы первой пятилетки
- А) верно 1  
Б) верно 2  
В) верно 1 и 2  
Г) неверно 1 и 2

**39.**

1. Северо-восточную часть современной РБ заселяли племена радимичей
  2. Паны-рада как официальный орган был узаконен в правление великого князя Александра
- А) верно 1  
Б) верно 2

- В) верно 1 и 2  
Г) неверно 1 и 2

<p>V. Определите следующие понятия. За это задание Вы можете получить 10 баллов. <i>(каждый правильный ответ – 1 балл)</i></p>		
40.	<b>Тройственный союз</b>	Военно-политический блок Германии, Австро-Венгрии и Италии, сформировавшийся в 1882 году
41.	<b>Разночинцы</b>	В России XIX века выходцы из различных сословий, занимавшиеся преимущественно умственным трудом
42.	<b>«Кодзики»</b>	Сборник японских мифов и легенд (VII–VIII вв.)
43.	<b>Василевс</b>	Византийский термин, обозначающий императора
44.	<b>Клинопись</b>	Система письма древних народов Месопотамии
45.	<b>Амулет</b>	Предмет (вещь), который люди носили на теле, веря, что он оберегает их от опасности, помогает достичь успеха в делах и хозяйственной деятельности
46.	<b>Волок</b>	Сухопутная часть водного пути (торгового), которая находится между двумя реками
47.	<b>Земство</b>	Орган местного самоуправления, который ввели в Витебской, Минской и Могилёвской губерниях в 1911 г.
48.	<b>Посад</b>	Городское торгово-ремесленное поселение за пределами укреплений

		детинца или окольного города
49.	Этнография	Наука изучающая бытовые и культурные особенности этносов (народов), проблемы их происхождения, расселения и культурно-исторического взаимодействия

VI. Отметьте «птичкой» в соответствующем поле, какое событие произошло позже. За это задание Вы можете получить 10 баллов. **Каждый правильный ответ – 1 балл**

50.	Начало княжение Миндовга в Новогрудке	или	Образование Делийского султаната
51.	Окончание Ливонской войны	или	Созыв первого Земского собора в России
52.	Третий раздел Речи Посполитой	или	Якобинская диктатура во Франции
53.	Образование белорусской социалистической громады	или	<b>Мексиканская революция</b>
54.	Второе укрупнение БССР	или	Рапальский договор между Германией и СССР
55.	Поход Красной Армии в Западную Беларусь	или	<b>Мюнхенское соглашение о разделе Чехословакии</b>
56.	Освобождение Бреста от немецко-фашистских захватчиков	или	<b>Окончание операции «Багратион»</b>
57.	Первые выборы Президента в РБ	или	Роспуск СЭВ и ОВД
58.	Образование ЕАЭС	или	Мятеж ГКЧП
59.	Референдум по смене государственной символики в РБ	или	Первые выборы президента в РБ

VII. Правильно расшифруйте аббревиатуры. За это задание Вы можете получить 12 баллов.  
(Каждый правильный ответ – 2 балла)

60.	СВБ	Союз воинствующих безбожников
61.	ГКЧП	Государственный комитет по чрезвычайному положению
62.	РПЦ	Русская Православная Церковь
63.	Инбелкульт	Институт белорусской культуры
64.	ОДКБ	Организация договора о коллективной безопасности
65.	ВОЗ	Всемирная организация здравоохранения

VIII. Определите историческое событие, изображённое на картинке, и год, когда оно произошло. За это задание Вы можете получить 12 баллов. *За каждый правильный ответ – 1 балл.*









66. Коронация Карла Великого императорской короной 800 г.	67. Битва на реке Неве 1240
--	--------------------------------

	
<b>68. Битва на Синих Водах</b> 1362	<b>69. Убийство Кейстута</b> 1382
	
<b>70. Революция в Вене</b> 1848	<b>71. Переговоры в Брест-Литовске</b> 1918

IX. Определите учёных, спортсменов, деятелей культуры, Героя Беларуси. За это задание Вы можете получить до 12 баллов. **Каждый правильный ответ – 2 балла**



		
<b>72. В. Н. Карват</b>	<b>73. В. Мулявин</b>	<b>74. В. Щербо</b>
		
<b>75. В. Ф. Купреевич</b>	<b>76. П. О. Сухой</b>	<b>77. М. Н. Пташук</b>