

**Электронный вариант дидактических картографических материалов с элементами интерактивности по учебному предмету «Всемирная история» для 10 класса учреждений образования, реализующих образовательные программы общего среднего образования**

Тематика дидактических картографических материалов для 10 класса

№	Тема
1.	Походы Александра Македонского.
2.	Территориальный рост древнеримского государства, становление Римской империи.
3.	Крестовые походы.
4.	Завоевания монголов и образование Монгольской империи.
5.	Древняя Русь в период политической раздробленности.
6.	Рост Московского княжества.
7.	Рост территории Российского государства.
8.	Столетняя война.
9.	Европа после 1648 г.
10.	Войны в Европе XVIII в.

### **1) Походы Александра Македонского**

Последовательность карт:

– Возвышение Македонии в 359–336 гг. до н.э. (врезка к карте 2).

1. Держава Ахеменидов накануне македонского завоевания (IV в. до н.э.).
2. Создание империи Александра Македонского (IV в. до н.э.).
3. Государства диадохов до 301 г. до н.э.
4. Государства диадохов после 301 г. до н.э.

### Возвышение Македонии в 359–336 гг. до н.э.



Карта «Возвышение Македонии в 359–336 гг. до н.э.»

Держава Ахеменидов накануне македонского завоевания (IV в. до н.э.)



● ВАВИЛОН Столицы государств	■ ТЕРРИТОРИИ
○ Персеполь Субстолицы Державы Ахеменидов	■ Державы Ахеменидов
○ Фивы Другие города	■ заселенные греками
----- Границы сатрагий Державы Ахеменидов	■ мидия Исторические области
	■ саки Народы

На карте числами обозначены сатрапии Державы Ахеменидов по списку Геродота:  
 1 – Иония; 2 – Лидия; 3 – Каппадокия; 4 – Киликия; 5 – Заречье (Ассирия); 6 – Египет (и Кирена); 7 – Саттагидия и Гандхара; 8 – Элам (Киссия, Сузиана); 9 – Вавилония; 10 – Мидия; 11 – Каспиана; 12 – Бактрия; 13 – Армения (зап.); 14 – Дрангиана и Кармания; 15 – саки и каспи; 16 – Парфия, Хорезм, Аррей и Согдиана; 17 – Азиатская Эфиопия; 18 – Армения (вост.); 19 – причерноморские племена; 20 – Индия.

Карта «Держава Ахеменидов накануне македонского завоевания (IV в. до н.э.)

Создание империи Александра Македонского (IV в. до н.э.)



● ВАВИЛОН Столицы государств	■ ТЕРРИТОРИИ	→ НАПРАВЛЕНИЯ ПОХОДОВ
○ Города, основанные Александром Македонским	■ Македонского царства в 336 г. до н.э.	→ основного войска Александра
○ Александрия	■ империи Александра Македонского	→ флота во главе с Нearchом
----- Границы империи Александра Македонского	■ мидия Исторические области	→ части войска во главе с Кратером
	■ саки Народы	X 331 Места и годы важнейших сражений
		O Осады крепостей войсками Александра

Карта «Создание империи Александра Македонского (IV в. до н.э.)

Всплывающая информация на карте 2

1

334 год до н.э. – Битва при Гранике.

Противник – Войско персидских сатрапов (Арсит и др.).

Потери Александра незначительные, персы потеряли до 2,5 тыс. всадников и большую часть пехоты, 2 тыс. воинов попали в плен.



Ш. Лебрен, «Битва при Гранике». 1665. Лувр, Париж

2

333 год до н.э. – Битва при Иссе.

Противник – персидское войско царя Дария III.

Александр потерял 150 всадников и 300 пехотинцев. Потери персов составили до 50 тыс. чел. Македоняне захватили богатую добычу.



Ян Брейгель. Битва при Иссе, Лувр

3

331 г. до н.э. – Битва при Гавгамелах.

Противник – персидское войско царя Дария III.

Потери Александра незначительны – до 500 убитых воинов. Персы потеряли ок. 30 тыс. убитыми, столько же пленными. Результатом стало уничтожение Державы Ахеменидов.



Ян Брейгель Старший. «Битва при Гавгамелах» (1602)

4

331 г. – Взятие без боя Вавилона.

Александра жители провозгласили «царем Всего» и «царем четырех сторон света».



Александр вступает в Вавилон. Лебрен, ок. 1664 года

5

326 г. до н.э. – Битва при Гидаспе.

Противник – войско индийского царя Пора.

Потери Александра незначительны – 700 пехотинцев, 280 всадников, потери индов – 12 тыс. Царь Пор попал в плен и стал союзником и вассалом Александра.



Картина Шарля Лебрена, изображающая Александра и Пора во время битвы при Гидаспе

Государства диадохов до 301 г. до н.э.



Карта «Государство диадохов до 301 г. до н.э.»

Всплывающая информация на карте 3

- 1 – Македонское царство, в котором в 316 г. до н.э. захватил власть один из полководцев Александра Македонского Кассандр, правивший до 297 г. до н.э.
- 2 – Территория Фракии, отданная в управление Лисимаху сразу после смерти Александра Македонского в 323 г. до н.э. Лисимах провозгласил себя царем и сумел захватить Македонию.
- 3 – Владения Антигона, который сумел на некоторое время захватить власть почти над всей территорией державы Александра Македонского (кроме Македонии и Египта). Но Антигон был убит в 301 г. в битве при Ипсе, его владения разделены противниками.
- 4 – Египетское царство, в котором правила династия Птолемеев, потомков соратника (диадоха) Александра Македонского. Птолемей в 306 г. до н.э. принял титул царя.
- 5 – Владения Селевка, сумевшего подчинить значительную территорию, хотя походы в Индии были неудачными. Государство Селевкидов существовало до 64 г. до н.э.



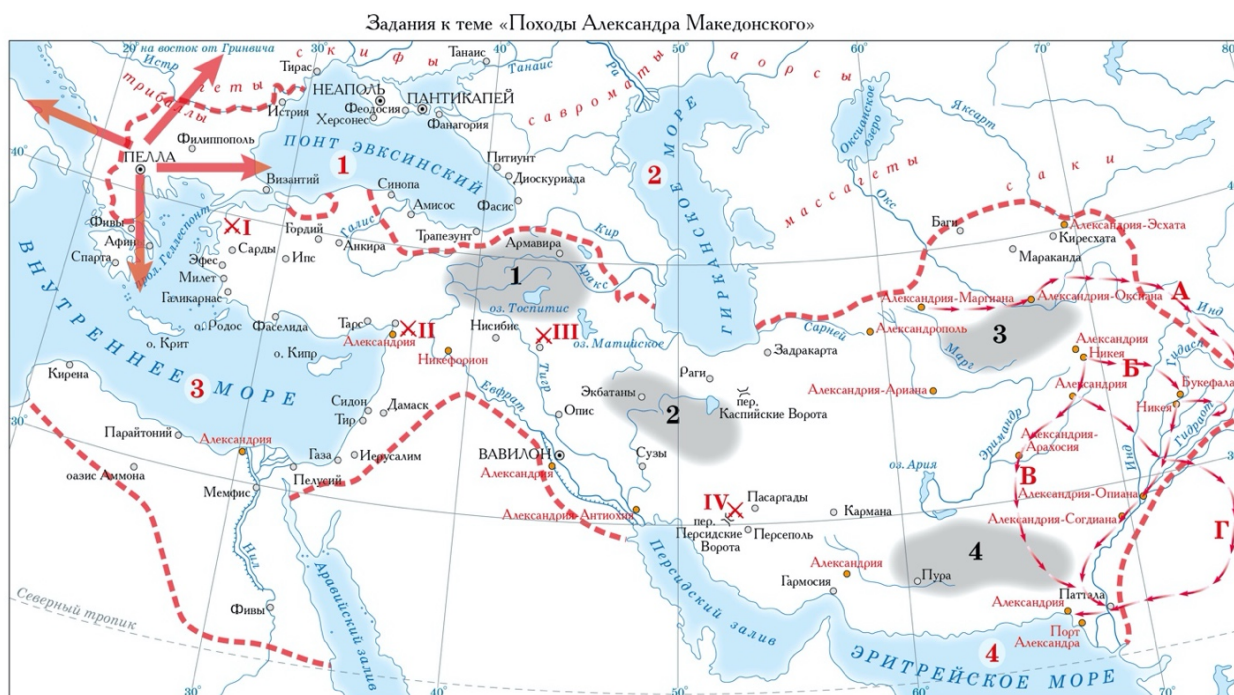
Карта «Государство диадохов после 301 г. до н.э.»

Всплывающая информация на карте 4

- 1 – Македонское царство, в котором до 297 г. до н.э. продолжил править Кассандр (был женат на сестре Александра Македонского).
- 2 – Царство Лисимаха, после битвы при Ипсе получившего значительную часть Малой Азии; вскоре было разгромлено Селевком, его территория в основном отошло к владениям последнего (кроме Пергама).
- 3 – Египетское царство, в котором правила династия Птолемеев, потомков соратника (диадоха) Александра Македонского. После битвы при Ипсе получило Палестину, область Дамаска и южную Финикию.
- 4 – Государство Селевкидов, после разгрома Антигона в битве при Ипсе в 301 г. до н.э. получил Сирию и Северную Месопотамию. Позднее к этому же государству отошли основные владения царства Лисимаха.

Задания





Картосхема «Задания к теме “Походы Александра Македонского”»

1. Историческая область Бактрия обозначена на карте черной арабской цифрой:
  - а) 1
  - б) 2
  - в) 3
  - г) 4
2. Битва при Гавгамелах отмечена на карте красной римской цифрой:
  - а) I
  - б) II
  - в) III
  - г) IV
3. Направление индийского похода Александра Македонского отмечено на карте буквой:
  - а) А
  - б) Б
  - в) В
  - г) Г
4. По отношению к Македонии территория современной Республики Беларусь находится:
  - а) на северо-востоке
  - б) на юге
  - в) на северо-западе
  - г) на востоке
5. Соотнесите древние названия морей с их современными названиями:

1. Понт Эвксинский	А. Средиземное море
2. Гирканское море	Б. Черное море
3. Внутреннее море	В. Аравийское море

Верно ли, что:

- Священный город Иерусалим оказался на территории империи Александра Македонского? (Да)
- Македонские воины перешли Кавказские горы? (Нет)
- Территория современной Турции, включая европейские и азиатские области, входила в состав империи Александра Македонского? (Да)
- Александру покорились греческие колонии на Крымском полуострове? (Нет)
- В империю Александра попала часть территории современного Туркменистана? (Да)

## 2) Территориальный рост древнеримского государства, становление Римской империи

Последовательность карт:

1. Италия в VII–III вв. до н. э.
2. Формирование римской средиземноморской державы.
3. Римская империя в I–II вв. н. э.
4. Карта с заданиями.

Карта 1.



Карта «Завоевание Римом Италии в конце VI – середине III в. до н.э.»

Обозначены места основных сражений, территориальная экспансия Рима.

Всплывающая информация на карте 1.

### 1. Войны с Вейями.



#### Древний Рим. Реконструкция

Одним из первых направлений экспансии Древнего Рима стала территория на противоположном берегу реки Тибр. Почти напротив Рима там располагался богатый и могущественный этрусский город Вейи. Для того, чтобы его покорить, римляне вели три войны, в общей сложности продолжавшиеся с 483 по 396 г. до н. э. В одном из сражений было почти полностью уничтожено знатное римское семейство Фабиев; уцелел лишь один мальчик, который стал новым прародителем рода. Вейи покорились только после ожесточённого штурма, в ходе которого часть римского войска проникла в город через подкоп. Согласно легенде, увидев размеры добычи, римский полководец Камилл испугался зависти богов. Он стал молиться, чтобы ему не пришлось за этот успех в последующем заплатить слишком дорогой ценой.


### 2. Битва в Кавдинском ущелье.



Итоги битвы в Кавдинском ущелье

Укрепившись в области Лации, римляне начали экспансию в Центральной Италии. Их основным противником здесь стали племена самнитов. Войны Рима с самнитами продолжались более полувека с перерывами. Одной из причин этого были непривычные для римлян условия ведения боевых действий в горной местности. В 321 г. до н. э. четыре римских легиона попали в засаду в Кавдинском ущелье: они оказались заперты самнитскими войсками в окружённой горами местности, не смогли пробиться и были вынуждены сдаться. Для возвращения на родину римские солдаты были вынуждены подвергнуться унижительной процедуре прохождения под ярмом. Из поражения были извлечены уроки – римское войско было реорганизовано в относительно небольшие мобильные подразделения. Это облегчило римлянам ведение войны в гористой местности области проживания самнитов.

### 3. «Пиррова победа».



Слоны в битве с Пирром

Самым серьёзным противником римлян в начале III в. до н. э. был Пирр – царь исторической области Эпир, расположенной на Балканском полуострове. Переправившись через Ионическое море, армия Пирра вторглась в Италию, опираясь на союзный город Тарент. Войско включало 20 000 пехотинцев, 2000 лучников, 500 пращников, 3000 всадников, 20 боевых слонов. Главным противником Пирра стали римляне, которые потерпели от него несколько поражений. Последним поражением римского войска стала битва при Аускуле в 279 г. до н. э. Хотя по итогам сражения римляне отступили, Пирр потерял очень много солдат. Он сказал: «Если мы одержим ещё одну победу над римлянами, то окончательно погибнем». Отсюда возникло выражение «пиррова победа»,

означающее: сомнительная победа, не оправдывающая понесённых за неё потерь. Не случайно после сражения при Аускуле Пирр был вынужден предложить римлянам перемирие, от которого они отказались. Спустя четыре года войско Пирра было разгромлено римлянами и их союзниками, и эпирский царь был вынужден вернуться на родину.

Карта 2.



Рисунок 51 – Карта «Римская республика в 264–27 гг. до н.э.»

Обозначены места основных сражений, территориальная экспансия Рима, названия покорённых государств.

Всплывающая информация на карте 2.

Картинки «привязаны» к тем или иным областям на карте:

Публий Корнелий Сципион	Юг Испании
Публий Корнелий Сципион Эмилиан	Карфаген
Гай Марий	Север Италии
Гней Помпей	Сирия
Гай Юлий Цезарь	Галлия

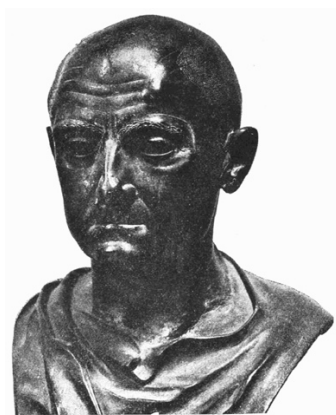
1. Публий Корнелий Сципион.



Древнеримский бюст Сципиона

Первый из великих римских полководцев периода расцвета Римской республики и превращения её в великую средиземноморскую державу. В разное время командовал войсками на территории Испании, Северной Африки, Сирии. Одержал победу над Ганнибалом в битве при Заме в 202 г. до н. э., что позволило римлянам присоединить испанские владения Карфагена. В последующие годы Сципион отличился в войне против сирийского царя Антиоха III, разбив в 190 г. до н. э. его армию в битве при Магнесии. Антиох запросил мир, уступив римлянам значительные территории в Малой Азии.

## 2. Публий Корнелий Сципион Эмилиан.



Портрет Публия Корнелия Сципиона Эмилиана

Был родственником и приёмным внуком победителя Ганнибала Публия Корнелия Сципиона Старшего. Заслужил признание в качестве храброго и способного командира во время осады Карфагена (148-146 гг. до н. э.), по итогам которой город был захвачен и разрушен. Наиболее известная победа под командованием самого Сципиона Эмилиана – взятие Нуманции. Этот испанский город оказал упорное сопротивление римлянам. Осада продолжалась 8 месяцев, в течение которых жители Нуманции испытывали голод и мор. Не желая стать

рабами римлян, в итоге они подожгли свой город и начали убивать друг друга. За эту победу Сципион Эмилиан был удостоен триумфа.

### 3. Гай Марий.



Древнеримский бюст Гая Мария

Один из самых видных полководцев и политиков Римской республики, 7 раз занимавший должность консула. Реформировал римскую армию, сделав упор на единообразии вооружения и экипировки. При этом численность легиона увеличилась до 5 000 тяжело вооружённых пехотинцев. Конницу и лёгкую пехоту стали набирать исключительно из числа римских союзников. В качестве полководца Гай Марий выдвинулся в период войны против нумидийского царя Югурты. Самая знаменитая его победа – разгром германских племён кимвров и тевтонов, которые вторглись на Апеннинский полуостров (битва при Верцеллах, 101 г. до н. э.).


### 4. Гней Помпей.



Древнеримский бюст Гнея Помпея

Успешно командовал войсками в Италии, Испании, Африке, Малой Азии и Сирии. Нетривиальной задачей, выполненной Помпеем. Было избавление Средиземного моря от многочисленных пиратов. Для этой цели он снарядил флот в составе около 500 кораблей и разделил море на 13 зон, распределив ответственность за них среди своих подчинённых. Основные силы пиратов были разгромлены в морском сражении у Коракесии в 67 г. до н. э. После этого Помпей руководил кампанией в Сирии и Палестине, подчинив власти Рима огромные территории.

#### 5. Гай Юлий Цезарь.



Древнеримский бюст Гая Юлия Цезаря

Карьера Цезаря началась в политике, в качестве одного из лидеров влиятельной «партии» популяров. В первой половине I в. до н. э. Римскую республику раздирали противоречия между борющимися за власть группировками знати, нередко были волнения обнищавшего крестьянства и городской бедноты. Гражданское противостояние завершилось в 62 г. до н. э. соглашением между тремя ведущими политиками, двумя из которых были Помпей и Цезарь. Согласно этому соглашению, Цезарь получил право набрать войско для завоевания обширной области Галлии. На протяжении 8 лет он вёл боевые действия против галльских и германских племён, завоевав для Рима огромные территории. Кульминацией Галльских войн Цезаря стала осада Алезии. За свои победы в Галлии он заслужил триумф и почётное звание императора. После возвращения в Рим Цезарь начал новую гражданскую войну, приобретя по её итогам единовластие в обширной римской державе.

#### 6. Битва при Каннах, 216 г. до н. э.





«Ганнибал при Каннах». Гравюра XIX века.

Битва при Каннах стала самым разгромным поражением римлян в истории Пунических войн против Карфагена. Карфагенский полководец Ганнибал перенёс бремя войны на римлян, вступив во главе большой армии на территорию Италии. Ему удалось разгромить своих противников в сражениях на Тразименском озере и при Требии. Под городком Канны Ганнибал применил тактику флангового охвата с последующим окружением противника. Эта победа вошла в учебники военного дела, хотя карфагенянам не удалось вполне воспользоваться ею в своих интересах.

#### 7. Битва при Заме, 202 г. до н. э.



«Битва при Заме». Гравюра Корнелиса Корта, 1567 г.

Последнее сражение Второй Пунической войны, в котором римлянам под командованием Публия Корнелия Сципиона противостояли карфагеняне Ганнибала. По свидетельству историков древности, Сципион вынудил карфагенян принять бой, создав угрозу для их столицы. При этом карфагенян было больше, ядро их войска составляли боевые слоны. Благодаря подготовленности и умелому действию кавалерии римляне одержали победу. Карфагеняне потеряли практически всё войско; сам Ганнибал едва избежал смерти.

#### 8. Битва при Киноскефалах, 197 г. до н. э.



Битва при Киноскефалах

В этом сражении впервые столкнулись между собой римские легионы и македонская фаланга. Численность противостоящих армий была приблизительно одинакова, поэтому битва должна была решить, чья военная организация и тактика лучше. Вначале в сражении побеждали македоняне. Из-за холмистой местности строй фаланги был нарушен, она стала уязвимой для фланговой атаки, чем воспользовались римляне. В итоге македонский царь бежал, его армия была разбита. По итогам этой победы Греция была освобождена из под власти Македонии, попав в зависимость от римлян.

#### 9. Битва при Верцеллах, 101 г. до н. э.



«Битва при Верцеллах». Джованни Батиста Тьеполо, 1725-29 гг.

Первые столкновения римлян с германцами связаны с вторжением кимвров и тевтонов на Апеннинский полуостров. Около 120 г. до н. э. эти германские племена двинулись в долины Дуная, а затем в Галлию, где нанесли римлянам ряд поражений. По свидетельству историков древности, воины кимвров и тевтоном двигались вместе с женщинами и детьми, намереваясь захватить для расселения новые земли. Для отражения угрозы Гай Марий был в очередной раз избран консулом и собрал войско против германцев. Благодаря его победе угроза со стороны кимвров и тевтонов для Рима миновала.

#### 10. Битва при Алезии, 52 г. до н. э.



«Верцингеторикс сдаётся Юлию Цезарю после проигранной битвы при Алезии». Лионель Руае, 1899 г.

Алезия была укреплённым городом, который избрал в качестве своей штаб-квартиры вождь галльских племён Верцингеторикс. На протяжении нескольких лет

Верцингеторикс сражался против легионов Гая Юлия Цезаря, пока не оказался вынужден отступить в Алезию. Город находился на вершине высокого холма, омываемого с двух сторон реками. Его было непросто взять, поэтому Цезарь окружил город двумя кольцами укреплений. Одно было направлено против осаждённых, другое – против ожидавшейся им подмоги. Римлянам удалось отбить согласованную атаку извне и из города. Осознав бесполезность дальнейшего сопротивления римлянам Верцингеторикс сдался в плен.

Карта 3.



Рисунок 62 – Карта «Формирование территории Римской империи»  
 Всплывающая информация на карте 3.

При нажатии на название провинции, племени или государства появляется дополнительная информация:

Британия	Клавдий
Мёзия	Клавдий
Норик	Клавдий
Ликия и Памфилия	Клавдий
Фракия	Клавдий
Иудея	Клавдий
Мавретания	Клавдий

Дакия	Траян
Армения	Траян
Месопотамия	Траян
Ассирия	Траян
Аравия	Траян
Парфянское царство (там же, где Месопотамия)	Марк Аврелий
Маркоманы (к северу от Паннонии, Норика, Реции)	Марк Аврелий

### 1. Клавдий.



Древнеримский бюст Клавдия

Император Клавдий (годы правления – 41-54 гг.) первым из императоров после Августа продолжил внешнюю экспансию Рима. При нём была завоёвана и обращена в провинцию южная часть острова Британия. При этом поход римской армии и боевые действия против местного населения заняли всего 16 дней. Кроме того, Клавдий обратил в римские провинции несколько небольших государств, уже давно находившихся в зависимости от Рима. Так образовались провинции Мёзия, Норик, Ликия и Памфилия, Фракия, Иудея, Мавретания. При этом Клавдий был мирным человеком, которого больше всего интересовали учёные занятия и общение со своими жёнами.

### 2. Траян.



## Древнеримский бюст Траяна

Наибольшего расширения Римская империя достигла при Траяне (правил в 98-117 гг.). Это был известный полководец, усыновлённым предыдущим императором ради сохранения стабильности в государстве. Можно сказать, что Траян оправдал возложенные на него ожидания. Он вёл активную завоевательную политику, присоединив силой оружия четыре новые провинции на востоке: Армению, Месопотамию, Ассирию, Аравию. Большим достижением было покорение проживавших к северу от Дуная племён даков; их столица Сармизегетуза была захвачена, а область расселения преобразована в провинцию Дакию. Помимо войн Траян вёл взвешенную внутреннюю политику, за что время его правления получило у современников характеристику «счастливейшего века».

### 3. Марк Аврелий.



### Древнеримский бюст Марка Аврелия

Одному из преемников Траяна, императору Марку Аврелию (правил в 161-180 гг.) пришлось вести уже не наступательную, а оборонительную политику. На востоке он вёл войну с Парфянской империей, в результате которой Рим отказался от Месопотамии, хотя и сохранил за собой Армению. Особую обеспокоенность римлян вызывали нападения германских племён маркоманов, проживавших к северу от верховьев Рейна и Дуная. Марк Аврелий лично возглавил войска, но внезапно умер от чумы. Считается, что с его смертью завершилась череда правлений «хороших императоров».

### Задания



Карта “Римская республика к 27 г. до н.э.”

Соответствие цифр с историческими областями:

I	Британия
II	Галлия
III	Испания
IV	Нумидия
V	Иллирия
VI	Понт
VII	Галатия
VIII	Сирия

Соотнесите цифры на карте с государствами и историческими областями, покорёнными римлянами.

1. Историческая область Галлия обозначена на карте римской цифрой:

- А) I
- Б) II
- В) III
- Г) IV

Правильный ответ: б

2. Историческая область Понт обозначена на карте римской цифрой:

- А) V

- Б) VI
- В) VII
- Г) VIII

Правильный ответ: б

3. Историческая область Нумидия обозначена на карте римской цифрой:

- А) I
- Б) II
- В) III
- Г) IV

Правильный ответ: г

4. Историческая область Иллирия обозначена на карте римской цифрой:

- А) V
- Б) VI
- В) VII
- Г) VIII

Правильный ответ: а

5. Историческая область Галатия обозначена на карте римской цифрой:

- А) V
- Б) VI
- В) VII
- Г) VIII

Правильный ответ: в

Соотнесите противников Рима и места сражений с ними:

1	Галлы	А	Алезия
2	Даки	Б	Вейи
3	Карфагеняне	В	Верцеллы
4	Кимвры	Г	Зама
5	Македонцы	Д	Кавдинское ущелье
6	Самниты	Е	Киноскефалы
7	Этруски	Ж	Сармизегетуза

Правильные ответы: 1А, 2Ж, 3Г, 4В, 5Е, 6Д, 7Б.

Верно ли утверждение:

Римляне начали войны с народами Балканского полуострова после подчинения Италии (Апеннинского полуострова).

Правильный ответ: нет, в 281 г. до н. э. на территорию Италии вторглось войско эпирского царя Пирра. Только после победы над ним римляне завершили покорение юга Апеннинского полуострова.

Сципион Эмилиан командовал римскими войсками при взятии Карфагена.



Правильный ответ: да. Сципион Эмилиан принимал участие в осаде Карфагена в качестве одного из командиров. После его назначения командующим карфагеняне стали терпеть поражения, в итоге город был взят и разрушен.

Вся история Римской империи представляла собой территориальную экспансию.

Правильный ответ: нет. В правление императора Тиберия римляне отошли от политики экспансии. На несколько десятилетий границы Римской империи стабилизировались. При Клавдии внешняя экспансия была возобновлена и продолжилась при некоторых его преемниках. Наибольшего расширения империя достигла при Траяне. При Марке Аврелии и последующих императорах территория Римской империи стала уменьшаться за счёт территориальных уступок.

Как Вы думаете, почему римляне отказались пойти на перемирие с Пирром после битвы при Аускуле?

Как Вы думаете, почему в I в. до н. э. полководцы (Помпей, Цезарь) стали претендовать на единоличную власть в Римской республике?

Как Вы думаете, почему в правление Тиберия римляне отказались от политики расширения границ (территориальной экспансии)?

### **3) Крестовые походы**

Последовательность карт:

1. Первый крестовый поход.
2. Второй крестовый поход.
3. Третий крестовый поход.
4. Четвёртый крестовый поход.
5. Паломничество Евфросинии Полоцкой в Святую Землю.

Карта 1.



Карта «Первый крестовый поход (1096–1099)»

Всплывающая информация на карте 1

1. Клермонский собор.



«Папа Урбан II на площади Клермона проповедует первый крестовый поход». Франческо Хайес, 1835 г.

После захвата в 1074 г. мусульманами Иерусалима римский папа Григорий VII призвал жителей христианских государств Западной Европы освободить этот священный город. Тогда его призыву никто не внял. Однако, в 1095 г. в Западную Европу прибыло посольство от византийского императора с просьбой оказать помощь в борьбе против сельджуков. Новый римский папа Урбан II на церковном соборе в городе Клермоне вновь призвал к «освобождению» Палестины и Иерусалима. Урбан произнёс страстную речь, обещав участникам похода отпущение грехов и возможность приобрести богатства. Вскоре на его призыв откликнулись тысячи обездоленных жителей разных стран, а также представители европейского рыцарства.

## 2. Крестовый поход бедняков.



«Крестовый поход бедняков». Миниатюра конца XV в.

Первой в поход в Святую Землю выступила армия из крестьян и обедневших рыцарей. По данным средневековых историков, в этом крестовом походе бедняков участвовало от 100 до 300 тысяч человек, включая женщин и детей. Вдохновителем похода бедноты был проповедник Пётр Пустынник. Его «армия» не отличалась организованностью, почти не имела вооружения, отмечала свой путь в Палестину воровством и грабежами. Когда измученные долгим переходом крестоносцы-бедняки переправились в Малую Азию, их быстро разбили войска сельджуков. Несколько десятков тысяч крестоносцев погибло.

## 3. Готфрид Бульонский.



«Готфрид Бульонский», гравюра XIX в.

Лидером Первого крестового похода был правитель одного из небольших германских княжеств, Готфрид Бульонский. После поражения крестового похода бедноты он возглавил одну из армий рыцарей-крестоносцев. После взятия в 1099 г. Иерусалима крестоносцы избрали Готфрида королём и присвоили ему титул защитника Гроба Господня. Готфрид организовал управление Иерусалимским королевством, ввёл в действие законодательный свод. Однако, правил он недолго, умерев уже в 1100 г.

#### 4. Осада Антиохии.



«Осада Антиохии крестоносцами», книжная миниатюра конца XV в.

Осада сирийского города Антиохии в 1097-98 гг. было одним из ключевых событий Первого крестового похода. Осада была долгой и изнурительной для обеих сторон. Разорив в первые месяцы осады прилегающие к городу территории, крестоносцы начали испытывать нехватку продовольствия. Они стали умирать от голода и болезней, возросли случаи дезертирства. Несмотря на это им удалось

разгромит направленную на помощь осаждённым армию сельджуков. Вскоре после этого город был захвачен благодаря предательству. Охваченные мстостью и жадностью крестоносцы грабили дома и убивали жителей Антиохии. По свидетельству современника, «все площади города были забиты телами мертвецов, никто не мог пройти по улицам иначе, как по трупам».

## 5. Вступление в Иерусалим.



«Взятие Иерусалима крестоносцами». Эмиль Синьоль, 1847 г.

После захвата Антиохии между предводителями крестоносцев начался разлад. Некоторые из них захотели возглавить собственные государства на завоёванных землях. Так образовались графство Эдесское, княжество Антиохийское, графство Триполи. Всё же большинство крестоносцев стремились захватить Иерусалим, к стенам которого они подступили в начале июня 1099 г. Увидев долгожданную цель похода, многие воины опускались на колени, плакали и молились. Осада города была трудной, в том числе потому, что мусульмане отравили близлежащие колодцы. Иерусалим удалось взять после решающего штурма 15 июля. Так же как и в Антиохии, крестоносцы устроили в городе резню, перебив почти всё его мусульманское население.

## 6. Государства крестоносцев.



Карта «Государства, созданные крестоносцами»

Карта 2.

В результате Первого крестового похода на территории Сирии и Палестины было образовано несколько небольших государств. Их основное население составляли местные мусульмане, христиане и иудеи. Часть жителей были переселенцами из различных стран Западной Европы. Правители государств крестоносцев во главе с Иерусалимским королём отчаянно оборонялись от соседних мусульманских государств, но постепенно утрачивали позиции. В 1144 г. сельджуки захватили Эдессу. Это событие вызвало Второй крестовый поход (1147-49 гг.). В 1268 г. мамлюки взяли Антиохию, в 1289 г. – Триполи. Главная твердыня крестоносцев, Иерусалим, был захвачен сельджукским султаном Саладином в 1187 г. Захват города потряс христианский мир и привёл к Третьему крестовому походу (1189-92 гг.). Однако, город вернуть не удалось. Последний оплот крестоносцев в Палестине, город Акра, пал в 1291 г.



Карта «Второй крестовый поход (1147–1149)»

Карта 3



Карта «Третий крестовый поход (1189–1192)»

Карта 4



Карта «Четвертый крестовый поход (1202–1204)»

Всплывающая информация на карте 4.

1. Осада Константинополя крестоносцами.



«Осада Константинополя крестоносцами», миниатюра XV в.

Организатором нового крестового похода был папа Иннокентий III, однако большую роль играли власти Венецианской республики. Именно они побудили



крестоносцев направить войска не в Палестину, а против Византийской империи. Венеция хотели разгромить своего конкурента и стать монополистом в торговле с Востоком. Главной целью крестоносцев стала столица Византии – Константинополь. В 1204 г. он был осаждён и захвачен после ожесточённого штурма.

## 2. Взятие Константинополя.



«Вступление крестоносцев в Константинополь». Эжен Делакруа, 1840 г.

Столица Византии привлекла крестоносцев возможностями обогатиться. Один из участников Четвёртого крестового похода вспоминал: «Там было такое изобилие богатств, так много золотой и серебряной утвари, так много драгоценных камней, что казалось поистине чудом, как свезено сюда такое великолепное богатство». Несмотря на отчаянное сопротивление защитников города, 9 апреля 1204 г. после ожесточённого штурма крестоносцы ворвались в город. Весь день на улицах шли кровопролитные бои. В городе начался пожар, погубивший две трети зданий. Множество жителей погибли. Публичные сооружения, дома горожан и даже церкви оказались разграблены. Папа Иннокентий III был вынужден признать захват Константинополя и благословить крестоносцев. Их лидер был избран императором, возглавив новое государство – Латинскую империю.

## 3. Латинская империя и другие государства крестоносцев.



Карта «Новые государства на месте Византийской империи»

Взяв Константинополь. Крестоносцы подчинили большую часть Византийской империи. На этих землях были образованы новые государства: Латинская империя, королевство Фессалоники. Несколько островов получили во владение венецианцы. Наследникам византийских императоров удалось сохранить за собой часть территорий на востоке. Где они образовали Никейскую и Трапезундскую империи. Эти государства вели между собой постоянные войны, причём враждовали даже наследники крестоносцев. В итоге, в 1261 г. императору Никеи удалось отвоевать Константинополь, тем самым восстановив Византийскую империю.

Карта 5.



Карта «Путешествие Евфросинии Полоцкой»

В представлении христиан Палестина и Иерусалим были связаны с историями жизни Иисуса Христа. Поэтому многие христиане стремились побывать в местах, упомянутых в евангелиях, увидеть Гроб Господний в Иерусалиме, помолиться на Святой Земле. Среди тех, кто совершил паломничество в Иерусалим была полоцкая княжна, монахиня Евфросиния. Прожив большую часть жизни в монастыре и занимаясь просветительством, в конце жизни она отправилась в долгий путь. Наиболее вероятная дата прибытия Евфросинии в Иерусалим – 1167 г. Ей удалось осуществить мечту и увидеть Гроб Господний. После трудного пути Евфросиния заболела и умерла в Святой Земле, где и была похоронена (в городе Вифлееме).

Задания

Выберите правильный вариант ответа.

1. Вдохновителем Первого крестового похода был:

- А) Готфрид Бульонский
- Б) папа Иннокентий III
- В) Саладин

Г) папа Урбан II

Правильный ответ: г

2. Причиной Второго крестового похода стало взятие мусульманами этого города:

А) Антиохия

Б) Иерусалим

В) Константинополь

Г) Эдесса

Правильный ответ: г

3. В результате Третьего крестового похода крестоносцы отвоевали этот город:

А) Антиохия

Б) Иерусалим

В) Эдесса

Г) поход был неудачным

Правильный ответ: г

4. Государство крестоносцев, образованное в результате Четвёртого крестового похода:

А) Иерусалимское королевство

Б) Латинская империя

В) Никейская империя

Г) Трапезундская империя

Правильный ответ: б

Соотнесите названия городов в государствах крестоносцев с датами их захвата мусульманами:

1	Акра	А	1144
2	Антиохия	Б	1187
3	Иерусалим	В	1268
4	Триполи	Г	1289
5	Эдесса	Д	1291

Правильные ответы: 1Д, 2В, 3Б, 4Г, 5А.

Как Вы думаете, почему часть предводителей Первого крестового похода предпочли создать собственные княжества в Сирии и Палестине, а не продолжать войну за Иерусалим?

Как Вы думаете, почему государства крестоносцев в Святой Земле оказались настолько недолговечными?

Как Вы думаете, почему папа Иннокентий III несмотря на грабежи христианских церквей в Константинополе признал захват города и благословил захватчиков?

#### 4) Завоевания монголов и образование Монгольской империи

Последовательность карт:

1. Монгольские завоевания XIII в. и создание Монгольской империи.
2. Нашествие монголов на Европу. 1236–1242 гг.
3. Русские земли и Золотая Орда во второй половине XIII в.
4. Распад Золотой Орды. Вторая половина XIV в.

- всплывающая карта –

Русско-ордынское пограничье в XIV в.

Карта 1.



Карта «Монгольские завоевания XIII в. и создание Монгольской империи»

Обозначены политические границы в XIII в., направления походов монголов (с указанием годов), места основных сражений, деление Монгольской империи на уделы.

Всплывающая информация на карте 1.

1. Чингисхан.



«Чингисхан». Китайский рисунок XIV в.

Основатель и первый великий хан Монгольской империи. Происходил из семьи монгольского нойона (аристократа), носил имя Тэмуджин. Начав с борьбы за наследство отца, к 1206 г. он подчинил своей власти большинство монгольских племён. На курултае (общем собрании) Тэмуджина провозгласили великим ханом, он принял имя Чингисхан. В последующем монгольские войска воевали против государств Северного Китая (Цзинь, Си Ся), Центральной Азии (Каракитайское ханство, Хорезм). К моменту смерти в 1227 г. Чингисхана его империя являлась самым обширным государством мира с населением около 100 миллионов человек.

## 2. Битва на Калке.



«Битва на Калке». Миниатюра из Лицевого Летописного свода, 1568 г.

Начавшись с преследования шаха Хорезма, поход двух полководцев Чингисхана превратился в длительный путь по различным областям Ирана, Кавказа и Восточной Европы. На протяжении 1220-24 гг. Джэбэ и Субэдэй во главе войска из 20 тысяч человек подчинили Грузию, закавказское побережье Каспийского моря, взяли крымский город Судак. Напуганный монголами, хан одного из половецких племён попросил помощи у русских князей. Соединённое половецко-русское войско сражалось против монголов на реке Калка (май 1223 г.). В числе других войск в сражении участвовала дружина из Туровского княжества. Монголы разбили своих противников, жестоко расправившись с пленёнными князьями.

### 3. Бату.



«Бату». Китайский рисунок XIV в.

После смерти Чингисхана территория Монгольской империи была разделена между его сыновьями и внуками. Великим ханом был провозглашён один из них; непосредственно подвластная ему территория располагалась в Монголии и Китае. Центральная Азия вошла в улус Чагатая, Иран – в улус Хулагу, Великая степь – в улус Джучи. Предполагалось, что улус Джучи включит древнерусские земли, которые ещё предстояло покорить. Предводителем Западного похода на Русь стал один из сыновей Джучи – Бату. Его главным полководцем был знаменитый сподвижник Чингисхана Субэдэй.

### Карта 2.



## Карта «Нашествие монголов на Европу. 1236–1242 гг.»

Обозначены границы русских княжеств в XIII в., направления походов монголов (с указанием годов), места основных сражений.

Летом 1236 г. монгольская армия подошла к Волге. Была разгромлена Волжская Булгария, покорены половцы. После этого армия Бату вторглась на древнерусские земли. В декабре 1237 г. была взята и сожжена Рязань. В начале следующего года монголы захватили Владимир, в битве на реке Сить разгромили войско владимирского князя Юрия Всеволодовича, осадили Козельск. В 1240 г. начался второй этап покорения монголами Руси. Были взяты Киев, Галич, Владимир-Волынский. При этом монгольские войска обошли земли Полоцкого и Туровского княжеств, практически не воевав на территории современной Беларуси. После похода в Западную Европу в 1241–42 гг. армия Бату вернулась к Волге. Завоёванные в ходе Западного похода земли составили основу монгольского государства в Восточной Европе – Золотой Орды.

## 4. Хронология монгольских завоеваний.





Битва при Легнице между польской армией и монгольским войском, 1241 г.  
Миниатюра XIV в.

Дата	Названия исторических областей, народов, государств, городов	Современное государство
1207	Ойраты, енисейские кыргызы, буряты	Монголия, Россия
1209	Уйгурия	Китай
1211-15	Империя Цзинь (государство чжурчженей)	Китай
1218	Каракиданьское ханство	Казахстан, Кыргызстан, Таджикистан, Туркменистан, Узбекистан
1219-31	Хорезм	Азербайджан, Афганистан, Кыргызстан, Таджикистан, Туркменистан, Узбекистан
1221	Грузия	Грузия
1225-27	Си Ся (Тангутское царство)	Китай
1236	Волжская Булгария	Россия
1237-42	Древнерусские княжества	Россия. Украина
1241	Краков (оставлен монголами)	Польша
1241-42	Венгрия (оставлена монголами)	Венгрия
1242	Загреб (оставлен монголами)	Хорватия
1258	Багдадский халифат	Ирак
1279	Империя Сун	Китай

## 5. Монгольская армия.



Монгольские лучники. Миниатюра начала XIV в.

Основу монгольской армии составляла легковооружённая конница. Воин был защищён кожаным нагрудником и железным шлемом. Основным оружием монголов являлся составной лук, с которым они умело обращались. Монголы воевали верхом на неприхотливых и выносливых лошадях, сменяя их во время дальних переходов. При осадах городов монголы широко применяли осадные орудия, в полевых сражениях прикрывали своё войско местными жителями. Общую численность монгольской армии в период расцвета оценивают в 600 тысяч человек.

Карта 3.

Русские земли и Золотая Орда во второй половине XIII в.



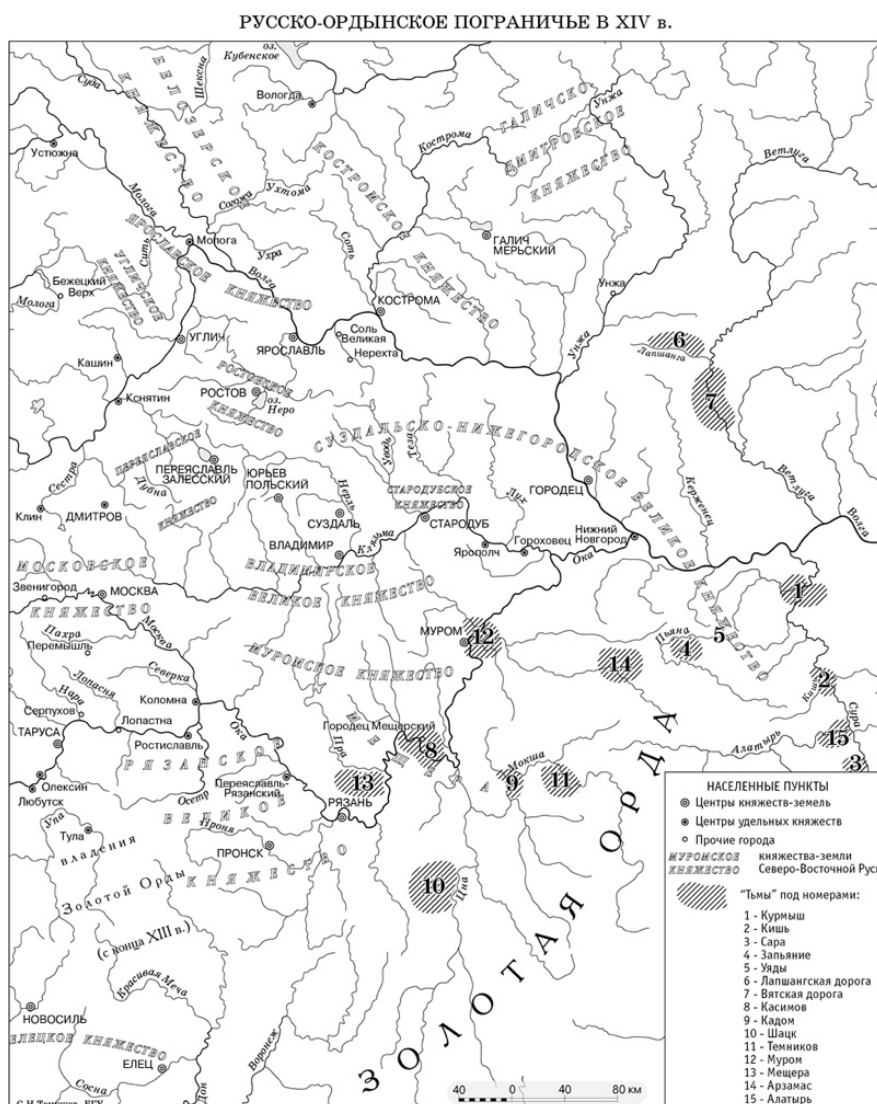
Карта «Русские земли и Золотая Орда по второй половине XIII в.»

Карта 4



Карта «Распад Золотой Орды»

Обозначены границы государств в XIV в., названия исторических областей, годы присоединения земель к Московскому и Литовскому великим княжествам.



Карта «Русско-ордынское пограничье в XIV в.»

Монгольское завоевание (Западный поход) изменило геополитическую ситуацию в Восточной Европе. Древнерусские княжества попали в зависимость от более сильных соседей – Золотой Орды, Польши, литовских вождей. Вместе с тем, сложились предпосылки для последующего объединения земель прежней Древней Руси двумя центрами – северо-восточным (Владимир, Москва) и западным (Новгородок, Вильно).

Задания



Карта «Монгольская империя и Русь»

Выберите правильный вариант ответа.

1. Первоначальным именем Чингисхана было:

- А) Боорчу
- Б) Субэдэй
- В) Тэмучжин
- Г) Хулагу

Правильный ответ: в

2. Имя одного из командующих монгольскими войсками в битве на Калке:

- А) Джэбэ
- Б) Китбука
- В) Мухали
- Г) Сартак

Правильный ответ: а

3. Имя командующего монгольским Западным походом:

- А) Бату
- Б) Гуок
- В) Субэдэй
- Г) Толуй

Правильный ответ: а

4. Название покорённого монголами государства, располагавшегося на территории современных Ирана и Центральной Азии:

- А) Багдадский халифат
- Б) Каракиданьское царство
- В) Си Ся
- Г) Хорезм

Правильный ответ: г

5. Древнерусское княжество, не затронутое монгольским Западным походом:

А) Владимирское

Б) Полоцкое

В) Рязанское

Г) Черниговское

Правильный ответ: б

Соотнесите названия покорённых монголами территорий с датами.

1	Багдад	А	1209
2	Волжская Булгария	Б	1227
3	Си Ся	В	1231
4	Уйгурия	Г	1236
5	Хорезм	Д	1258

Правильные ответы: 1Д, 2Г, 3Б, 4А, 5В.

Как Вы думаете, какие факторы повлияли на объединение монгольских племён Тэмуджином?

Как Вы думаете, почему монголы не стали завоёвывать земли Полоцкого и Туровского княжеств?

Как Вы думаете, как монгольские походы в Европе повлияли на последующее историческое развитие древнерусских княжеств?

## 5) Древняя Русь в период политической раздробленности

[Всплывающая информация об отдельных княжествах]

### 1. Новгородская земля

Время образования                      Один из центров формирования древнерусской государственности. Получает полную независимость от Киева в 1136 г.

Территория                                      Первоначально формируется вокруг оз. Ильмень и р. Волхов. Занимает обширные области севера Восточной Европы.

Известные правители                      Мстислав Мстиславич Удатный, Ярослав Всеволодович, Александр Невский.

Начало раздробленности, княжества-волости                      Уже в послемонгольский период стремятся к отделению Псков и Ладога.

### 2. Владимиро-Суздальская земля

Время образования                      Ростовская земля упоминается уже с конца X в., но об отдельном княжестве земле можно говорить со времени правления Юрия Долгорукого (1113–1157). С 1155 г. при Андрее Боголюбском столица

	перемещается во Владимир, с этого времени принято говорить о Владимиро-Суздальской земле (ранее – Ростово-Суздальская земля).
Территория	Обширная территория Северо-Восточной Руси, в основном в междуречье Волги и Оки и районе Белоозера; со временем наблюдается миграция населения в северо-восточном направлении в сторону Северной Двины.
Известные правители	Андрей Юрьевич Боголюбский (1155–1174), Всеволод Юрьевич Большое Гнездо (1176–1212), Юрий Всеволодович (1212–1216, 1218–1238).
Начало раздробленности, княжества-волости	После гибели Андрея Боголюбского (1174 г.) центрами княжеств-волостей становились Ростов, Суздаль, Дмитров, Юрьев-Польский, Переяславль-Залесский.
3. Полоцкая земля	
Время образования	Выделилась из состава Киевской земли в 988 г., когда киевский князь Владимир Святославич отдал Полоцк своему сыну Изяславу.
Территория	Занимала территорию Верхнего Поднепровья и Подвинья и центральные области современной Беларуси.
Известные правители	Брячислав Изяславич (1003–1044), Всеслав Брячиславич (1044–1101).
Начало раздробленности, княжества-волости	С 1101 г. В составе Полоцкой земли появились волости: Полоцкая, Менская, Друцкая, Витебская, Изяславская, Логойская.
4. Смоленская земля	
Время образования	1054 г., после смерти Ярослава Мудрого Смоленск достался его сыну Вячеславу; 1127 г. – начало собственной династии.
Территория	Верховья Днепра, Волги и Западной Двины.
Известные правители	Ростислав Мстиславич (1127–1159), Роман Ростиславич (1159–1180, с перерывами), Давыд Ростиславич (1180–1197), Мстислав Давыдович (1219–1230).
Начало раздробленности, княжества-волости	1160-е гг. В составе Смоленской земли в разное время образовывались княжества-волости: Мстиславское, Торопецкое, Вяземское, Можайское, Дорогобужское, Витебское и др.
5. Муромская земля	

Время образования	В 1127 г. из состава Черниговского княжества выделилось Муромо-Рязанская земля, затем в 1160-х гг. произошел ее распад на Муромскую и Рязанскую земли.
Территория	Среднее течение р. Оки и бассейн ее притоков.
Известные правители	Ярослав Святославич (1127–1129), Юрий Владимирович (1161–1174), Владимир Юрьевич (1174–1205), Святой Петр Муромский (1205–1228), Юрий Давыдович (1228–1237).
Начало раздробленности, княжества-волости	Во второй половине XII в. упоминается несколько муромских князей.

#### 6. Владимиро-Волынская земля

Время образования	Впервые выделяется в составе Киевской земли в 1078 г., окончательно выделяется с 1154 г.
Территория	Верховья Западного Буга и Припяти, включая Берестейщину.
Известные правители	Ярополк Изяславич (1078–1087), Ярослав Святополкович (1100–1118), Мстислав Изяславич (1157–1170), Роман Мстиславич (1170–1205, с перерывами).
Начало раздробленности, княжества-волости	Конец 1160-х гг., когда разделено между сыновьями Мстислава Изяславича. В составе: Владимирское, Луцкое, Перемышльское, Бужское, Каменецкое и др. княжества, Берестейская и Дорогичинская волости.

#### 7. Туровская земля

Время образования	Добилась независимости от киевских князей в 1157 г.
Территория	Центральная часть припятского Полесья и районы вокруг притоков Припяти на юге современной Беларуси и севере Украины.
Известные правители	Юрий Ярославич
Начало раздробленности, княжества-волости	Возможно, с 1160-х гг. Формируются волости: Туровская, Пинская, Дубровицкая, Чарторийская (в начале XIII в.).

#### 8. Черниговская земля

Время образования	Впервые выделяется из состава Древнерусского государства в 1024 г. (после победы Мстислава Тмутараканского над Ярославом Владимировичем); затем выделено после смерти Ярослава Мудрого в 1054 г.
Территория	На левом берегу Днепра, в бассейнах рек Десна и Сейм (Подесенье и Посеймье); были присоединены



	и другие территории, в том числе часть современной Беларуси (со Слуцком и Клецком).
Известные правители	Святослав Ярославич (1054–1073), Олег Святославич (1094–1096), Игорь Святославич (1198–1202).
Начало раздробленности, княжества-волости	С конца XI в. (выделяется Новгород-Северское княжество). В составе Черниговской земли находились следующие княжества: Тмутараканское, Стародубское, Новгород-Северское, Сновское, Трубчевское, Гомельское, Курское, Рыльское, Путивльское, Брянское и др.

#### 9. Рязанская земля

Время образования	Выделилось из состава Муромо-Рязанского княжества в 1160-х гг. при князе Глебе Ростиславиче.
Территория	Верховья рек Ока, Дон, Воронеж; бассейны малых рек Москвы, Пары, Мокши, Вёрды и др.; пограничная с Половецкой степью (Диким полем) территория.
Известные правители	Глеб Ростиславич (1161–1178), Роман Глебович (1180–1207),
Начало раздробленности, княжества-волости	К концу XII в. в Рязанской земле выделились Пронская и Коломенская волости.

#### 10. Киевская земля

Время образования	Время образования совпадает с созданием Древнерусского государства; отдельное княжество-земля с началом раздробленности Древней Руси – 1132 г.
Территория	В период раздробленности – правобережье Днепра, включая земли Поросья.
Известные правители	Владимир Мономах (1113–1125), Рюрик Ростиславич (7 раз до 1210 г.), Всеволод Святославич Чермный (три раза в начале XIII в.).
Начало раздробленности, княжества-волости	1130-е гг. Как центры княжеств-волостей могут рассматриваться: Белгород, Василев, Овруч (Вручий), Искоростень, Ярополч, Канев и др.

#### 11. Переяславская земля

Время образования	Образовано по завещанию Ярослава Мудрого в 1054 г. Это одно из старейших древнерусских княжеств.
Территория	Охватывала земли по Трубежу, Супою и Суле до Ворсклы; на юге граница менялась в зависимости от результатов войн с половцами.

Известные правители Всеволод Ярославич (1054–1073), Владимир Мономах (1094–1113), Глеб Юрьевич (1154–1169), Владимир Глебович (1169–1187).

Начало раздробленности, Признаки раздробленности не наблюдаются.  
княжества-волости



Карта «Древнерусские княжества земли во второй половине XII – начале XIII в.»

Дополнительные карты к 1-й общей карте  
 К северо-восточной части: Северо-Восточная Русь в начале XIII в.



Карта «Северо-Восточная Русь в начале XIII в.»

К западной части: Галицко-Волынская держава в первой трети XIII в.



Карта «Галицко-Волынская держава»

## События древнерусской истории на исторических картинах

Подписи под картинами, которые прикреплены к соответствующим цифрам на карте.



1. 1100 г. — Съезд князей в Витичеве (картина С. Иванова «Русские князья заключают мир в Уветичах»).
2. 1113 г. — Князь Владимир Мономах пребывает в Киев по приглашению бояр (миниатюра Лицевого летописного свода XVI в.).
3. 1147 г. — Основание города Москвы (картина А.М. Васнецова).
4. 1174 г. — Убийство Андрея Боголюбского (картина С.А. Кирillow).
5. 1185 г. — Результат битвы кочевников-половцев с дружиной новгород-северского князя Игоря Святославича (картина В.М. Васнецова «После побоища Игоря Святославича с половцами»).
6. 1223 г. — Разгром монголами древнерусских князей у реки Калки (картина П. Рыженко «Битва на Калке»).
7. 1237 г. — Штурм монголами Рязани (дiorama «Оборона Старой Рязани в 1237 г.»).
8. 1240 г. — Осада монголами Киева (картина А. Толочко «Осада Киева монголами в 1240 г.»).

### Рабочие картосхемы

1. 1100 г. — Съезд князей в Витичеве (картина С. Иванова «Русские князья заключают мир в Уветичах»).



2. 1113 г. – Князь Владимир Мономах прибывает в Киев по приглашению бояр (миниатюра Лицевого летописного свода XVI в.).



3. 1147 г. – Основание города Москвы (картина А.М. Васнецова).



4. 1174 г. – Убийство Андрея Боголюбского (картина С.А. Кириллова).



5. 1185 г. – Результат битвы кочевников-половцев с дружиной новгород-северского князя Игоря Святославича (картина В.М. Васнецова «После побоища Игоря Святославича с половцами»).



6. 1223 г. – Разгром монголами древнерусских князей у реки Калки (картина П. Рыженко «Битва на Калке»).



7. 1237 г. – Штурм монголами Рязани (диорама «Оборона Старой Рязани в 1237 г.»).





8. 1240 г. – Осада монголами Киева (картина А. Толочко «Осада Киева монголами в 1240 г.»).



## 6) Рост Московского княжества

### 1. Московское княжество в 1270–1301 гг.

Правление Даниила Александровича – родоначальника династии московских князей.



Картограмма «Московское княжество в 1270–1301 гг.»

### 2. Московское княжество в начале XIV в.

Первые приобретения Москвы – Коломна, Переяславль-Залесский и Можайск. Завершение правления Даниила Александровича.



Картограмма «Московское княжество в начале XIV в.»

### 3. Московское княжество до 1364 г.

Приобретения Ивана Калиты (1325–1340) – купли, начало правления во Владимире Дмитрия Ивановича.



Картосхема «Московское княжество до 1364 г.»

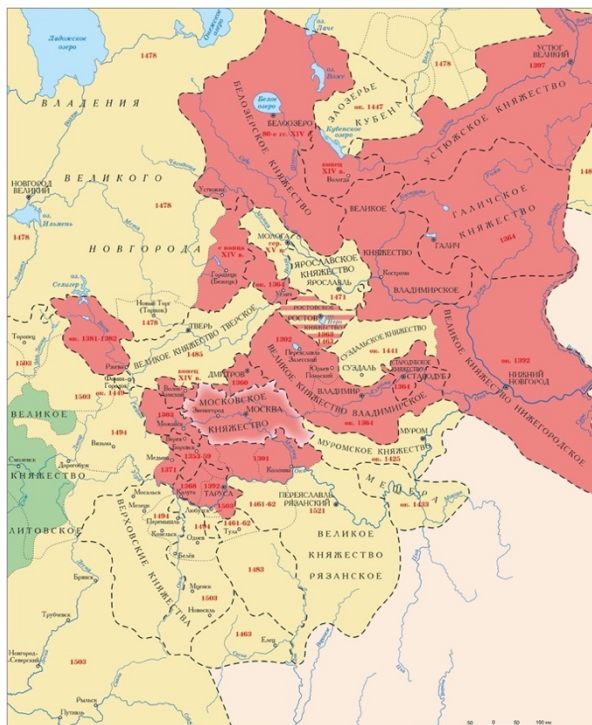
### 4. Московское великое княжество до 1389 г.

Расширение территории Московского великого княжества в период правления Дмитрия Ивановича Донского (1359–1389).



Картосхема «Московское великое княжество до 1389 г.»

5. Московское великое княжество к концу XIV в.  
Время правления Василия I Дмитриевича (1389 – 1425).



Картосхема «Московское великое княжество к концу XIV в.»

6. Московское великое княжество к 1460-м гг.  
Время правления Василия I (1389–1425), период династической войны второй четверти XV в., правление Василия II Темного (1425–1462)



Картосхема «Московское великое княжество к 1460-м гг.»

## 7. Московское великое княжество к 1480-м гг.

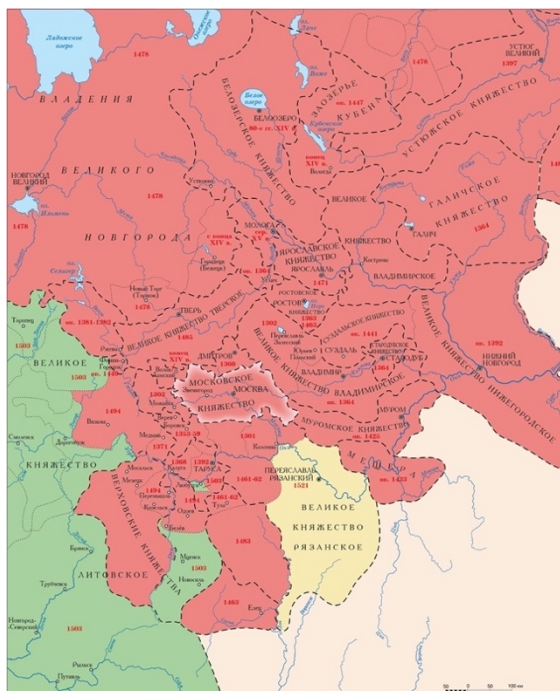
Подчинение Москве наиболее сильных и крупных государств Восточной Европы – Новгородской земли и Тверского княжества в период правления Ивана III (1462–1505).



Картосхема «Московское великое княжество к 1480-м гг.»

## 8. Московское великое княжество к концу XV в.

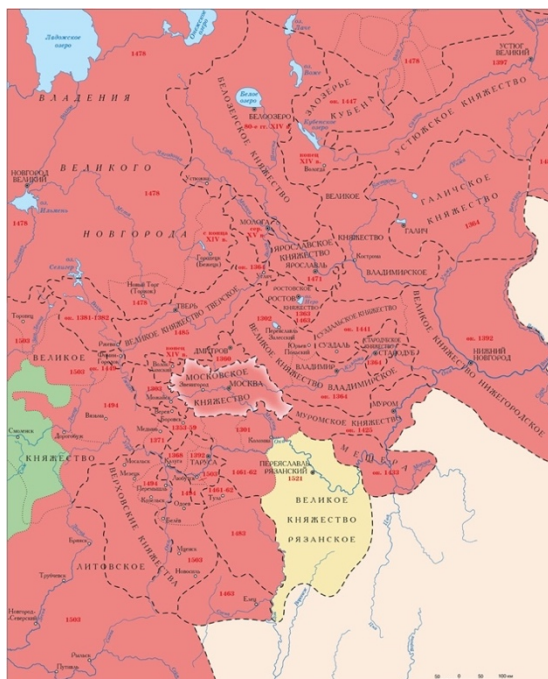
Расширение территории, подвластной Москве, после первой пограничной войны с Великим Княжеством Литовским (1486–1494 гг.).



Картосхема «Московское великое княжество к концу XV в.»

## 9. Московское великое княжество к 1505 г.

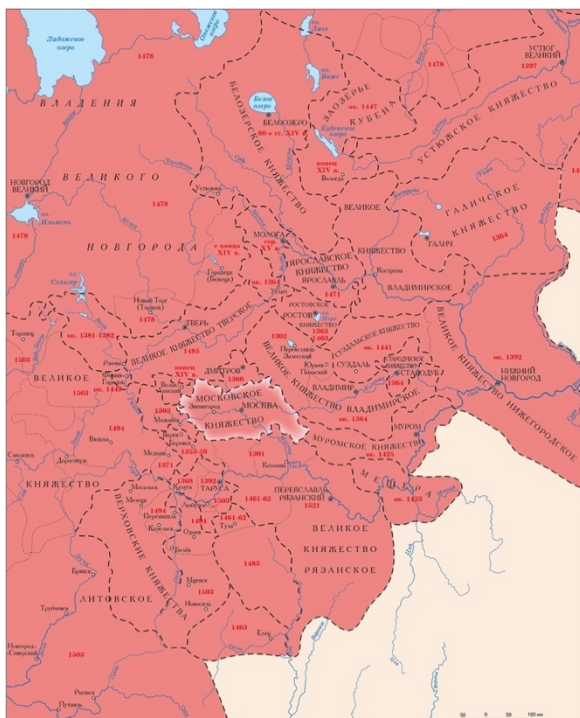
Территория Российского государства к концу правления Ивана III (1462–1505).



Картосхема «Московское великое княжество к 1505 г.»

## 10. Российское государство к 1520-м гг.

Завершение формирования территории Российского государства в период правления Василия III (1505–1533).

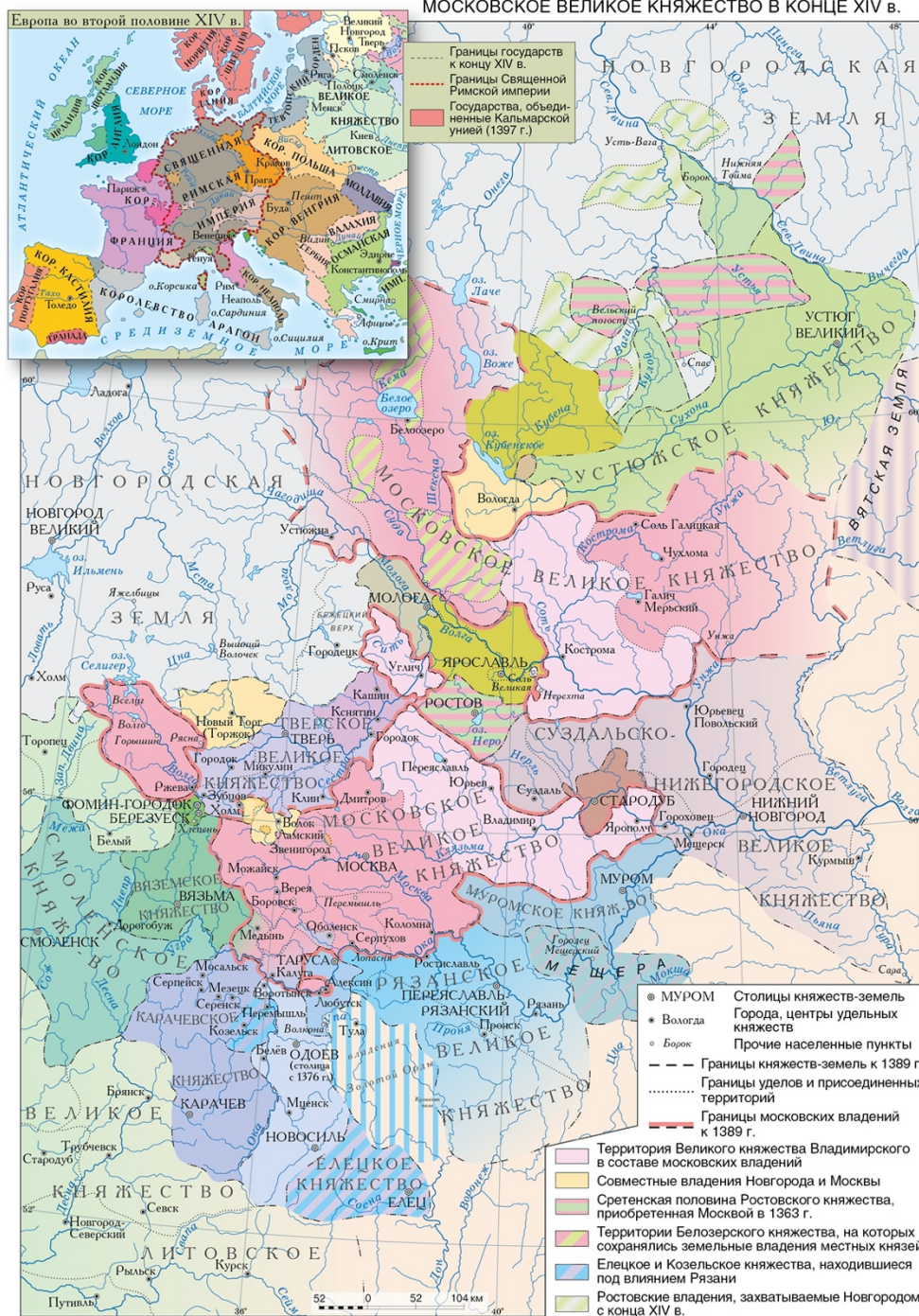


Картосхема «Российское государство к 1520-м гг.»

[11-я карта с заданиями]

Московское великое княжество в конце XIV в.

МОСКОВСКОЕ ВЕЛИКОЕ КНЯЖЕСТВО В КОНЦЕ XIV в.



Карта «Московское великое княжество в конце XIV в.»

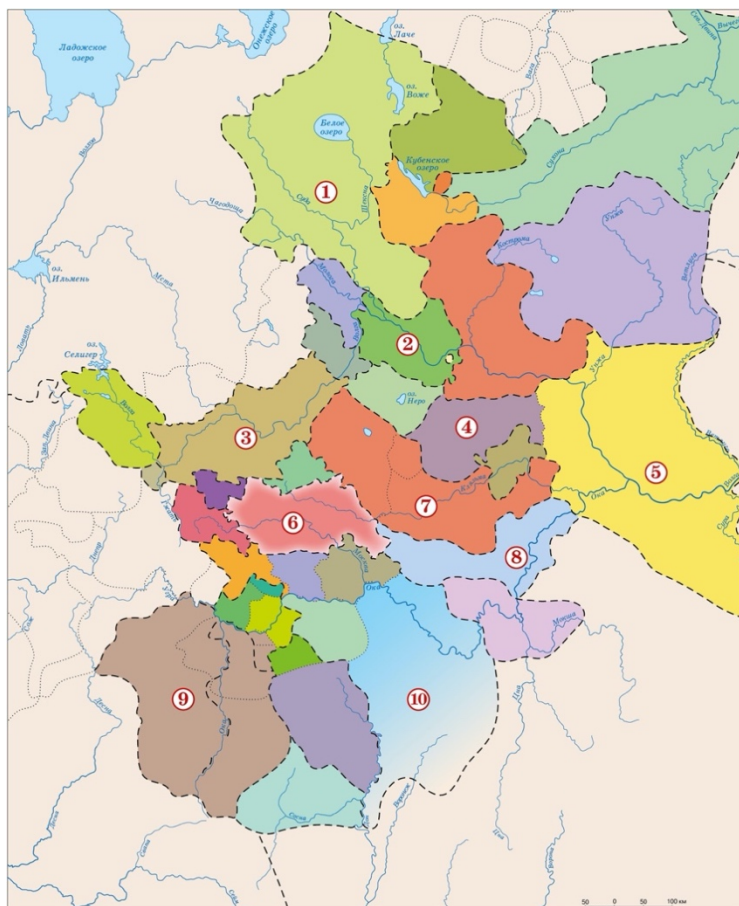
Ответьте на вопросы:

1. Какими путями и способами присоединяли московские князья к своему государству новые территории?
2. В чем заключались так называемые «купли» Ивана Калиты?
3. Кому принадлежали земли на юго-восток от территорий русских княжеств?
4. Кто поддерживал объединительную политику московских князей?

5. Когда к Московскому великому княжеству была присоединена наибольшая территория?
6. В чем заключалась трансформация Московского великого княжества в Российское государство?

И еще одно задание

Княжества Северо-Восточной Руси в XIV в.



Картосхема «Княжества Северо-Восточной Руси в XIV в.»

Определите, какие княжества Северо-Восточной Руси обозначены соответствующими числами на карте:

- 1 – Белозерское княжество
- 2 – Ярославское княжество
- 3 – Тверское великое княжество
- 4 – Суздальское княжество
- 5 – Нижегородское великое княжество
- 6 – Московское княжество
- 7 – Владимирское великое княжество
- 8 – Муромское княжество
- 9 – Верховские княжества
- 10 – Рязанское великое княжество

[Приведен ответ, второй столбец нужно перемешать]



## 8) Столетняя война

Последовательность карт:

1. Франция накануне Столетней войны.
2. Первый этап Столетней войны, 1337–1360 гг.  
Всплывающая карта «Франция в 1360 г. Мир в Бретиньи».
3. Второй этап Столетней войны, 1360–1453 гг.
4. Франция к 1429 г.

Карта 1

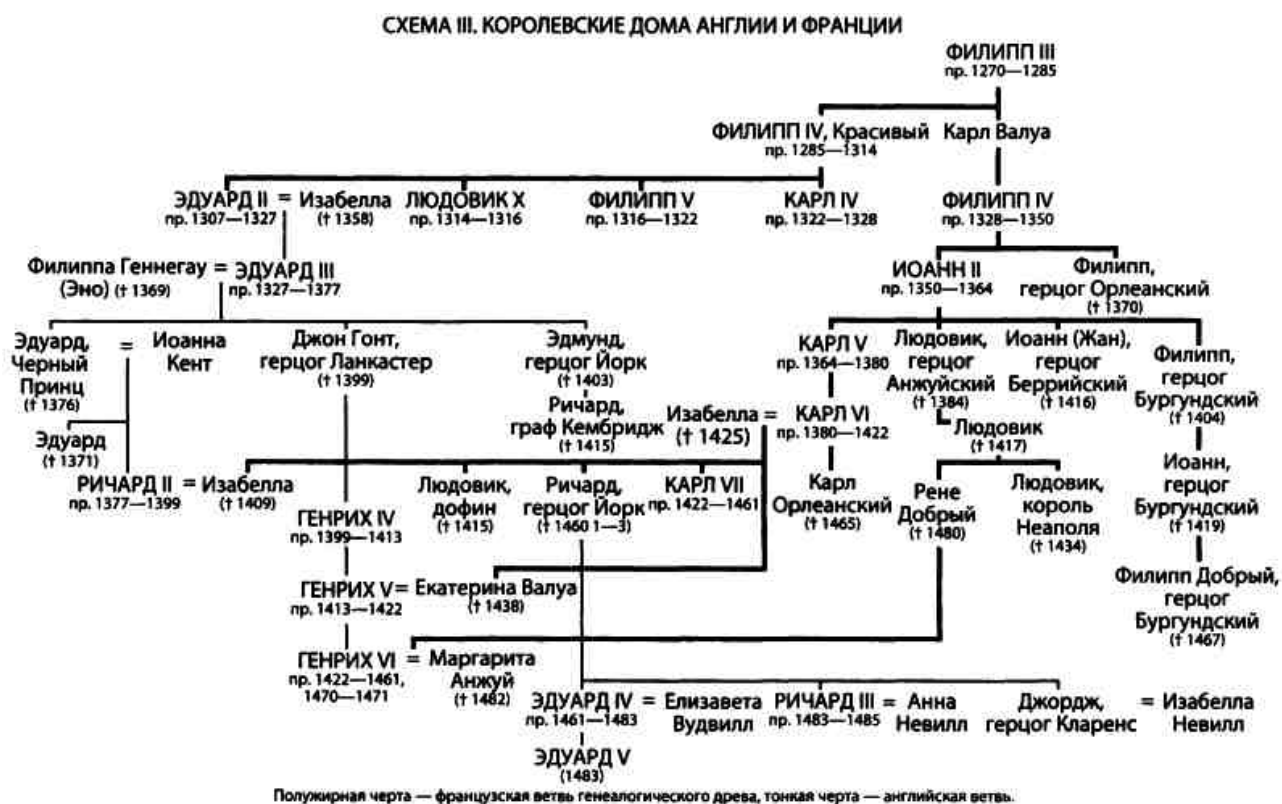


ФРАНЦИЯ НАКАНУНЕ СТОЛЕТНЕЙ ВОЙНЫ. 1328 г.

Карта «Франция накануне Столетней войны»

Всплывающая информация на карте 1.

Генеалогическая схема английской и французской правящих династий.



Генеалогическая схема «Королевские дома Англии и Франции»

В 1328 г. пресеклась основная мужская линия правящей во Франции династии Капетингов – потомков Гуго Капета. В силу принятого ранее салического закона наследование трона по женской линии не допускалось. Поэтому новым королём был избран представитель боковой мужской ветви Капетингов – Филипп Валуа (Филипп IV). Притязания на трон потомка Капетингов по женской линии – английского короля Эдуарда III – были отвергнуты. Спустя несколько лет Эдуард III накопил силы, открыто провозгласил себя королём Франции и вторгся на её территорию. Так династические притязания английского короля стали поводом для начала Столетней войны.

Карта 2



СТОЛЕТНЯЯ ВОЙНА: ОСНОВНЫЕ КАМПАНИИ И СРАЖЕНИЯ  
1337-1360 гг.

## Карта «Столетняя война: основные кампании и сражения»

### 1. Битва при Креси, 26 августа 1346 г.



«Битва при Креси». Миниатюра из «Хроник» Жана Фруассара, 1470-е гг.

Битва около посёлка Креси в Северной Франции была одним из важнейших сражений Столетней войны. Войско английского короля Эдуарда III прошло с боями по всей северо-западной Франции, пока не было застигнуто армией французского короля Филиппа IV. Основу французской армии составляла тяжело вооружённая рыцарская конница, английской армии – лучники. Чтобы было легче защищаться от атаки французской кавалерии, Эдуард III велел спешиться своим рыцарям. Таким образом, неорганизованная масса французов натолкнулась на строй англичан, осыпавших противника стрелами. По причине выгодного расположения английских сил все 17 атак французов были отбиты; Филипп IV был вынужден отступить.

## 2. «Чёрный принц».



Рисунок 116 – Памятник «Чёрному принцу» на городской площади Лидса.  
Скульптор Томас Брок, 1903 г.

Старший сын английского короля Эдуарда III, тоже Эдуард, получил прозвище по цвету своих доспехов – «Чёрный принц» (считается, что это прозвище было дано ему уже после смерти). Он принял участие в походе отца против Франции, во время битвы при Креси командовал правым флангом английской армии. В 1356 г. «Чёрный принц» предпринял самостоятельный поход по французской территории, взяв много замков и разорив множество деревень. Предполагалось, что его войска соединятся с двумя другими английскими армиями. Чтобы помешать этому, французы подстерегли «Чёрного принца» у города Пуатье, где вынудили его принять бой.

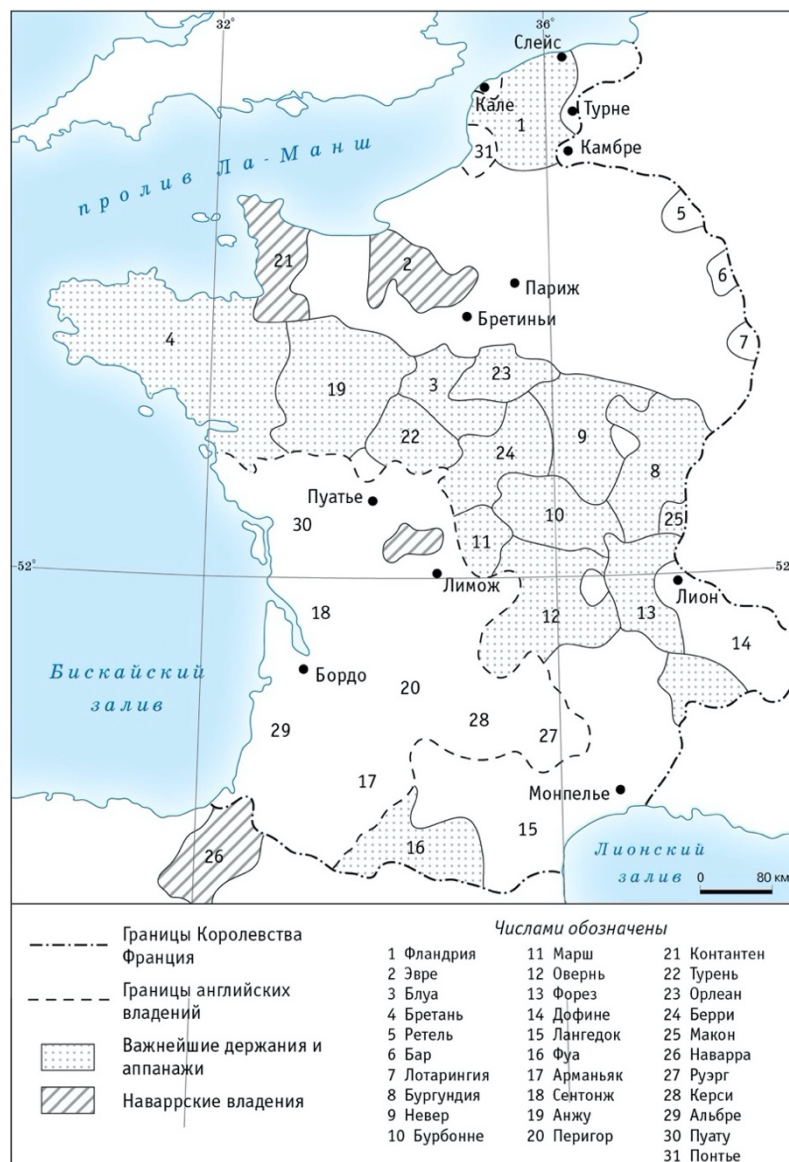
### 3. Битва при Пуатье, 19 сентября 1356 г.



«Битва при Пуатье». Миниатюра из «Хроник» Жана Фруассара, 1470-е гг.

Битва при Пуатье была предпринята «Чёрным принцем» вынужденно. Его относительно небольшому войску (около 7 тысяч человек) преградила путь армия французского короля Иоанна II Валуа. Численность французов достигала 50 тысяч воинов. Учитывая опыт прежних сражений с англичанами, Иоанн II велел большинству своих рыцарей спешиться и пойти на противника в пешей атаке. Однако, основная масса французов столкнулась с собственной конницей, отброшенной от позиций англичан. После ввода в бой английских резервов французы оказались окружены. Король Иоанн II со своим сыном был взят в плен вместе с цветом французского рыцарства.

### 4. Всплывающая карта «Мир в Бретиньи».



ФРАНЦИЯ в 1360 г. МИР В БРЕТИНЬИ

### Карта «Франция в 1360 г. Мир в Бретиньи»

В 1360 г. в городке Бретиньи был подписан мирный договор, согласно которому Эдуард III отказывался от притязаний на трон Франции в обмен на существенные территориальные приобретения. Выкуп за пленённого короля Иоанна II сокращался, хотя всё равно составил существенную сумму (3 миллиона золотых экю).

После смерти Иоанна II (1364 г.) новый французский король Карл V и Эдуард III стали нарушать условия мира. Вскоре Карл V начал серию кампаний, направленных на отвоевание уступленных Англии земель. Большая их часть была освобождена. В 1396 г. Англия и Франция заключили перемирие, которое на несколько десятилетий прервало Столетнюю войну.



СТОЛЕТНЯЯ ВОЙНА: ОСНОВНЫЕ КАМПАНИИ И СРАЖЕНИЯ  
1360–1453 гг.

Карта «Столетняя войны: основные кампании и сражения»

### 1. Битва при Азенкуре, 25 октября 1415 г.



«Битва при Азенкуре». Миниатюра из рукописи хроники Анггерана де Монстреле, 1495 г.

Пришедший к власти в 1413 г. английский король Генрих V почти сразу же возобновил войну с французами. В августе 1415 г. его армия высадилась в Нормандии и двинулась на Париж. Возле городка Азенкур на севере Франции английская армия столкнулась с французами. Имея численное превосходство, французские рыцари оказались поражены английскими лучниками. Спешившись, французы возобновили атаку по превратившей в грязь из-за дождя местности. В рукопашной схватке они понесли тяжёлые потери и были вынуждены отступить. Множество знатных французов оказались в плену, а Генрих V сумел захватить обширные территории.

## 2. Осада Орлеана.



«Осада Орлеана». Миниатюра из рукописи конца XV в.

Согласно договору в Труа 1420 г., Генрих V и его наследники были объявлены наследниками французского трона. Не все французы согласились с этим, поэтому военные действия между Англией и Францией возобновились. Ключевым эпизодом возобновившейся войны стала осада города Орлеана английскими войсками в 1428 г. Орлеан имел важное значение для сторонников французского наследника престола – Карла Валуа. В случае его взятия англичанам открывался путь на юг Французского королевства.

## 3. Жанна д'Арк.





Памятник возле места казни Жанны д'Арк. Скульптор Максим Реаль дель Сарт, 1928 г.

Согласно записям в хрониках, в феврале 1429 г. под стенами Орлеана появилась Жанна д'Арк. Это была простая по происхождению девушка, которая обещала сделать Карла Валуа королём Франции. Карл и его приближённые поверили Жанне, тем более что пророчество говорило о том, что Францию спасёт юная девушка. Во главе армии Жанна д'Арк сумела освободить Орлеан от осады. Вскоре после этого Карл короновался в качестве короля Карла VII. На протяжении двух лет Жанна одержала немало побед над англичанами, пока не была им выдана и казнена. Тем не менее, её подвиги пробудили в народе желание окончательно изгнать врагов с французской земли.

#### 4. Завершение войны.



Битва при Кастильоне 17 июля 1453 г. – «последнее сражение Столетней войны». Миниатюра из рукописи конца XV в.

Сразу после гибель Жанны д'Арк французские войска начали новые наступления на врага. Решающим для победы Франции стал переход на сторону Карла VII герцога Бургундского, ранее поддерживавшего англичан. Несмотря на это война длилась ещё два десятилетия. После одержанных при Форминьи (1450 г.) и Кастильоне (1453 г.) побед французы наконец изгнали англичан почти со всей территории своей страны. Столетняя война завершилась. По её итогам Англия утратила все свои владения на континенте, исключая город Кале.

Карта 4.



ФРАНЦИЯ К 1429 г.

Карта «Франция к 1429 г.»

### Задания

Выберите правильный вариант ответа.

1. Этот военачальник был победителем в сражении при Пуатье.

- А) Иоанн II
- Б) Филипп IV
- В) Чёрный принц
- Г) Эдуард III

Правильный ответ: в

2. Французская династия Валуа являлась боковой ветвью этой династии:

- А) Капетинги
- Б) Каролинги
- В) Меровинги
- Г) Плантагенеты

Правильный ответ: а

3. Год подписания мира в Бретиньи:

- А) 1337
- Б) 1356
- В) 1360
- Г) 1396

Правильный ответ: в

4. Английский король, победитель в сражении при Азенкуре:

- А) Генрих IV
- Б) Генрих V
- В) Ричард II
- Г) Эдуард III

Правильный ответ: б

5. Битву при этом городе называют «последним сражением Столетней войны»:

- А) Бордо
- Б) Кастильон
- В) Пуатье
- Г) Слейс

Правильный ответ: б

Соотнесите места сражений Столетней войны с датами.

1	Азенкур	А	1346
2	Кастильон	Б	1415
3	Креси	В	1428-29
4	Орлеан	Г	1450
5	Форминьи	Д	1453

Правильные ответы: 1Б, 2Д, 3А, 4В, 5Г.

Как Вы думаете, какие факторы послужили причиной (не поводом!) начала войны между Англией и Францией?

Как Вы думаете, какие военные инновации появились и были внедрены за время Столетней войны?

Как Вы думаете, какую роль в победе Франции в Столетней войне сыграло формирование национального самосознания французов?

## 9) Европа после 1648 г.

Последовательность карт:

1. Распространение католицизма и протестантизма в Европе к началу Тридцатилетней войны.
2. Противостоящие коалиции в ходе Тридцатилетней войны.
3. Европа после Вестфальского мира 1648 г.
4. Восточная Европа в 1648 г.
5. Убыль населения на территории Священной Римской империи по итогам Тридцатилетней войны.

Карта 1.



Карта «Распространение католицизма и протестантизма в Европе к началу Тридцатилетней войны»

Всплывающая информация на карте 1.

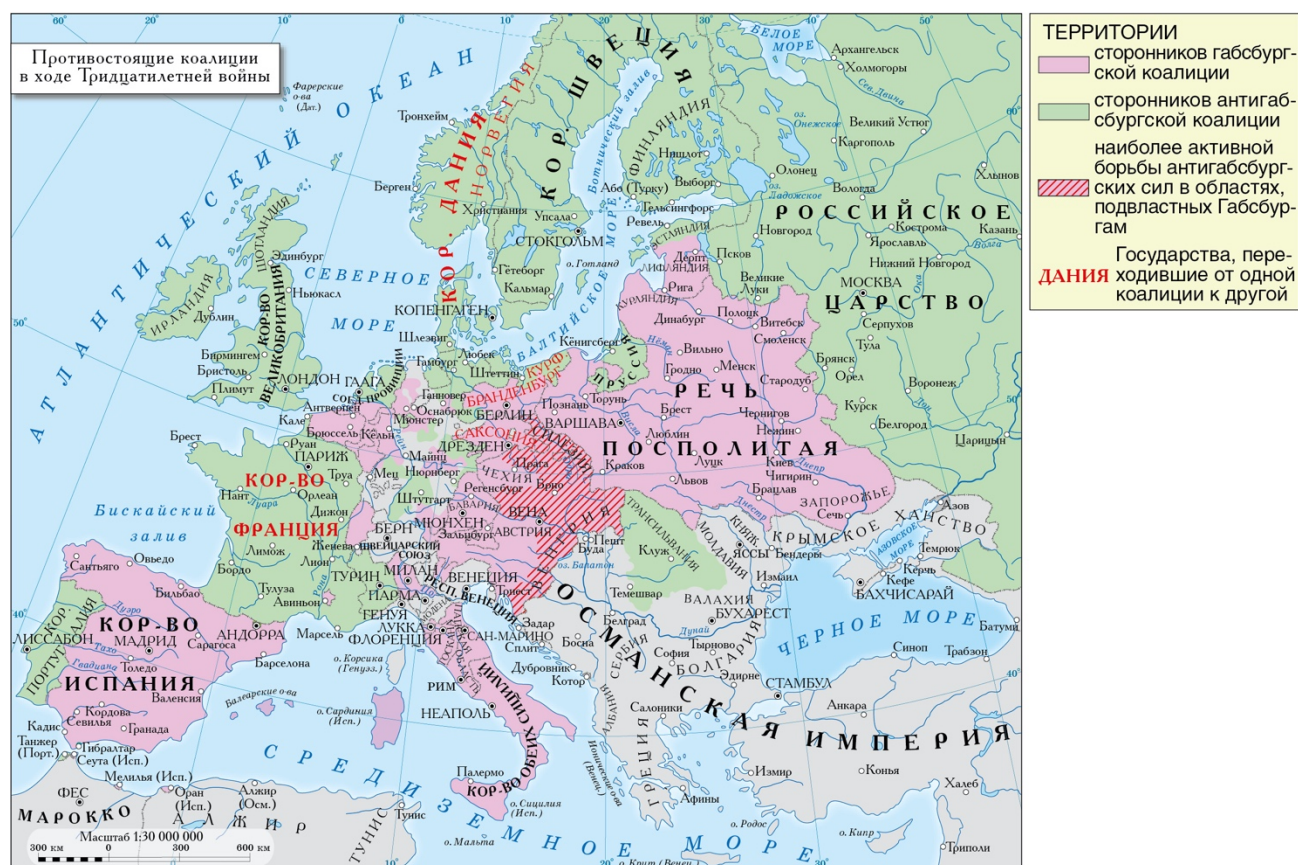
1. Всплывающая карта «Конфессии в Западной Европе в начале XVII в.».

Обозначены границы государств и княжеств, основные города (столицы), закрашены территории доминирования католической, лютеранской и кальвинистской конфессий.

Аугсбургский религиозный мир 1555 г. на время прекратил открытое противостояние лютеран и католиков на территории Священной Римской империи.

По условиям мира князья могли выбирать конфессию для своих княжеств по принципу *cuius region, ejus religio* («чья власть, того и вера»). Однако, кальвинистская конфессия не получила таких прав. Его приверженцы хотели добиться для себя такой же свободы вероисповедания, какой обладали лютеране.


Карта 2.



Карта «Противостоящие коалиции в ходе Тридцатилетней войны»

Войне положило начало восстание жителей Чешского королевства против власти императора Священной Римской империи. Восстание началось с требований прекратить нарушения религиозных прав протестантов. В ходе восстания императорские наместники Славата и Мартиниц были выброшены из окна пражской ратуши. После этого императорские войска вторглись на территорию Чехии, чтобы вернуть над ней власть. Кульминацией противостояния восставших и императорских сил стала битва на Белой горе 8 ноября 1620 г. После разгрома чешских протестантов Прага капитулировала и власть императора Фердинанда II Габсбурга была восстановлена.

Евангелическая уния и Католическая лига.



«Битва при Брейтенфельде». Гравюра XVII в.

Основные противники в Тридцатилетней войне объединились в два военно-политических блока: Евангелическую унию и Католическую лигу. Уния включала протестантские княжества Германии (Саксонию, Пфальц и другие). Её поддерживали протестантские королевства Скандинавии – Дания и Швеция. Также поддержку унии оказывала Франция, желавшая ослабить влияние династии Габсбургов в Западной Европе. Католическая лига включала Баварию и более мелкие германские княжества. На её стороне выступал император, поддержку оказывал испанский король.

Балтийский вопрос.



«Густав Адольф». Портрет приписывается Якобу Хёфнагелю, 1624 г.

Помимо раскола по конфессиональному признаку одним из узлов противоречий в Европе начала XVII в. был т. н. «балтийский вопрос». Скандинавские протестантские государства Дания и Швеция переживали в это время экономический и политический подъём. Сформировав сильные армии, эти государства стремились к экспансии в Балтийском регионе. Их правители

стремились монополизировать торговлю и мореплавание по Балтийскому морю. Шведский король Густав II Адольф стремился даже захватить прибрежные территории, сделав Балтику «внутренним морем» Шведского королевства. Противниками Дании и Швеции в их экспансии выступала Речь Посполитая, а также другие государства Центральной Европы. Начиная с 1625 г. Дания и Швеция принимали непосредственное участие в Тридцатилетней войне на стороне протестантов. При этом они стремились укрепить собственное могущество в Германии.

Валленштейн.



«Альбрехт фон Валленштейн». Неизвестный художник XVII в.

Самым выдающимся полководцем Католической лиги был Альбрехт Валленштейн. Собрав за свой счёт армию в количестве 50 тысяч солдат, он предложил императору назначить его главнокомандующим. Валленштейн разбил армии Евангелической лиги и датского короля. Особенностью армии Валленштейна было самообеспечение: солдаты жили за счёт грабежей мирных жителей. Таким образом командующий возмещал понесённые им затраты на снаряжение армии. Валленштейн сумел отвести от императора и Католической лиги угрозу победы протестантов. Однако, Фердинанда II встревожило растущее влияние и амбиции полководца. В итоге, Валленштейн был убит собственными офицерами за подозрение в желании изменить императору и перейти на сторону протестантов.

Карта 3.



Карта «Европа после Вестфальского мира 1648 г.»

## 7. Вестфальский мир.



Рисунок 131 – «Подписание Мюнстерского мира 15 мая 1648 года». Герард Терборх. 1648 г.

Последней крупной операцией Тридцатилетней войны стала осада Праги шведскими войсками летом-осенью 1648 г. В это время в городах Мюнстере и



Оснабрюке уже шли переговоры о мире между воюющими сторонами. Поскольку города находились в исторической области Вестфалии, подписанные в них соглашения называют Вестфальским миром. По условиям Вестфальского мира 1648 г. Швеция приобретала значительные территории на германском побережье Балтийского моря, Франция получила область Эльзас и крепость Брейзах, Габсбурги сохраняли за собой Чехию. Нидерланды и Швейцария официально признавались независимыми государствами и вышли из состава Священной Римской империи. Кальвинизм признавался религией, равноправной с католицизмом и лютеранством, а на всей территории империи провозглашалась веротерпимость.

### Всплывающая карта «Восточная Европа в 1648 г.».



Карта «Восточная Европа к 1648 г.»

В начале XVII в. политика Речи Посполитой стала более экспансионистской. Король Сигизмунд III Ваза активно вмешался в события Смуты в Российском государстве, вёл войны со Швецией и Османской империей. Польские магнаты предпринимали попытки подчинить своему влиянию Молдавию, отдельные магнаты приняли участие в кампаниях Тридцатилетней войны. В 1648 г. на

территории Украины вспыхнуло восстание под предводительством Богдана Хмельницкого, направленное против притеснения казаков и православной религии. Одержав ряд побед, в 1654 г. Хмельницкий принял подданство России. Помогая казакам, российские войска вступили на территорию Речи Посполитой. Почти одновременно со стороны Балтийского моря вторглись шведские войска, оккупировавшие почти все собственно польские земли. Только после Виленского перемирия 1656 г. с Россией польский король Ян II Казимир сумел изгнать шведов с территории Речи Посполитой.

Карта 5.



Карта «Убыль населения после Тридцатилетней войны»

Ужасы войны.



Одна из гравюр серии «Ужасы войны» авторства Жака Калло (1633 г.).

Тридцатилетняя война велась главным образом на территории Германии и Чехи, хотя затрагивала и другие регионы Европы (Нидерланды, Северная Италия). Считается, что это был один из самых тяжёлых по своим последствиям конфликтов в европейской истории. По разным оценкам общие потери населения составили от 5 до 8 миллионов человек. Некоторые районы Германии потеряли более 50%

жителей, от войны, голода и эпидемий погибло около трети горожан. Многие местности на северо-востоке Германии обезлюдели.

Задания.

Выберите правильный вариант ответа.

1. События в этом городе положили начало Тридцатилетней войне.

- А) Вена
- Б) Мюнстер
- В) Оснабрюк
- Г) Прага

Правильный ответ: г

2. Эта конфессия была исключена из Аугсбургского религиозного мира 1555 г.

- А) Кальвинисты
- Б) Католики
- В) Лютеране
- Г) Все названные были включены в условия мира

Правильный ответ: а

3. Императорский полководец, разгромивший Евангелическую лигу.

- А) Валленштейн
- Б) Густав Адольф
- В) Мартиниц
- Г) Славата

Правильный ответ: а

4. Государства, получившее по условиям Вестфальского мира независимость.

- А) Дания
- Б) Нидерланды
- В) Чехия
- Г) Швейцария

Правильный ответ: б, г

5. Польский король, подписавший Виленское перемирие 1656 г.

- А) Густав Адольф
- Б) Людовик
- В) Сигизмунд Август
- Г) Ян Казимир

Правильный ответ: г

Соотнесите места сражений Тридцатилетней войны с датами.

1	Белая гора	А	1620
2	Брейтенфельд	Б	1622
3	Лютцен	В	1631
4	Рокруа	Г	1632
5	Флерюс	Д	1643

Правильные ответы: 1А, 2В, 3Г, 4Д, 5Б.

Как Вы думаете, какие факторы послужили причиной (не поводом!) начала Тридцатилетней войны?

Как Вы думаете, следует ли считать Речь Посполитую полноценным участником Тридцатилетней войны? Ответ обоснуйте.

Как Вы думаете, упразднил ли Вестфальский мир причины, вызвавшие Тридцатилетнюю войну?

## 10) Войны в Европе XVIII в.

Последовательность карт:

Карта 1. Великая Северная война 1700–1721 гг.

Карта 2. Война за испанское наследство (1701–1714 гг.).

Карта 3. Война за польское наследство 1733–1735 гг.

Карта 4. Война за австрийское наследство 1740–1748 гг.

Карта 5. Семилетняя война 1756–1763 гг.

Карта 1. Великая Северная война 1700–1721 гг.



Карта «Политическая ситуация в Европе в период Великой Северной войны (1700–1721 гг.)»

Всплывающая информация:  
Ништадтский мирный договор

Заключен 30 августа (10 сентября) 1721 г. между Российским царством и Шведским королевством, завершил Великую Северную войну 1700–1721 гг. К России присоединены ранее принадлежавшие Швеции территории Лифляндии, Эстляндии, Ингерманландии, части Карелии и др. Россия возвращала Швеции оккупированную Финляндию и выплачивала денежную компенсацию.

Война за испанское наследство (1701–1714 гг.).



Карта «Противостоящие коалиции в войне за испанское наследство (1701–1714 гг.)»

Всплывающая информация:

Утрехтский мирный договор.

Заклучен в апреле и июле 1713 г. между Францией и Испанией с одной стороны и Великобританием, Голландской республикой, Священной Римской империей, Португалией и Савойей с другой. Завершила Войну за испанское наследство 1701–1714 гг. Филипп V из династии Бурбонов отрёкся от всех прав на французский престол и был признан королём Испании и её колоний, с условием, что король испанский никогда не будет одновременно королём французским. Испания должна была уступить Австрии Неаполитанское королевство, Сардинию, часть Тосканы, Миланское герцогство и Испанские Нидерланды; Англии – Гибралтар и остров Менорка; Савойе – Сицилию. Франция уступила Габсбургам незначительные территории в Южных Нидерландах, вывела свои войска из Лотарингии. Австрия получила от Испании Неаполитанское королевство, Сардинию, часть Тосканы, Миланское герцогство и испанские Нидерланды. Англия получила Гибралтар и остров Менорку, часть французских колоний в

Америке. Она также приобрела «асъенто» – исключительное право торговли африканскими рабами. Савойя получила Королевство Сицилия, маркграфство Монферрат и западную часть герцогства Миланского.

### Раштаттский мирный договор

Подписан 7 марта 1714 г. (часть Утрехтского мира) между Францией и Австрией. Договор покончил с враждой между королём Людовиком XIV и императором Священной Римской империи Карлом VI, которая продолжалась и после того, как конфликт был разрешён по другим проблемам.

### Баденский договор

Подписан 7 сентября 1714 г. в Бадене и являлся дополнением к Утрехтскому и Раштаттскому мирным договорам, по которым император Карл VI признавал условия Утрехтского мира со стороны монархии Габсбургов. По договору были утверждены формально отсутствующие условия договора между Францией и Священной Римской империей. Завершил последние из конфликтов войны за испанское наследство. Австрия получала Южные Нидерланды и испанские владения в Италии, то есть Неаполь (без Сицилии, отошедшей к Савойе), Милан, Мантую и Сардинию.

Карта 3. Война за польское наследство 1733–1735 гг.



Карта «Противостоящие коалиции в войне за польское наследство (1733–1735 гг.)»

## Всплывающая информация:

### Венский мирный договор

Подписан 18 ноября 1738 г., завершил Войну за польское наследство 1733–1735 гг. Повторял условия прелиминарного (предварительного) договора, также подписанного в Вене 3 октября 1735 г. Франция признавала курфюрста саксонского Фридриха Августа II польским королём под именем Августа III. За Станиславом Лещинским оставлялся пожизненно королевский титул, ему также передавались герцогство Лотарингия и графство Бар, которые после его смерти должны были отойти к Франции. Герцог лотарингский Франц Стефан, зять императора Карла VI, в качестве компенсации за Лотарингию получал Пармское герцогство в составе Пармы, Пьяченцы и Великое герцогство Тосканское. Австрия отказывалась от королевства Сицилия, которое было передано младшей линии испанских Бурбонов. Сардиния получала часть принадлежавшего Австрии Миланского герцогства.

Карта 4. Война за австрийское наследство 1740–1748 гг.  
(на закладке две карты)



Карта «Политическая ситуация в Европе накануне войны за австрийское наследство (1740–1748 гг.)»



Карта «Коалиции в войне за австрийское наследство (1740–1748 гг.)»

### Всплывающая информация:

#### Ахенский мирный договор

Заключен на конгрессе в Ахене 18 октября 1748 г. между Англией, Францией и Голландией. Всюду был восстановлен тот же порядок владения землями, что существовал и до войны. Австрия, помимо уступки Пруссии Силезии и Глаца, была вынуждена ещё уступить герцогства Парму, Пьяченцу и Гуасталлу инфанту дону Филиппу Испанскому, а Сардинии была уступлена часть Миланского герцогства. Наиболее ослабленной из войны вышла Голландия.

Карта 5. Семилетняя война 1756–1763 гг.





Карта «Политическая ситуация в Европе в ходе Семилетней войны (1756–1763 гг.)»

### Всплывающая информация:

#### Парижский мирный договор

Подписан 10 февраля 1763 г. между Великобританией и Португалией, с одной стороны, и Францией и Испанией – с другой. В Европе о. Менорка была возвращена Англии. Французские войска также выводились с территории Ганновера и совместно с испанскими – с территории Португалии. В Вест-Индии Англия отдала назад Франции важные острова: Мартинику и Гваделупу. Четыре острова из группы Малых Антильских, считавшиеся нейтральными, были разделены между двумя державами: Сент-Люсия перешла к Франции, а Сент-Винсент, Тобаго и Доминика – к Англии, которая также удержала за собой и Гренаду. Произошло перераспределение владений в колониях.

#### Губертусбургский мирный договор

Подписан 15 февраля 1763 г. между Пруссией, Австрией и Саксонией, завершил Семилетнюю войну 1756–1763 гг. Австрия отказывалась от всех территориальных притязаний к Пруссии (Силезия и Грауденц), Пруссия – от возмещения ущерба, причинённого войной. В обмен на вывод прусских войск из Саксонии, Австрия выводила свои войска из графства Глац. Пруссия гарантировала Саксонии свободу сообщения с Польшей, в том числе, и пропуск войск через прусскую территорию. Стороны обязывались содействовать развитию обоюдной торговли. Таким образом, по договору восстанавливался довоенный статус-кво.

# Электронный вариант дидактических картографических материалов с элементами интерактивности по учебному предмету «Всемирная история» для 11 класса учреждений образования, реализующих образовательные программы общего среднего образования

№	Тема
1.	Территориальные изменения в Европе после наполеоновских войн.
2.	Первая мировая война в Европе и мире.
3.	Европа во Второй мировой войне (начальный этап).
4.	Раздел Германии после Второй мировой войны.
5.	Локальные конфликты после Второй мировой войны.
6.	Декolonизация Африки.
7.	Ближневосточный конфликт.
8.	Национально-территориальное размежевание в СССР 1922–1956 гг.
9.	Страны Центральной и Юго-Восточной Европы в конце XX в.
10.	Создание и рост Европейского союза. Расширение НАТО.


## 1) Территориальные изменения в Европе после наполеоновских войн



Карта «Территориальные изменения в Европе после наполеоновских войн»



1 – Наполеон на острове Эльба.



Гравюра XIX в. «Наполеон на о. Эльба»

2 – Отправление Наполеона во Францию.



Картина «Отправление Наполеона во Францию»

3 – Возвращение Наполеона во Францию.



Историческая картина «Возвращение Наполеона во Францию»

4 – Переход французских войск на сторону Наполеона.



Историческая картина «Переход французских войск на сторону Наполеона»

5 – Встреча Наполеона во французском городе.



Историческая картина «Встреча Наполеона во французском городе»

6 – Возвращение Наполеона в Тюильри (императорский дворец).



Историческая картина «Возвращение Наполеона в Тюильри»

7 – Битва при Ватерлоо.



Историческая картина «Битва при Ватерлоо»

8 – Веллингтон в битве при Ватерлоо.



Историческая картина «Веллингтон в битве при Ватерлоо»

### Задания



Рабочая карта

[Можно сделать с возможностью впечатывания цифры либо как тест с 4–5 вариантами ответа]

Впишите, какой цифрой на карте обозначены:

- Территория Бельгии, когда-то принадлежавшая австрийским Габсбургам: [ ]. 1
- Остров Эльба, на который был первоначально сослан Наполеон: [ ]. 7
- Территория Валахии, вассальная по отношению к Османской империи: [ ]. 6
- Рейнская область, переданная Прусскому королевству: [ ]. 2
- Территория Папской области, вернувшейся под власть римского папы: [ ]. 8
- Венецианская область, вошедшая в состав Австрийской империи: [ ]. 5
- Территория Царства Польского, образованного в составе Российской империи: [ ]. 3
- Территория Швейцарии, признанной на международном уровне нейтральной: [ ]. 4

## 12) Первая мировая война

### 1-я карта

#### Военно-политические события в ходе Первой мировой войны



Карта «Военно-политические события в ходе Первой мировой войны»

Информация к карте



## Планы противостоящих сторон в Первой мировой войне

Четверной союз	Антанта
Кампания 1914 г. Планы сторон	
План Шлиффена – проведение кратковременной и энергичной военной кампании с последовательным разгромом Франции и России двумя ударами – вначале германское стратегическое наступление на Западном фронте через территорию Бельгии, затем – разгром России совместными усилиями с Австро-Венгрией.	План Жоффра – сдерживание германского наступления в Южной Бельгии и Люксембурге, проведение активных наступательных операций в Эльзасе и Лотарингии. Стратегические наступления русской армии в Восточной Пруссии и в Галиции. Активные действия на море.
Оккупация Японией германских владений в Китае. Англо-французское наступление в Африке. Военные действия на территории Сербии (отбили Белград). Октябрь 1914 г. – вступление в войну Турции. Сарыкамьшская операция русской армии на Кавказском фронте. Начало морской блокады побережья Германии флотом Антанты.	
Кампания 1915 г. Планы сторон	
Продолжение позиционной войны на Западном фронте. Сосредоточение всех сил на восточном фронте, разгром и вывод из войны России.	Использование позиционной войны на Западном фронте для модернизации англо-французской армии. Активные действия русской армии в Восточной Пруссии и Карпатах.
Вступление в войну на стороне Антанты Италии (май). Сражение в Северном море (у Доггер-банки) и у острова Готланд. Начало «неограниченной» подводной войны. Наступательные операции итальянской армии в районе р. Изонцо. Вступление Болгарии в Четверной союз (октябрь). Десантная операция Антанты в Греции и образование Салоникского фронта. Дарданелльская десантная операция (с февр.).	
Кампания 1916 г. Планы сторон	
Используя успехи предшествующей кампании, сохранить статус-кво на большинстве фронтов. Стратегическое наступление на Восточном фронте.	Активные военные действия на обоих фронтах военных действий в Европе.
Вступление в войну на стороне Антанты Румынии. Военные действия в Трансильвании. Эрзерумская операция в январе–марте и Трапезундская операция в апреле на Кавказском театре. Разгром турецкой армии в Египте и английское наступление в Месопотамии. Морское сражение у Ютландского полуострова (31 мая–1 июня).	
Кампания 1917–1918 гг. Планы сторон	
Стратегическая оборона на Западном фронте с переходом в контрнаступление. Продолжение активной подводной войны.	Стратегическое наступление на Западном фронте. Вспомогательные действия русской армии на Восточном фронте.
Вступление в войну США (6 апреля 1917). Английское наступление в Месопотамии, Сирии и германской Восточной Африке. Бои с переменным успехом на Салоникском фронте. Поражение итальянской армии у Капоретто. Капитуляция Болгарии, Турции, Австро-Венгрии.	

## 2-я карта: Планы противостоящих в Первой мировой войне сторон



Карта «Планы противостоящих в Первой мировой войне сторон»

### Информация к карте

#### Планы сторон

План Шлиффена – проведение кратковременной и энергичной военной кампании с последовательным разгромом Франции и России двумя ударами – вначале германское стратегическое наступление на Западном фронте через территорию Бельгии, затем – разгром России совместными усилиями с Австро-Венгрией.

План Жоффра – сдерживание германского наступления в Южной Бельгии и Люксембурге, проведение активных наступательных операций в Эльзасе и Лотарингии. Стратегические наступления русской армии в Восточной Пруссии и в Галиции. Активные действия на море.

## 3-я карта: Кампания 1914 г. в Европе



Карта «Кампания 1914 г. в Европе»

Информация к карте:

Западный фронт

Германское наступление в Люксембурге и Бельгии. Сражение за Льеж. Контрнаступление Антанты и пограничное сражение от Шельды до Мозеля в августе. Сражение на Марне в сентябре (5–12 сентября) и «бег к морю». Переход к позиционной войне.

Восточный фронт

Наступление русской армии в Восточной Пруссии и ее поражение в районе Мазурских болот. Наступление русской армии на Юго-Западном фронте – Галицкая операция. Наступление германской армии в районе Варшавы и Вислы, наступление русской армии в районе Карпат.

4-я карта: Кампания 1915 г. в Европе



Карта «Кампания 1915 г. в Европе»

Информация к карте:

Западный фронт

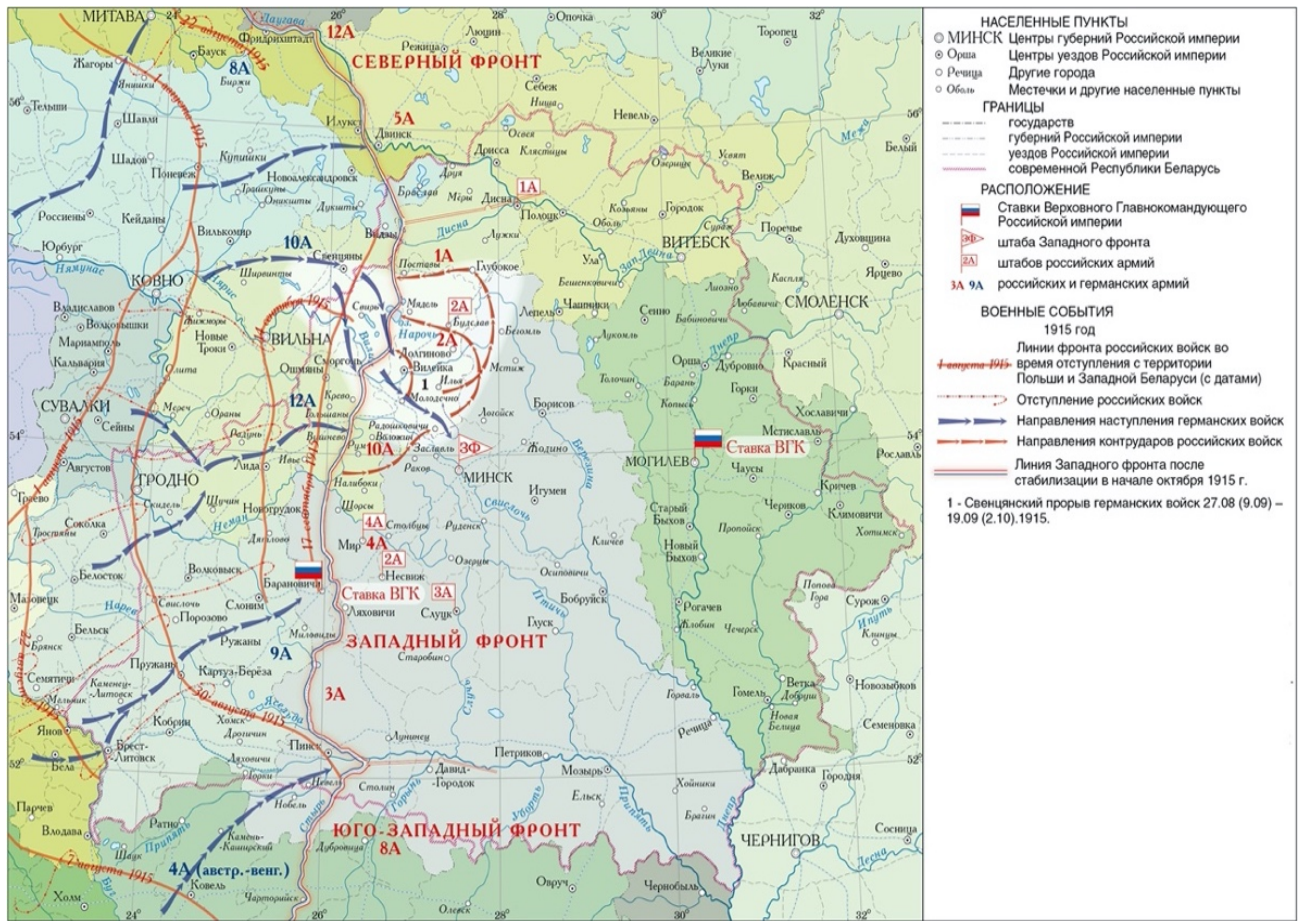
Начало использования на Западном фронте военных дирижаблей и отравляющих газов.

Восточный фронт

Февральское наступление германской армии в Восточной Пруссии. Январь-февраль – карпатская операция русской армии. Германское наступление в мае в районе Горлицы (Галиция). Отвод русских войск за Неман. Оккупация Германией большей части Польши и Прибалтики.

Здесь нужно сделать переход к дополнительной карте, отражающей ситуацию в Беларуси:

Первая мировая война на территории Беларуси в 1915 г.



Карта «Кампания 1915 г. на территории Беларуси»

5-я карта: Кампания 1916 г. в Европе



Карта «Кампания 1916 г. в Европе»

Информация к карте:

Западный фронт

Восточный фронт

Февраль–октябрь – Верденское сражение (21 февраля – 18 декабря). Брусиловский прорыв на Юго-Западном фронте (3 июня — 22 августа).

Июль–ноябрь – наступление Антанты в районе реки Соммы.

6-я карта: Кампания 1917 г. в Европе



Карта «Кампания 1917 г. в Европе»

Информация к карте:

Западный фронт	Восточный фронт
Стратегическая оборона на Западном фронте с переходом в контрнаступление. Продолжение активной подводной войны.	Стратегическое наступление на Западном фронте. Вспомогательные действия русской армии на Восточном фронте.

7-я карта: Кампания 1918 г. в Европе



Карта «Кампания 1918 г. в Европе»

Информация к карте (то же, что в 1917 г.):

Западный фронт

Стратегическая оборона на Западном фронте с переходом в контрнаступление. Продолжение активной подводной войны.

Восточный фронт

Стратегическое наступление на Западном фронте. Вспомогательные действия русской армии на Восточном фронте.

Всплывающая информация к цифрам на картах:

Крупнейшие сражения и военные операции

- 1 – Восточно-Прусская операция. 17 августа – 15 сентября 1914 г.
- 2 – Варшавско-Ивангородская операция. 28 сентября – 8 ноября 1914 г.
- 3 – Галицийская битва. 18 августа – 21 сентября 1914 г.
- 4 – Сражение на р. Марна. 5–12 сентября 1914 г.
- 5 – Горлицкий прорыв германо-австрийских войск. 2 мая – 23 июня 1915 г.
- 6 – Верденская операция. 21 февраля – 18 декабря 1916 г.
- 7 – Сражение на р. Сомма. 1 июля – 8 ноября 1916 г.
- 8 – Брусиловский прорыв. 4 июня – 13 августа 1916 г.
- 9 – Июньское наступление российской армии. 29 июня – 28 июля 1917 г.



## Картографические задания по истории Первой мировой войны



Рабочая карта

### Тестовые задания

1. В военно-политический блок «Антанта» входило государство, отмеченное на карте цифрой:

- а) 2
- б) 4
- в) 6
- г) 8

2. В Тройственный союз в начале Первой мировой войны входило государство, отмеченное на карте цифрой:

- а) 1
- б) 4
- в) 6
- г) 7

3) Расположение Эльзаса и Лотарингии отмечено на карте буквой:

- a) А
  - б) Б
  - в) В
  - г) Г
- 4) Место Верденского сражения отмечено на карте римской цифрой:
- a) I
  - б) II
  - в) III
  - г) IV
- 5) Место Брусилловского прорыва отмечено на карте римской цифрой:
- a) III
  - б) IV
  - в) V
  - г) VI
- 6) В состав Австро-Венгерской империи (на карте выделена оранжевым цветом) входила территория:
- a) Баварии
  - б) Сербии
  - в) Чехии
  - г) Бессарабии
- 7) В годы Первой мировой войны Германия захватила территорию независимого государства:
- a) Бельгии
  - б) Швейцарии
  - в) Болгарии
  - г) Швеции
- 8) Наиболее активные военные действия Первой мировой войны на территории Беларуси происходили в:
- a) 1914 г.
  - б) 1915 г.
  - в) 1916 г.
  - г) 1917 г.

### 13) Европа во Второй мировой войне (начальный этап)

Последовательность карт:

1. Европа во Второй мировой войне (начальный этап).
2. Расчленение Чехословакии.
3. Воссоединение Белоруссии.



Карта «Начальный период Второй мировой войны»

Обозначены границы государств и колониальных владений к 1939 г.; крупнейшие города мира; важнейшие события начального этапа Второй мировой войны (война в Польше, Северной Европе, Франции, балканская кампания); политическая ситуация в Европе накануне нападения Германии на СССР.

Всплывающая информация на карте.

1. Всплывающая карта 2 «Расчленение Чехословакии».



«Расчленение Чехословакии в 1938–1939 гг.»

Обозначены политические границы на 15 марта 1939 г., границы государственных образований, возникших в результате Мюнхенского соглашения, основные города. Выделены территории Чехословакии, отошедшие в состав Германии, Венгрии, Польши.

К началу 1930-х гг. ведущие государства Западной Европы раскололись на две группы. Первая включала Германию и Италию, которые не были удовлетворены итогами Первой Мировой войны. Ко второй относились Великобритания и Франция, стремившиеся всеми силами сохранить порядок, установленный Версальским мирным договором 1919 г. В условиях милитаризации Германии (1933 г. – создание военно-воздушных сил, 1935 г. – присоединение Саарской области, 1936 г. – ликвидация Рейнской демилитаризованной зоны) Великобритания и Франция вели «политику умиротворения». Руководство этих двух стран рассчитывало на то, что уступки приведут к прекращению дальнейшей агрессии Германии.

Наиболее ярким примером «политики умиротворения» стали подписанные в Мюнхене без участия чехословацкой делегации 30 сентября 1938 г. соглашения. Они предусматривали фактический раздел Чехословакии: населённая преимущественно немцами Судетская область передавалась Германии, значительные территории получили Венгрия и Польша. Весной следующего года о независимости объявила Словакия, ставшая государством-сателлитом Германии. Тогда же оставшаяся территория Чехии и Моравии была оккупирована немецкими войсками, превратившись в подчинённый Германии протекторат.

## 2. Пакт о ненападении между СССР и нацистской Германией.



Руководитель СССР Иосиф Сталин и министр иностранных дел Германии Иохим Риббентроп, 23 августа 1939 г.

Рассчитывая продолжать агрессивную политику в Европе, руководство нацистской Германией стало добиваться нормализации отношений с Советским Союзом. Летом 1939 г. контакты между двумя странами активизировались. Вскоре Германия предложила Советскому Союзу разграничить зоны интересов сторон в Восточной Европе. Для завершения переговоров и подписания соглашения министр иностранных дел Германии Иохим Риббентроп прилетел в Москву.

23 августа 1939 г. Риббентроп и народный комиссар иностранных дел СССР Вячеслав Молотов подписали пакт о ненападении. Дополнительно к пакту прилагался секретный протокол, разграничивавший сферы влияния Германии и СССР в Восточной Европе. Сферой интересов Советского Союза признавались прибалтийские республики и Бессарабия.

Подписание пакта открыла для Германии возможность реализовать свои намерения относительно польских земель: на следующий день после его ратификации немецкие войска вступили на территорию Польши 91 сентября 1939 г.).

### 3. Германское вторжение в Польшу.



Немецкие солдаты сносят польский пограничный столб в районе Данцига, 1 сентября 1939 г.

Сразу после подписания Мюнхенских соглашений, в октябре 1938 г., Германия потребовала от Польши передачи т. н. Данцигского коридора – территории, отделявшей Восточную Пруссию от основного массива германских земель. В условиях советско-германских переговоров летом следующего года отношения между Германией и Польшей ещё больше обострились. Выдвинув вечером 31 августа Польше ультиматум и объявив о том, что он не выполнен, Германия объявила войну. Вступление немецких войск на польскую территорию 1 сентября 1939 г. является официальной датой начала Второй Мировой войны.

Нападение на Польшу было организовано в соответствии с военным планом «Вайс» («Белый»). Этот план «молниеносной войны» (блицкрига) предусматривал разгром польской армии за две недели и последующую оккупацию всей страны. Германское командование исходило из того, что польские союзники Великобритания и Франция не вмешаются в войну, что подтвердилось. Вплоть до разгрома польских войск английские и французские войска вели минимальные боевые действия (т. н. «странная война»). С определёнными коррективами планы германского командования были выполнены: до конца сентября немецкие войска вышли на линию соприкосновения с Красной Армией, оккупировав большую часть Польши. Значительная часть её территория была присоединена к Германии, области с городами Варшавой и Краковом объединялись в германскую колонию – т. н. генерал-губернаторство.

#### 4. Всплывающая карта «Воссоединение Белоруссии».



Карта «БССР в 1939–1941 гг.»

В соответствии с советской нотой послу Польши, «советское правительство отдало распоряжение Главному командованию Красной армии дать приказ войскам перейти границу и взять под свою защиту жизнь и имущество населения Западной Украины и Западной Белоруссии». Освободительный поход Красной Армии в Западную Белоруссию начался 17 сентября 1939 г. Уже 22 сентября красноармейские части заняли Брест, вступив в соприкосновение с военными Германии. В городе Белостоке (ныне – территория Польши) было созвано Народное собрание Западной Белоруссии. 29 октября собрание утвердило «Декларацию Белорусского Народного Собрания по вопросу о вхождении Западной Белоруссии в состав Белорусской Советской Социалистической Республики», которая была принята единогласно. Верховный Совет СССР утвердил решение о вхождении Западной Белоруссии в состав БССР отдельным законом. В результате территория и население БССР существенно увеличились, на западе были образованы новые области: Барановичская, Белостокская, Брестская, Вилейская, Пинская.

#### 5. «Зимняя война».



Финский отряд военных лыжников

Советское руководство неоднократно выдвигало предложения о том, чтобы исходя из соображений безопасности Ленинграда Финляндия уступила пограничные территории в обмен на земли в Карелии. Финляндия отказалась от этого. 26 ноября 1939 г. советское правительство направило правительству Финляндии протест по поводу совершённого с финской территории артиллерийского обстрела. Спустя 4 дня Красная Армия начала вторжение на территорию Финляндии. Советско-финляндскую войну 1939-40 гг. называют «Зимней войной». Бои за приграничную полосу укреплений, линию Маннергейма, оказались для красноармейцев очень тяжёлыми и кровопролитными. Суровая зима добавила трудностей; множество солдат погибло от обморожения. Несмотря на все трудности в феврале 1940 г. Линия Маннергейма была прорвана, Красная Армия заняла город Выборг. В марте военные действия прекратились; по условиям

мирного договора Финляндия уступила Советскому Союзу около 10 % своей территории.

#### 6. Германское вторжение в Данию и Норвегию.



Фронт у Тронхейма, Норвегия, 29 апреля 1940 г.

Важное значение для ведения военных действий в Северном море имел норвежский порт Нарвик, обеспечивавший круглогодичное убежище для кораблей. Чтобы опередить британцев, претендовавших на использование бухты Нарвика в своих интересах, германское руководство разработало военный план «Везерюбунг». План предусматривал реализацию блицкрига (молниеносной войны) против Дании и Норвегии. Операция была разработана всего за 5 дней. В её основе лежала высадка десантов в ключевые норвежские города: Нарвик, Тронхейм, Берген, Осло. Несмотря на сопротивление норвежской армии, всего за два дня 9-10 апреля 1940 г. ключевые пункты были захвачены. Одновременно германская армия перешла границу с Данией, практически без борьбы захватив её столицу. Несмотря на быстроту основной операции, в отдельных населённых пунктах и местностях сопротивление продолжалось долго. Оккупировав Данию и Норвегию, немцы создали на севере удобный для себя плацдарм, место для базирования подводных лодок и авиации.

#### 7. Германское вторжение в страны Бенилюкса и во Францию.






Рисунок 169 – Нагруженный эвакуирующимися солдатами французский корабль тонет в море возле Дюнкерка, 30 мая 1940 г.

План «молниеносной войны» против Бельгии, Нидерландов и Люксембурга назывался «Гельб», а план французской кампании – «Рот». К их реализации Германия приступила 10 мая 1940 г. Основным противником для Германии была Франция, но поскольку самый удобный путь на её столицу лежал через Бельгию и Нидерланды, эти страны тоже подверглись агрессии. Немецкое продвижение действительно было почти «молниеносным». Нидерланды были захвачены в течение всего 5 дней, а к началу июня немцы полностью оккупировали и Бельгию. Нападение на Францию было неожиданным, и немцы сполна использовали это преимущество. К 25 мая немецкие войска вышли к Ла-Маншу южнее Булони, тем самым окружив не только французские, но и английские части. Несмотря на это англичанам было «позволено» спасти свои войска, эвакуировав их из Дюнкерка. После этого все силы германской военной мощи были брошены на окончательный разгром Франции. После того, как немецкие войска оказались в пригородах французской столицы, 14 июня Париж был сдан без боя. Французское правительство бежало на юг страны, а парламент принял решение о капитуляции. Примечательно, что акт о капитуляции Франции был подписан в Компьенском лесу 22 июня в том же вагоне, в котором представители Германии в конце Первой Мировой войны подписали унизительное для них перемирие.

#### 8. Территориальные присоединения к СССР в 1940 г.



Советские войска вступают в Ригу, 1940 г.

Осенью 1939 г. Эстония, Латвия и Литва заключили с СССР договоры о взаимопомощи, предусматривавшие размещение на территории этих стран советских военных баз. 17 июня 1940 г. СССР предъявил прибалтийским республикам ультиматум, требуя формирования в них «народных» правительств. Вскоре после того, как условия ультиматумов были выполнены в Эстонии, Латвии и Литве прошли безальтернативные выборы с участием исключительно коммунистических партий. Вновь избранные парламенты немедленно подали

прошения о вступлении республик в состав Советского Союза (в течение 3-6 августа 1940 г.).

Тем самым были реализованы главные нормы секретного протокола к советско-германскому договору 1939 г. (пакту Молотова-Риббентропа). Следующим шагом стало присоединение к СССР исторической области Бессарабии, входившей в состав Румынии. Получив советский ультиматум власти Румынии не нашли поддержки со стороны других государств и были вынуждены уступить. Румыния вывела свои войска и органы власти из Бессарабии, после чего туда вступили части Красной Армии. 2 августа 1940 г. на большей части Бессарабии была провозглашена Молдавская ССР.

#### 9. «Битва за Британию».



Немецкий бомбардировщик Heinkel над лондонскими доками

«Битвой за Британию» (иначе – «Битва за Англию») называют авиационное сражение в небе над Великобританией, продолжавшееся с 10 июля по 30 октября 1940 г. День за днём сотни немецких самолётов совершали боевые вылеты и сбрасывали бомбы на английские города. Их целью было разрушение ведущих промышленных предприятий и инфраструктуры страны, деморализация населения, в конечном итоге – принуждение британского правительства к миру. Всего в «Битве за Британию» участвовало более 2,5 тысяч немецких и итальянских самолётов. Несмотря на тяжёлые последствия вражеских бомбардировок английское население сохранило способность сопротивляться, а поставленные германским командованием цели не были достигнуты. Не получив превосходства в воздухе к началу войны с Советским Союзом, Германия оказалась в потенциально более слабой позиции.

Задания.

Выберите правильный вариант ответа.

1. Название исторической области в Чехословакии, вошедшей по итогам Мюнхенских соглашений в состав Германии.

- А) Богемия
- Б) Моравия
- В) Словакия
- Г) Судеты

Правильный ответ: г

2. Министр иностранных дел Германии, подписавший в 1939 г. пакт о ненападении с Советским Союзом.

- А) Геринг
- Б) Молотов
- В) Риббентроп
- Г) Сталин

Правильный ответ: в

3. Название германского плана вторжения в Польшу.

- А) «Вайс»
- Б) «Гельб»
- В) «Грюн»
- Г) «Рот»

Правильный ответ: а

4. Одна из областей, образованных в составе БССР после воссоединения Западной Белоруссии.

- А) Витебская
- Б) Гомельская
- В) Пинская
- Г) Туровская

Правильный ответ: в

5. Название румынской области, вошедшей в состав СССР в 1940 г.

- А) Бессарабия
- Б) Латвия
- В) Моравия
- Г) Все ответы правильные

Правильный ответ: а

Соотнесите названия германских военных планов с государствами, захват которых они предусматривали.

1	«Вайс»	А	Нидерланды и Бельгия
2	«Везерюбунг»	Б	Норвегия
3	«Гельб»	В	Польша
4	«Грюн»	Г	Франция
5	«Рот»	Д	Чехословакия

Правильные ответы: 1В, 2Б, 3А, 4Д, 5Г.

Как Вы думаете, почему Великобритания и Франция придерживались «политики умиротворения» в отношении нацистской Германии? Ответ обоснуйте.

Какими внешними факторами было обусловлено расширение территории СССР в 1939-40 гг.?

Как Вы считаете, почему германское руководство позволило английским войскам избежать гибели в мае-июне 1940 г. и эвакуироваться из-под Дюнкерка? Ответ обоснуйте.

## 14) Раздел Германии после Второй мировой войны

Перечень карт:

1. Раздел Германии после Второй мировой войны.
2. Оккупационные зоны на территории Германии (всплывающая).

Карта 1.



Картосхема «Раздел Германии после Второй мировой войны»

Обозначены границы государств Западной и Центральной Европы до и после Второй мировой войны. Обозначена трансформация государственных границ, крупнейшие города, деление Германии и Берлина на зоны оккупации.

Всплывающая информация на карте.

1. Крымская конференция 1945 г.



Фотодокумент «Лидеры великих держав на Крымской конференции»

С 4 по 11 февраля 1945 г. в Ялте (полуостров Крым, СССР) состоялась встреча лидеров трёх основных участников антигитлеровской коалиции – СССР, США, Великобритании. Советский Союз представлял Иосиф Сталин, США – президент Франклин Рузвельт, Великобританию – премьер-министр Уинстон Черчилль. На повестке дня конференции был вопрос послевоенного обустройства Европы: проведение новых государственных границ, разграничение сфер влияния победителей. Лидеры государств пришли к согласию относительно большинства обсуждаемых вопросов. Прежде всего, было принято решение о будущей оккупации и разделе Германии на оккупационные зоны. Предусматривалось выделение отдельной зоны для Франции, которая тем самым включалась в число государств-победителей. Также обсуждался вопрос отделения от Германии территории Восточной Пруссии.

## 2. Потсдамская конференция 1945 г.



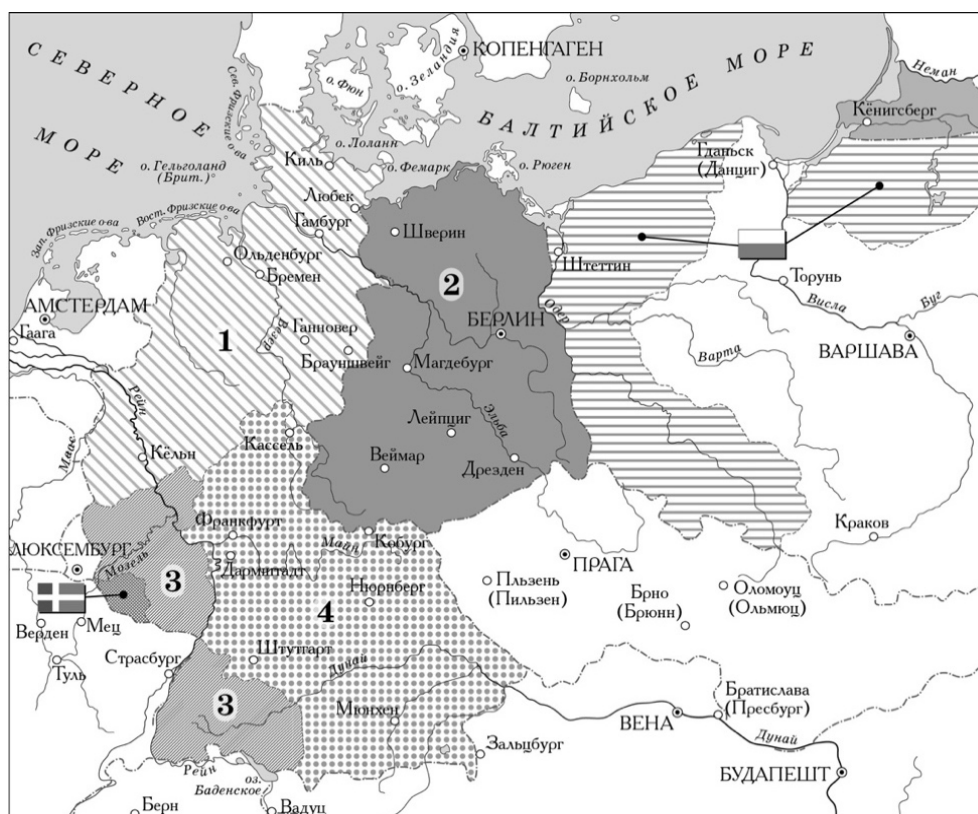
Фотодокумент «Участники Потсдамской конференции»

Делегации государств-победителей за круглым столом во время пресс-конференции в Потсдаме, 17 июля 1945 г.

Последняя встреча руководителей государств-победителей состоялась в соседнем с Берлином городе Потсдаме; конференция проходила с 17 июля по 2 августа 1945 г. Поскольку к этому времени нацистская Германия была разгромлена, а части Красной Армии заняли большую долю территории стран Центральной и Восточной Европы, отношения между победителями изменились. Теперь главным был вопрос будущих взаимоотношений сверхдержав – СССР и США. Среди рассматривавшихся в Потсдаме вопросов была германская проблема. В отношении Германии предусматривались мероприятия по демилитаризации, демократизации и денацификации. Было подтверждено разделение Германии на 4 зоны оккупации, верховную власть в которых будут осуществлять главнокомандующие вооружёнными силами СССР, США, Великобритании и Франции. Несмотря на это Германию по-прежнему рассматривали как экономически единое пространство.

На Потсдамской конференции окончательно устанавливались новые государственные границы Германии, из состава которой изымался ряд областей. В частности, была подтверждена передача в состав СССР территории Восточной Пруссии. Также была установлена новая граница между Германией и Польшей (по рекам Одер и Нейсе), восстанавливалась независимость Австрии.

### 3. Послевоенная оккупация Германии. Всплывающая карта 2.



Оккупационные зоны на территории Германии, 1945-49 гг.

Согласно договорённостям государств-победителей, территория Германии (с учётом изменившихся границ) была разделена на советскую, американскую, британскую и французскую зоны оккупации. Хотя оккупационные войска были размещены отдельно от немецкого населения, власти зон осуществляли ряд мероприятий, призванных реализовать принятые на Потсдамской конференции решения. С целью денацификации Германии, признанные виновными в преступлениях нацизма лица интернировались в особые лагеря, осуществлялась кампания по перевоспитанию населения – ознакомлению немцев с преступными проявлениями нацистского режима. В оккупационных зонах была разрешена политическая жизнь в форме политических партий (исключая нацистскую), проводились выборы в органы самоуправления. В апреле 1946 г. Социал-демократическая и Коммунистическая партии в советской оккупационной зоне объединились в СЕПГ – Социалистическую единую партию Германии.

#### 4. Образование ГДР и ФРГ.



Вид на Берлинскую стену с восточной стороны.

По вопросу единого политического органа в Германии союзники разошлись; был образован только общий для всех зон Экономический совет. Раскол между капиталистическим и коммунистическим блоками в мире обусловил дальнейший раздел Германии на два государства. Первым шагом к этому стало объединение американской, британской и французской зон в единую Тризонию (июнь 1948 г.). Вскоре границы между советской зоной и Тризонией были перекрыты, а Западный Берлин фактически оказался блокирован, поддерживая связи с Тризонией только по воздуху. Логическим завершением процессов разобщения стало принятие конституций двух государств: Федеративной Республики Германии на западе (23 мая 1949 г.) и Германской Демократической Республики на востоке (30 мая 1949 г.). Столицей ФРГ стал Бонн, столицей ГДР – Берлин (Западный Берлин остался «особой политической единицей»).

Символом разобщения двух государств, представлявших разные политические блоки, стало строительство в 1961 г. Берлинской стены –

инженерных сооружений на границе ГДР, перекрывших возможность гражданам последней свободно перемещаться в Западную Германию.

Задания.

Выберите правильный вариант ответа.

1. Название исторической области, по итогам Второй мировой войны вошедшей в состав Советского Союза.

- А) Бавария
- Б) Восточная Пруссия
- В) Ганновер
- Г) Силезия

Правильный ответ: б

2. Название исторической области, по итогам Второй мировой войны вошедшей в состав Польши.

- А) Бавария
- Б) Восточная Пруссия
- В) Ганновер
- Г) Силезия

Правильный ответ: г

3. В каком году американская, британская и французская оккупационные зоны объединились Тризонию?

- А) 1946
- Б) 1947
- В) 1948
- Г) 1949

Правильный ответ: в

4. В состав этого государства вошёл Западный Берлин после разделения Германии в 1949 г.

- А) ГДР
- Б) ФРГ
- В) СССР
- Г) Не вошёл ни в одно государство

Правильный ответ: г

Соотнесите германские города с оккупационными зонами, в состав которых они вошли в 1945 г.

1	Американская зона	А	Ганновер
2	Британская зона	Б	Лейпциг
3	Советская зона	В	Нюрнберг
4	Французская зона	Г	Саарбрюккен

Правильные ответы: 1В, 2А, 3Б, 4Г.

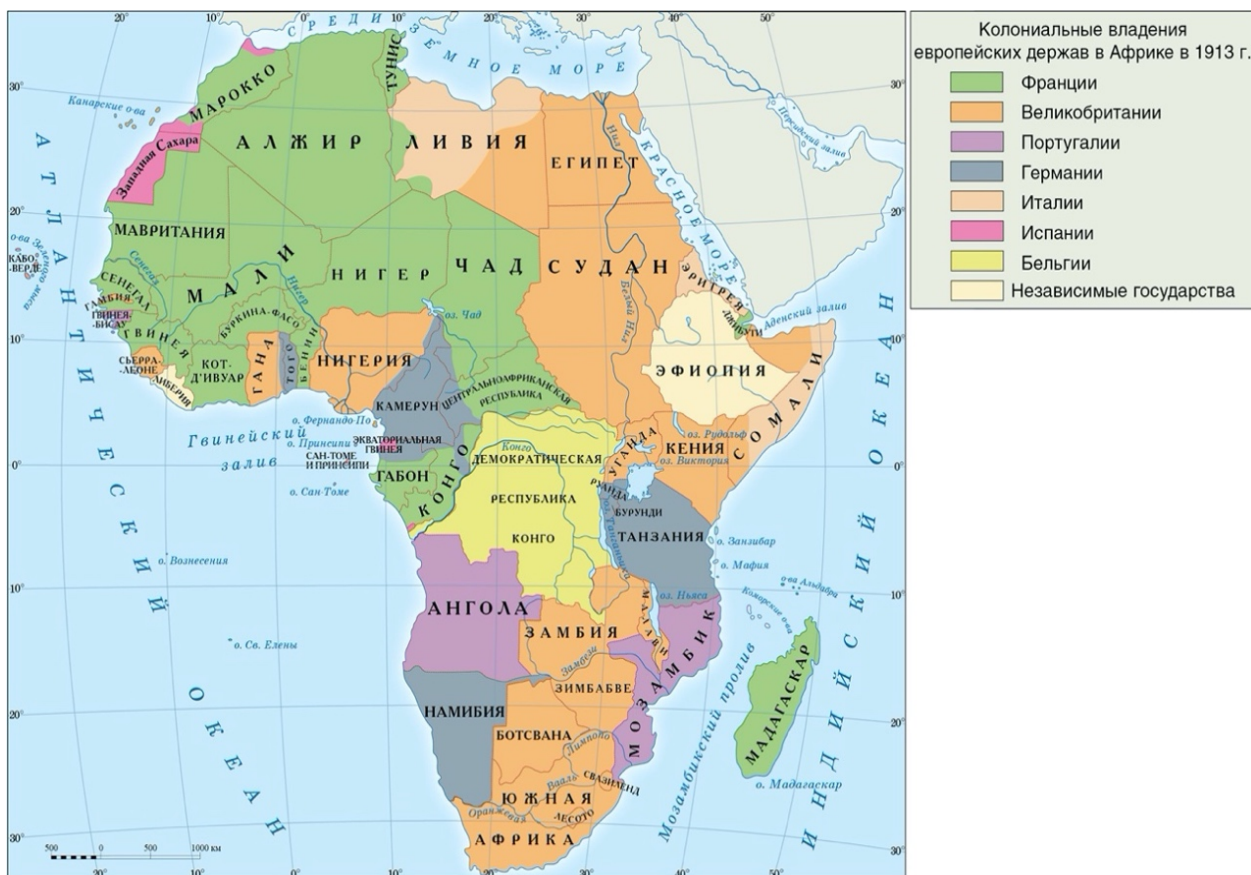
Как Вы думаете, почему руководители государств-победителей не смогли в 1940-х гг. договориться о воссоздании единого Германского государства? Ответ обоснуйте.



## 16) Деколонизация Африки

Перечень карт:

1. Колониальные владения в Африке в 1913 г.
2. Деколонизация Африки.
3. Деколонизация Африки.

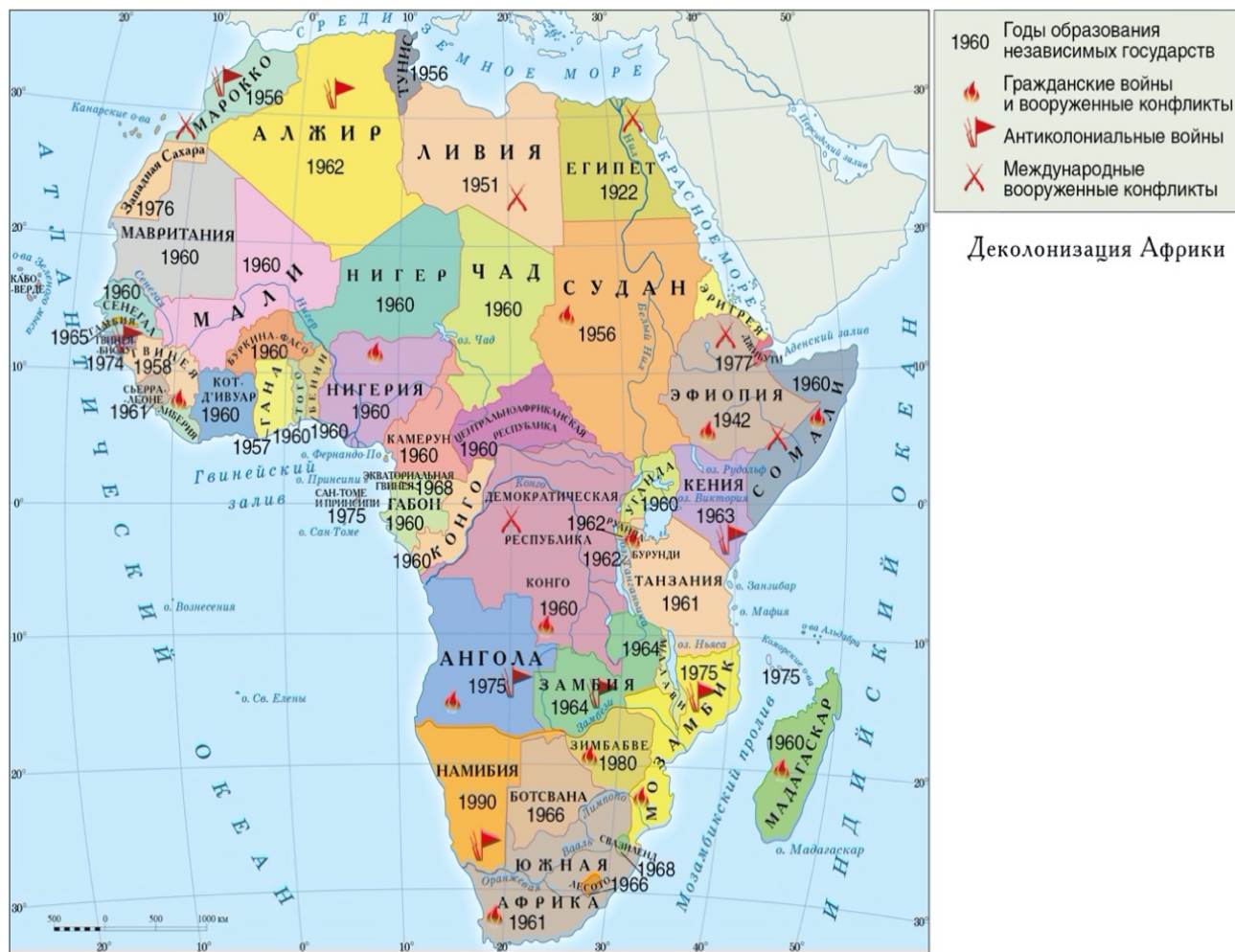


Политическая карта Африки в начале XX в.

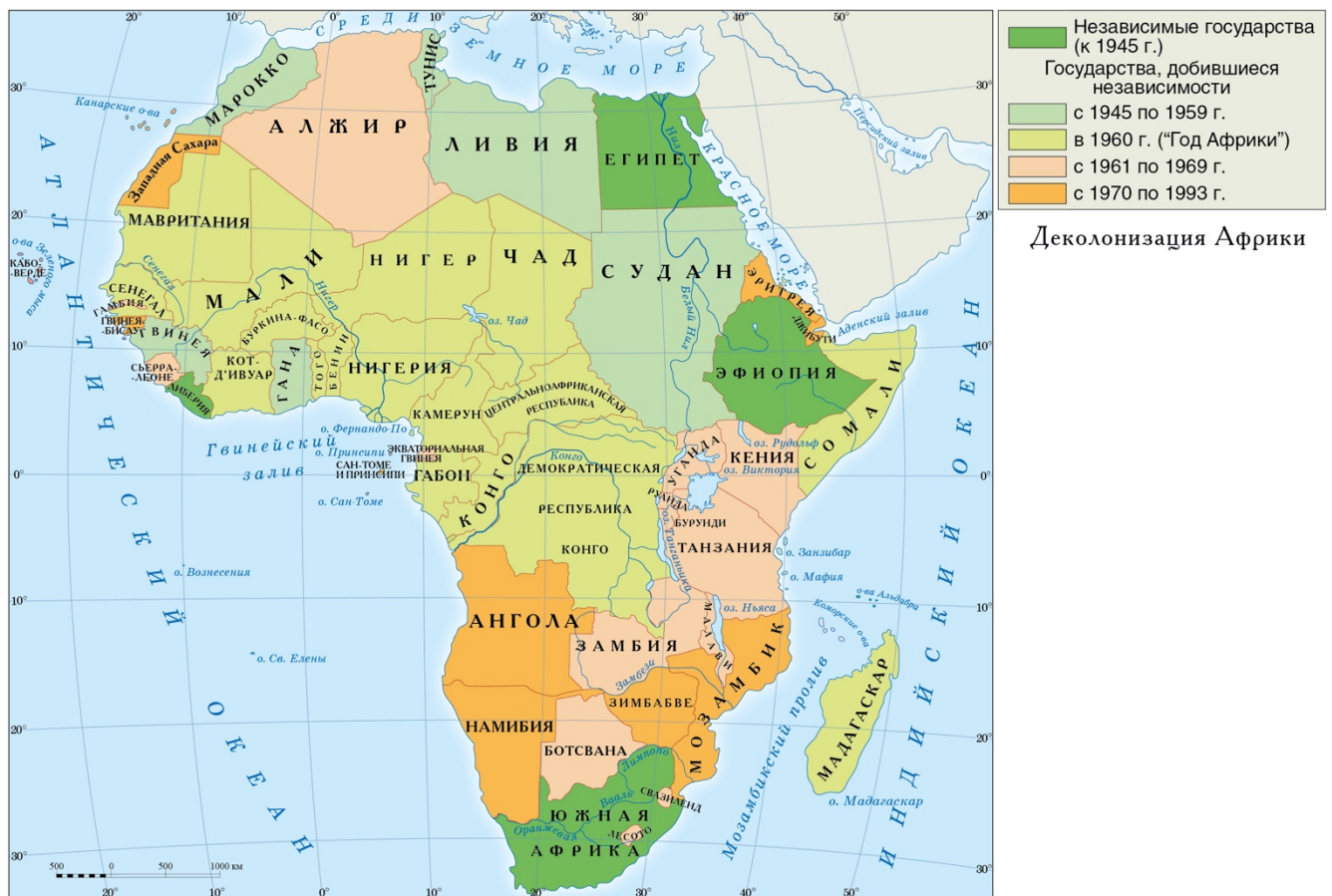
Обозначены границы государств Африки с указанием годов приобретения ими независимости; крупнейшие города Африки; указания на принадлежность территории европейским метрополиям.

Всплывающая информация на карте.

1. Колониализм в Африке.



Карта «Декolonизация Африки»



Обозначены границы колониальных владений и государств Африки по состоянию на 1956 год. Колониальные владения европейских государств обозначены разными цветами.

Колониализм в Африке, 1956 год.

На протяжении XIX в. ведущие европейские государства захватывали отдельные регионы Африканского континента. К началу Первой мировой войны Африка оказалась разделена между Великобританией, Францией, Португалией, Бельгией и другими государствами. К этому моменту независимость на континенте сохранили только Эфиопия и Либерия. Формально независимый Египет находился под британским протекторатом. Ситуация мало изменилась после мировых войн. Несколько бывших колоний приобрели независимость, однако большую часть Африки по-прежнему занимали британская, французская, португальская и бельгийская колониальные империи.

2. Распад французской колониальной империи.



Французский пропагандистский плакат 1898 г. в честь похода отряда майора Маршана через Африку в Фашоду

В первой половине XIX в. Франция превратила в свои владения Алжир и Тунис, а на протяжении второй половины захватила обширные территории в Западной Африке. В совокупности они составили французскую колониальную империю. Франция активно эксплуатировала свои колонии, превратив их в свои аграрно-сырьевые придатки.

В 1946 г. колониальные владения Франции на западе Африки были объединены во Французский Союз. Тем самым колонии были преобразованы в департаменты, а их жители автоматически становились французскими гражданами. Бывшие колонии хоть и не стали независимыми, но избранные от них во французский парламент депутаты приобрели ценный политический опыт. Впоследствии они применяли его в родных странах во время борьбы за независимость. В 1958 г. Союз был преобразован во Французское сообщество. Его участники имели право выхода из него, которое было реализовано в 1960 г. В этом году все африканские колонии Франции получили независимость и сообщество потеряло своё значение.

### 3. Год Африки.




Премьер-министр Великобритании Гарольд Макмиллан в Южной Африке в 1960 г.

В 1960 г. на карте мира образовалось сразу 17 независимых государств из числа бывших африканских колоний. Тем самым окончательно прекратила существование французская колониальная империя, потеряли свои колониальные владения Бельгия и Италия. Также стали независимыми бывшие британские колонии Нигерия и Сомали. 1960 г. был назван «Годом Африки».

Помимо национально-освободительного движения в африканских странах большую роль в приобретении ими независимости сыграла добрая воля политиков ведущих государств мира. Выразителем новой политики европейских держав в отношении Африки стал британский премьер-министр Гарольд Макмиллан. Во время визита в Южно-Африканский Союз (сейчас – Южно-Африканская Республика) он выступил в парламенте с речью, вошедшей в историю как «речь о ветре перемен». Со своей стороны, СССР на Генеральной ассамблее ООН в 1960 г. предложил проект освобождения от колониальной зависимости всех африканских стран. В результате, на сессии 14 декабря была принята Декларация о предоставлении независимости колониальным странам и народам, которая стала основой для следующей волны приобретения независимости.

#### 4. Патрис Лумумба.



Патрис Лумумба (1925–1961 гг.)

Лумумба работал мелким служащим в Бельгийском Конго, побывал в Бельгии в числе других образованных конголезцев, даже был представлен бельгийскому королю. С 1950-х гг. Лумумба стал принимать активное участие в политической жизни колонии. Он возглавил профсоюз почтовых работников, вступил в либеральную партию, стал публиковаться. Постепенно взгляды Лумумбы эволюционировали от идеи «европеизации» Конго к убеждению в необходимости полной независимости страны.

В 1958 г. Лумумба основал партию Национальное движение Конго, став её председателем. Партия возглавила борьбу за независимость от Бельгии и колониальные власти арестовали Лумумбу. Он был освобождён под давлением народа. В 1960 г. Конго приобрело независимость, на первых в стране выборах партия Лумумбы одержала победу. Сам Лумумба был назначен премьер-министром страны.

Предоставив Конго независимость, власти Бельгии хотели сделать из страны марионеточную республику, чтобы продолжать эксплуатировать её богатые ресурсы. Возглас Лумумбы на выступлении перед бельгийским королём показал трудности удержания Конго в зависимом состоянии: «Мы больше не ваши обезьяны!» Правительство Лумумбы предприняло ряд мер, направленных на реальный контроль над ресурсами страны. В ответ бельгийцы организовали мятеж, «бескомпромиссный» Лумумба был снят с должности премьер-министра. Во время гражданских беспорядков он попал в руки сепаратистов и был расстрелян без суда. Спустя несколько лет в Конго установился коррумпированный режим, в итоге приведший к длительной гражданской войне.

## 5. Кваме Нкрума.



Кваме Нкрума (1909–1972 гг.)

Нкрума родился в одной из африканских колоний Великобритании. Он получил образование колледже в Аккре, а затем в одном из американских университетов. За время пребывания в США он проникся идеями освобождения Африки от колониального строя. Поэтому. После возвращения на родину, наряду с преподаванием и научными занятиями Нкрума стал заниматься общественной деятельностью. Он стал одним из руководителей Союза студентов Западной Африки, превратив его во влиятельную организацию, занимающуюся борьбой за улучшение условий жизни в регионе.

Нкрума стал одним из главных идеологов panaфриканизма – движения, требовавшего предоставления чернокожим равных прав с белыми. Он мечтал о создании на африканском континенте единого государства – Соединённых Штатов Африки. При этом плацдармом для освобождения от колониализма должна была стать Западная Африка как наиболее развитый в экономическом и политическом отношении регион. С конца 1940-х гг. Нкрума стал бороться за независимость родной страны, основав ряд организаций и политических партий. Уже в период независимости – в 1960 г. – он стал одним из инициаторов образования Организации африканского единства.

После того, как в 1957 г. Гана обрела независимость, Нкрума стал первым премьер-министром молодого государства (с 1964 г. – пожизненный президент). Чтобы форсировать модернизацию экономики, он обратился за помощью к социалистическому лагерю. Правительством Нкрумы были проведены реформы, передавшие в государственную собственность горнорудную промышленность, торговый флот и авиацию. Однако, ошибки в экономической политике привели Гану к финансово-экономическому кризису. В 1966 г. Нкруме был смещён в результате военного переворота и покинул страну, умерев в изгнании.

6. Роберт Мугабе.



Роберт Мугабе (1924–2019 гг.)

По образованию учитель, в 1960-х гг. Мугабе основал Зимбабвийский африканский национальный союз, боровшийся за независимость британской колонии Родезии. В 1964 г. власть в этой колонии захватило белое меньшинство, сопротивлявшееся попыткам правительства Великобритании установить равноправие для чернокожих. Родезийские националисты в одностороннем порядке провозгласили независимость от Великобритании; однако Родезия не была признана мировым сообществом.

Власти Родезии вели постоянную борьбу с партизанским движением, одним из лидеров которого был Мугабе. В 1979 г. власти Родезии были вынуждены уступить. Страна получила новое название – Зимбабве. Были проведены свободные выборы, в результате которых победу одержали сторонники Мугабе. Их лидер стал первым премьер-министром страны, а с 1987 г. – президентом.

Произведя государственный переворот, Мугабе установил в Зимбабве однопартийный режим. В результате его правления в стране значительно возросла инфляция (до 100580% в год), упало промышленное и сельскохозяйственное производство, безработица достигла 80%. Несмотря на это в 2016 г. он был избран президентом страны в 6 раз. Только после массовых протестов Мугабе был вынужден подать в отставку (в 2017 г.).

## 7. Нельсон Мандела.





Нельсон Мандела (1918–2013 гг.)

Мандела родился в знатной семье в Южной Африке, его прадед был правителем народности тембу. Он обучался в университете, однако не кончил обучение, поскольку заинтересовался политической деятельностью. В 1943 г. Мандела впервые принял участие в массовой акции протеста. Со временем он активно включился в борьбу против апартеида.

В 1948 г. в Южно-Африканском Союзе (с 1961 г. – Южно-Африканская Республика) был установлен режим апартеида – раздельного проживания лиц разной расовой принадлежности. Политика расовой сегрегации в Южной Африке включала запрет чернокожим вести бизнес в зонах «белой Южной Африки». Они должны были проживать только в специальных территориях (бантустанах). Работа в «белой зоне» допускалась лишь по специальному разрешению. При этом условия проживания в бантустанах были очень тяжёлые; зачастую там не было электричества, больниц. Режим апартеида представлял собой наследие колониальных времён.

В 1952 г. Мандела стал одним из организаторов Кампании неповиновения против апартеида, за что был арестован. В 1961 г. Мандела присоединился к вооружённому крылу Африканского национального конгресса, участвовавшего в партизанской войне против режима апартеида. Вскоре он был арестован и приговорён к пожизненному лишению свободы. Мандела находился в заключении с 1964 по 1990 г. К этому времени правительство ЮАР начало политику отказа от апартеида. На состоявшихся в 1994 г. выборах Африканский национальный конгресс получил большинство голосов, Мандела стал президентом ЮАР.

## 17) Ближневосточный конфликт

### Первая картинка

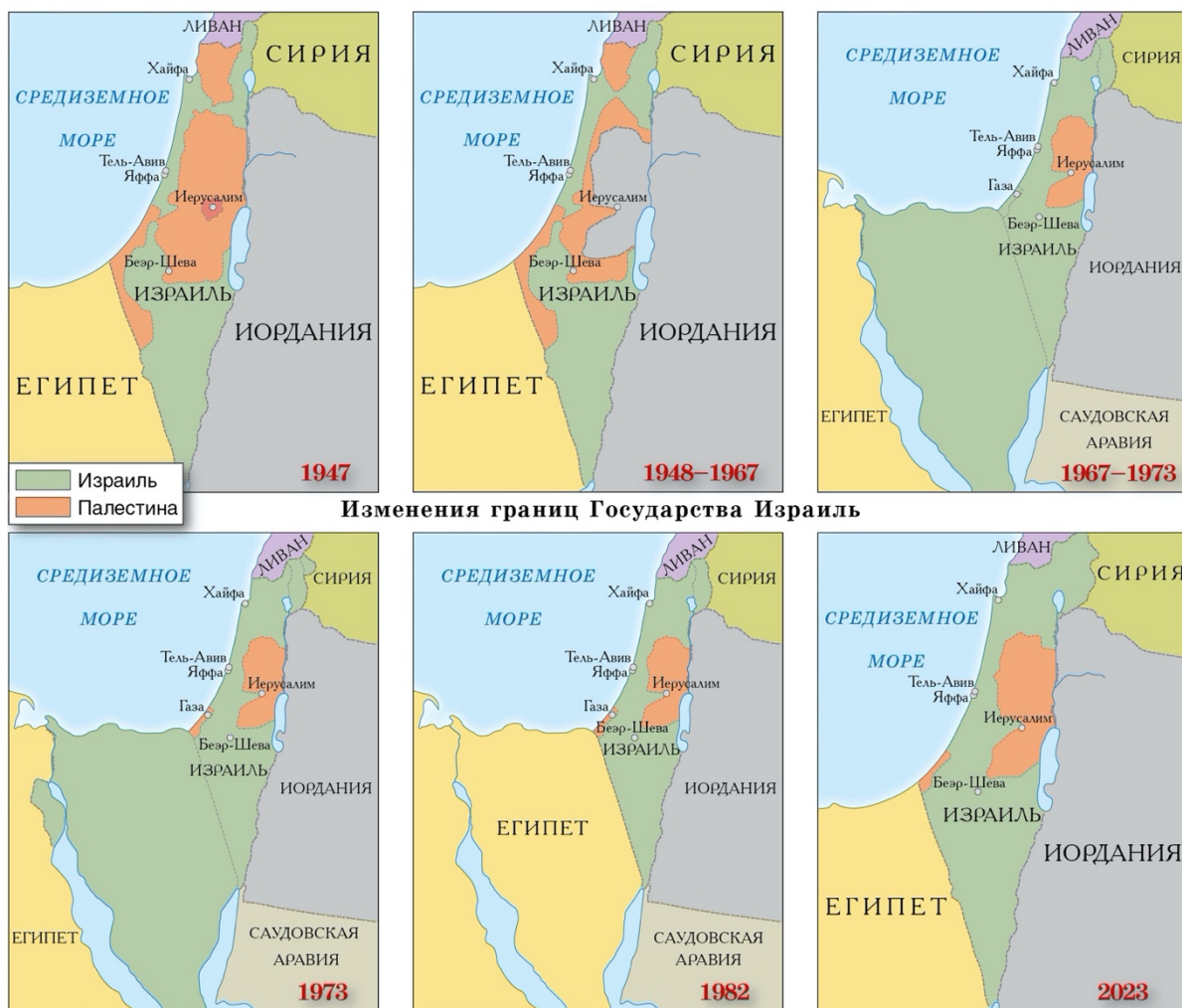


Рисунок 193 – Картограммы «Развитие ближневосточного кризиса»

Задания к этим картограммам:

**ПОРАЗМЫШЛЯЙТЕ**

- Проследите, как изменились границы Государства Израиль с 1948 г. до наших дней.
- Как вы думаете, какое государство может выступить посредником в урегулировании ближневосточного кризиса?
- Как вы думаете, почему, несмотря на предпринятые усилия, ближневосточный кризис не удастся урегулировать?

Всплывающая информация (к каждой из шести картограмм)

1947 г. – Первоначальный вариант. Определен резолюцией ООН от 29 ноября 1947 г. Резолюция ООН предусматривала создание в Палестине двух государств – арабского (43,5% территории) и еврейского (56,5%).

1948–1967 гг. – Однако сразу после провозглашения образования Государства Израиль началась арабо-израильская война 1948–1949 гг. По ее итогам между Израилем и его соседями де-факто возникли новые границы. Де-юре они назывались «линиями перемирия». Арабское государство так и не было создано, а часть предназначавшейся для него территории перешла под контроль Египта (сектор Газа) и Иордании (Западный берег реки Иордан).

1967–1973 гг. – По итогам Шестидневной войны 1967 г. Израиль отнял Синайский полуостров и сектор Газа у Египта, Западный берег реки Иордан и Восточный Иерусалим – у Иордании и Голанские высоты – у Сирии.

1973 г. – Война Судного дня вновь изменила границы. Израиль занял часть территории Египта за Суэцким каналом, а на севере оккупировал территорию Сирии вплоть до линии в 32-х километрах от Дамаска.

1982 г. – В этом году Израиль полностью вернул Египту оккупированный Синайский полуостров.

2023 г. – За 40 с небольшим лет произошли незначительные территориальные изменения, но о стабильности в регионе говорить не приходится.

Фотодокументы (нужно прикрепить к соответствующим шести картосхемам)



Фотодокументы «Арабо-израильские войны»

Дополнительная карта ко 2-й (1948–1967) картосхеме



Карта «Первая арабо-израильская война 1948–1949 гг.»

Дополнительная карта к картосхеме 3 (1967–1973)



Карта «Шестидневная арабо-израильская война»

## Хронология военных конфликтов на Ближнем Востоке

1948–1949 гг. – Первая арабо-израильская война (Война за независимость).

1967 г. – Шестидневная война.

1967–1970 гг. – Война на истощение (война за возвращение Египтом Синайского полуострова).

1973 г. – Война Судного дня.

1982 г. – Ливанская война.

2006 г. – Вторая Ливанская война.

## Задания



Рабочая картосхема

1. Голанские высоты перешли под контроль Государства Израиль после:
  - а) первой арабо-израильской войны 1948–1949 гг.
  - б) Войны Судного дня 1973 г.
  - в) Ливанской войны 1982 г.
  - г) Шестидневной войны 1967 г.
2. Кэмп-Дэвидские соглашения в 1978 г. Израиль заключил с:
  - а) Сирией
  - б) Ираном
  - в) Иорданией

- г) Египтом
3. Во время Шестидневной войны 1967 г. в состав Объединенной Арабской Республики входила только одна страна, а именно:
- а) Египет
  - б) Сирия
  - в) Иран
  - г) Ливан
4. Кроме Средиземного и Мертвого морей у Израиля есть выход к еще одному морю, а именно:
- а) Эгейскому
  - б) Аравийскому
  - в) Красному
  - г) Черному
5. Территория Палестинской автономии (Палестинской национальной администрации) выделена на картосхеме следующим цветом:
- а) фиолетовым
  - б) розовым
  - в) зеленым
  - г) желтым
6. Соотнесите географические объекты с цифрами, которыми они обозначены на картосхеме:

1.	А. Сектор Газа
2.	Б. Синайский полуостров
3.	В. Западный берег реки Иордан
4.	Г. Голанские высоты

1Г 2В 3А 4Б

## 18) Национально-территориальное размежевание в СССР 1922–1956 гг.



Карта «Образование СССР»



Картосхема «Национально-государственное размежевание Средней Азии»

## 19) Страны Центральной и Юго-Восточной Европы в конце XX в.



### Политическая карта Европы

Распад Социалистической Федеративной Республики Югославии (СФРЮ)



### Распад Югославии





Картосхема «Распад Чехословакии»

## 20) Создание и рост Европейского союза. Расширение НАТО



Политическая карта Европы до 1991 г.



Политическая карта современной Европы



Карта «Европейское экономическое сообщество в 1957 г.»



Карта «Европейское экономическое сообщество в 1973 г.»



Карта «Европейское экономическое сообщество в 1981 г.»



**Европейское экономическое сообщество  
1986**

- Бельгия
- Западная Германия (ФРГ)
- Италия
- Люксембург
- Нидерланды
- Франция
- Великобритания
- Дания
- Ирландия
- Греция
- Испания
- Португалия

Карта «Европейское экономическое сообщество в 1986 г.»



**Европейское экономическое сообщество  
1990**

- Бельгия
- Западная Германия (ФРГ)
- Италия
- Люксембург
- Нидерланды
- Франция
- Великобритания
- Дания
- Ирландия
- Греция
- Испания
- Португалия
- Восточная Германия (бывшая ГДР) и Западный Берлин

Карта «Европейское экономическое сообщество в 1990 г.»



**Европейский союз  
1995**

- Бельгия
- Италия
- Люксембург
- Нидерланды
- Франция
- Великобритания
- Дания
- Ирландия
- Греция
- Испания
- Португалия
- Германия
- Австрия
- Финляндия
- Швеция

Карта «Европейский союз в 1995 г.»



**Европейский союз  
2004**

- Бельгия
- Италия
- Люксембург
- Нидерланды
- Франция
- Великобритания
- Дания
- Ирландия
- Греция
- Испания
- Португалия
- Германия
- Австрия
- Финляндия
- Швеция
- Венгрия
- Кипр
- Латвия
- Литва
- Мальта
- Польша
- Словакия
- Словения
- Чехия
- Эстония

Карта «Европейский союз в 2004 г.»



Рисунок 212 – Карта «Европейский союз в 2007 г.»



Карта «Европейский союз в 2013 г.»



### Европейский союз 2020

Бельгия  
Италия  
Люксембург  
Нидерланды  
Франция  
Дания  
Ирландия  
Греция  
Испания  
Португалия  
Германия  
Австрия  
Финляндия  
Швеция  
Венгрия  
Кипр  
Латвия  
Литва  
Мальта  
Польша  
Словакия  
Словения  
Чехия  
Эстония  
Болгария  
Румыния  
Хорватия

Карта «Европейский союз в 2020 г.»



### НАТО (Организация Североатлантического договора)

4 апреля 1949 г.

Бельгия  
Великобритания  
Дания  
Исландия  
Италия  
Канада  
Люксембург  
Нидерланды  
Норвегия  
Португалия  
США  
Франция

Карта «НАТО в 1949 г.»



**НАТО  
 (Организация  
 Североатлантического  
 договора)**

**1952 г.**

Первое расширение

- Бельгия
- Великобритания
- Дания
- Исландия
- Италия
- Канада
- Люксембург
- Нидерланды
- Норвегия
- Португалия
- США
- Франция
- Греция
- Турция

Карта «НАТО в 1952 г.»



**НАТО  
 (Организация  
 Североатлантического  
 договора)**

**1955 г.**

Второе расширение

- Бельгия
- Великобритания
- Дания
- Исландия
- Италия
- Канада
- Люксембург
- Нидерланды
- Норвегия
- Португалия
- США
- Франция
- Греция
- Турция
- Западная Германия (ФРГ)

Карта «НАТО в 1955 г.»





**НАТО  
(Организация  
Североатлантического  
договора)**

**1982 г.**

Третье расширение

- Бельгия
- Великобритания
- Дания
- Исландия
- Италия
- Канада
- Люксембург
- Нидерланды
- Норвегия
- Португалия
- США
- Франция
- Греция
- Турция
- Западная Германия (ФРГ)
- Испания

Карта «НАТО в 1982 г.»



**НАТО  
(Организация  
Североатлантического  
договора)**

**1999 г.**

Четвертое расширение

- Бельгия
- Великобритания
- Дания
- Исландия
- Италия
- Канада
- Люксембург
- Нидерланды
- Норвегия
- Португалия
- США
- Франция
- Греция
- Турция
- Германия
- Испания
- Венгрия
- Польша
- Чехия

Карта «НАТО в 1999 г.»



Карта «НАТО в 2004 г.»



Карта «НАТО в 2009 г.»

**НАТО  
(Организация  
Североатлантического  
договора)**

**2004 г.**

Пятое расширение

- Бельгия
- Великобритания
- Дания
- Исландия
- Италия
- Канада
- Люксембург
- Нидерланды
- Норвегия
- Португалия
- США
- Франция
- Греция
- Турция
- Германия
- Испания
- Венгрия
- Польша
- Чехия

**НАТО  
(Организация  
Североатлантического  
договора)**

**2009 г.**

Шестое расширение

- Бельгия
- Великобритания
- Дания
- Исландия
- Италия
- Канада
- Люксембург
- Нидерланды
- Норвегия
- Португалия
- США
- Франция
- Греция
- Турция
- Германия
- Испания
- Венгрия
- Польша
- Чехия
- Болгария
- Латвия
- Литва
- Румыния
- Словакия
- Словения
- Эстония
- Албания
- Хорватия



**НАТО  
(Организация  
Североатлантического  
договора)**

**2017 г.**

Седьмое расширение

- Бельгия
- Великобритания
- Дания
- Исландия
- Италия
- Канада
- Люксембург
- Нидерланды
- Норвегия
- Португалия
- США
- Франция
- Греция
- Турция
- Германия
- Испания
- Венгрия
- Польша
- Чехия
- Болгария
- Латвия
- Литва
- Румыния
- Словакия
- Словения
- Эстония
- Албания
- Хорватия
- Черногория

Карта «НАТО в 2017 г.»



**НАТО  
(Организация  
Североатлантического  
договора)**

**2020 г.**

Восьмое расширение

- Бельгия
- Великобритания
- Дания
- Исландия
- Италия
- Канада
- Люксембург
- Нидерланды
- Норвегия
- Португалия
- США
- Франция
- Греция
- Турция
- Германия
- Испания
- Венгрия
- Польша
- Чехия
- Болгария
- Латвия
- Литва
- Румыния
- Словакия
- Словения
- Эстония
- Албания
- Хорватия
- Черногория
- Северная Македония

Карта «НАТО в 2020 г.»



**НАТО  
(Организация  
Североатлантического  
договора)**

**2023 г.**

Девятое расширение

- Бельгия
- Великобритания
- Дания
- Исландия
- Италия
- Канада
- Люксембург
- Нидерланды
- Норвегия
- Португалия
- США
- Франция
- Греция
- Турция
- Германия
- Испания
- Венгрия
- Польша
- Чехия
- Болгария
- Латвия
- Литва
- Румыния
- Словакия
- Словения
- Эстония
- Албания
- Хорватия
- Черногория
- Северная Македония
- Финляндия

Карта «НАТО в 2023 г.»